

Matemáticas 2º de Primaria

lamochilapaulina.blogspot.com



1. Completa.



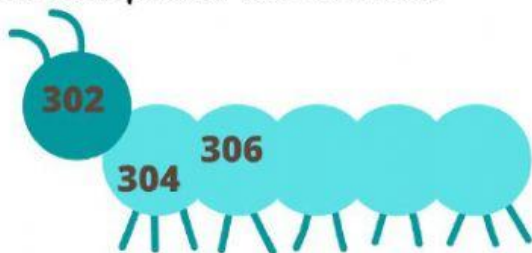
$$4C + 2D + 9U = \square + \square + \square = \square$$

$$5C + 7D = \square + \square = \square$$

$$3C + 9D + 5U = \square + \square + \square = \square$$

$$2C + 7U = \square + \square = \square$$

2. Completa las series.



lamochilapaulina.blogspot.com



Matemáticas

2º de Primaria

lamochilapaulina.blogspot.com



3. Completa.

2m y 59 cm = cm + cm = cm

1m y 12 cm = cm + cm = cm

4m y 8 cm = cm + cm = cm

7m y 40 cm = cm + cm = cm



4. Elige la unidad de medida correcta para medir estos objetos.

- la altura de una torre.



- un bolígrafo.



- un libro.



- un árbol.



5. Resuelve este problema.

En un colegio hay 327 niños y 246 niñas.

¿Cuántos alumnos hay en el colegio?

Hay

alumnos en el colegio.



lamochilapaulina.blogspot.com