






LAS MONEDAS: CÉNTIMOS

Como ya sabéis para comprar cosas podemos utilizar billetes y monedas. Hay monedas de euros (€) y monedas de céntimos de euros (cént.).
1 céntimo vale menos que un 1 euro. $1 \text{ €} = 100 \text{ cént.}$
Nosotros comenzaremos trabajando con las monedas de céntimo.



Fíjate en las monedas que hay, súmalas y une con el resultado correspondiente.

	52 céntimos
	41 céntimos
	13 céntimos
	25 céntimos
	30 céntimos

Lo complicamos un poco más. ¡¡TÚ PUEDES!!



95 céntimos

94 céntimos

97 céntimos

96 céntimos

93 céntimos