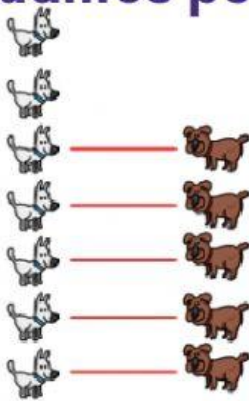
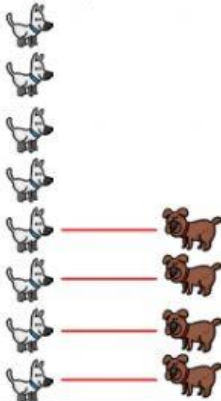


RESOLUCIÓN DE PROBLEMAS

1. ¿Cuántos perros blancos hay más que perros marrones?




Hay ---- perros blancos más que marrones.



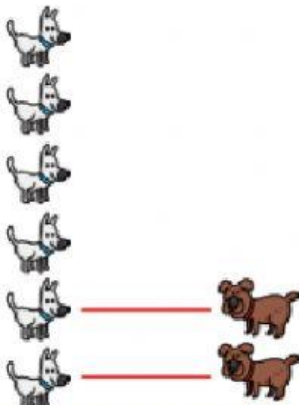
Hay ---- perros blancos más que marrones.



2. ¿Cuántos perros marrones hay menos que perros blancos?

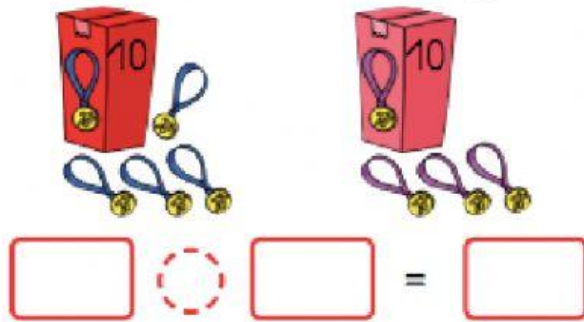


Hay ---- perros marrones menos que blancos.



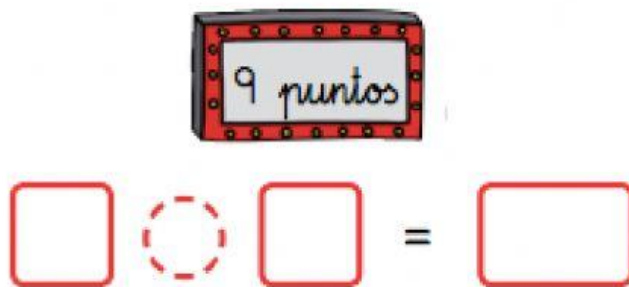
Hay ---- perros marrones menos que blancos.

1. Ana ha ganado 14 medallas y Carlos 13.
¿Cuántas medallas han ganado en total?



En total han ganado _____ medallas.

2. Tengo 9 puntos y he conseguido 6 más.
¿Cuántos puntos tengo ahora?



En total tengo _____ puntos.

3. He conseguido 11 puntos en cada juego.
¿Cuántos puntos tengo en total?



En total tengo _____ puntos.