

1. Bangun ruang yang mempunyai selimut berupa persegi panjang yaitu ....

- A. kubus
- B. kerucut
- C. tabung
- D. balok

2. Bangun prisma segilima mempunyai rusuk sebanyak ... buah.

- A. 10
- B. 12
- C. 15
- D. 18

3. Bangun prisma segitiga mempunyai sisi sebanyak ... buah.

- A. 3
- B. 4
- C. 5
- D. 6

4. Bangun ruang yang tidak bisa digambarkan jaring jaringnya adalah....

- A. kerucut
- B. bola
- C. tabung
- D. silinder

5. Bangun ruang kerucut mempunyai titik sudut sebanyak ... buah.

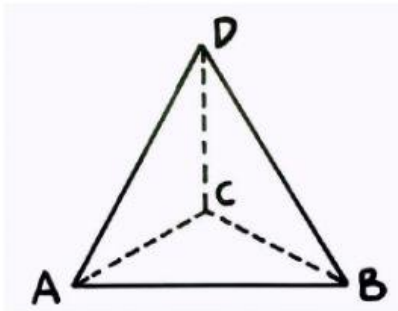
- A. 0
- B. 1
- C. 2
- D. 3

6. Bangun ruang limas segi empat mempunyai rusuk sebanyak .... buah.

- A. 5
- B. 6
- C. 7

D. 8

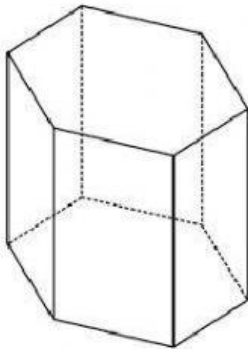
7. Perhatikan gambar di bawah ini!



Nama bangun di atas adalah ....

- A. prisma segitiga
- B. prisma segiempat
- C. limas segitiga
- D. limas segiempat

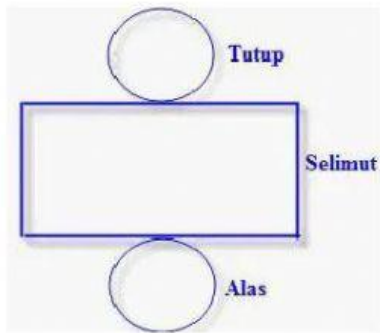
8. Perhatikan bangun di bawah ini!



Banyak titik sudut dan sisi bangun ruang di atas adalah .... buah.

- A. 8 dan 10
- B. 8 dan 12
- C. 12 dan 8
- D. 12 dan 18

9. Perhatikan gambar di bawah ini!



Prisma - Prisma Terapan

Gambar di atas merupakan jaring jaring dari bangun ....

- A. kerucut
- B. tabung
- C. prisma
- D. limas

10. Bangun ruang yang memiliki selimut berbentuk juring lingkaran yaitu ....

- A. bola
- B. kerucut
- C. tabung
- D. limas