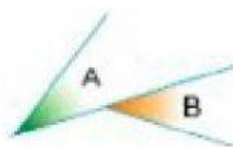


ÁNGULOS SEGÚN SU POSICIÓN Y SU SUMA

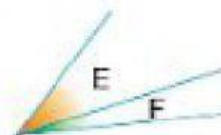
1. ¿Cómo son estos ángulos según su posición? Escoge la opción correcta.



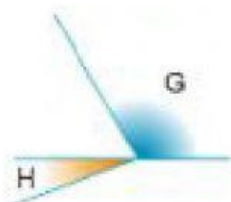
.....



.....



.....

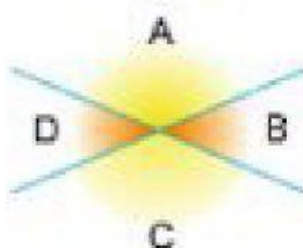


.....



.....

2. Observa el dibujo y contesta:



¿Cómo son los ángulos A y B?

¿Cómo son los ángulos A y C?

.

¿Cómo son los ángulos C y D?

¿Cómo son los ángulos D y B?

3. Responde a las preguntas:

Si el ángulo A mide 110° , ¿cuánto mide el ángulo C?

Si el ángulo A mide 110° , ¿cuánto mide el ángulo B?

Si el ángulo A mide 110° , ¿cuánto mide el ángulo D?