

# LATIHAN INTERAKTIF

Tandakan (✓) pada jawapan yang betul.

*Tick (✓) the correct answer.*

- 1 Bundarkan 85 kepada puluh yang terdekat.

*Round off 85 to the nearest ten.*

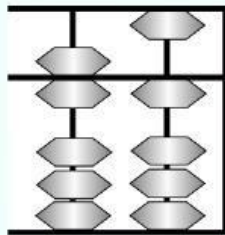
70	<input type="checkbox"/>
80	<input type="checkbox"/>
90	<input type="checkbox"/>

- 2 7 sa 5 puluh =

*7 ones 5 tens*

75	<input type="checkbox"/>
57	<input type="checkbox"/>
55	<input type="checkbox"/>

- 3



Apakah nombor yang diwakili oleh dekad ini?

*What number does this abacus represent?*

58	<input type="checkbox"/>
61	<input type="checkbox"/>
65	<input type="checkbox"/>

- 4



Apakah nombor yang tertinggal?

*What number is missing?*

70	<input type="checkbox"/>
50	<input type="checkbox"/>
20	<input type="checkbox"/>

- 5  $84 + 9 =$

85	<input type="checkbox"/>
93	<input type="checkbox"/>
95	<input type="checkbox"/>

- 6 Nina ada 58 butir manik. Lau beri 33 butir manik lagi kepadanya. Berapa butir manik semuanya?

*Nina has 58 beads. Lau gives another 33 beads. How many are Nina's beads altogether?*

70	<input type="checkbox"/>
80	<input type="checkbox"/>
91	<input type="checkbox"/>

- 7  $90 - 25 - 6 =$

42	<input type="checkbox"/>
55	<input type="checkbox"/>
59	<input type="checkbox"/>

- 8  $10 + 30 + 40 =$

70	<input type="checkbox"/>
80	<input type="checkbox"/>
90	<input type="checkbox"/>


- 9 Berapa perlu ditambah kepada 26 supaya jadi 80?

*How many should be added to 26 to make 80?*

48	<input type="checkbox"/>
54	<input type="checkbox"/>
64	<input type="checkbox"/>

- 10 Pecahan kawasan berlorek di bawah menunjukkan

*The fraction of the shaded region below shows*



separuh. <i>half.</i>	
suku. <i>quarter.</i>	
satu pertiga. <i>three quarter.</i>	

**Soalan 11 dan 12**

*Questions 11 and 12*

Jadual ini menunjukkan bilangan murid dalam tiga kelas Tahun 1.

*The table below shows the number of pupils in three classes of Year 1.*

Kelas <i>Class</i>	Cerdik	Pintar	Arif
Bilangan murid <i>Number of pupils</i>	31	38	27

- 11 Jumlah murid dalam ketiga-tiga kelas itu ialah

*Total number of pupils in the three classes is*

88	
92	
96	

- 12 Beza bilangan murid kelas Cerdik dengan bilangan murid kelas Arif ialah

*The difference in number of pupils between class Cerdik and Arif is*

2	
3	
4	

- 13 68 dalam perkataan ialah *in words is*

enam puluh tujuh. <i>sixty-seven.</i>	
enam puluh lapan. <i>sixty-eight.</i>	
tujuh puluh enam. <i>seventy-six.</i>	

- 14 Antara nombor-nombor berikut, yang manakah disusun mengikut urutan menurun?

*Which number sequence below shows descending order?*

80, 79, 23, 18	
23, 70, 83, 55	
70, 48, 57, 63	

- 15



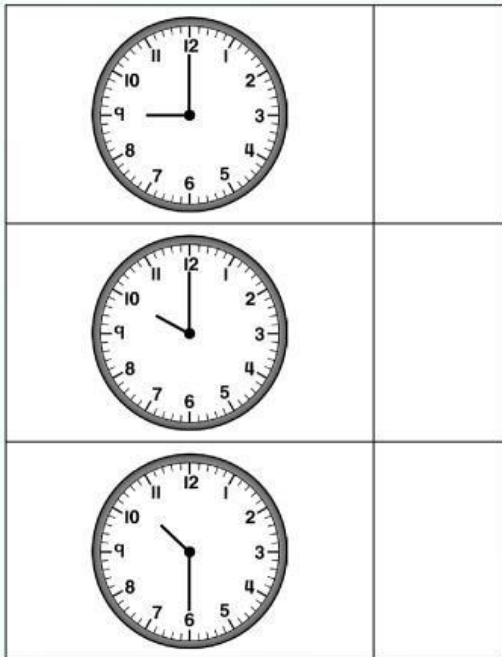
Jumlah wang di atas ialah

*Total amount of money above is*

RM6	
RM7	
RM8	

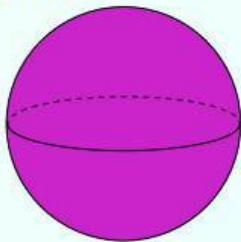
**16** Muka jam yang manakah menunjukkan pukul 10:30?

*Which clock face shows 10:30?*



**17** Bentuk di bawah ialah sebuah


*The shape below is a*



silinder <i>cylinder</i>	
kon <i>cone</i>	
sfera <i>sphere</i>	

**18** Haiwan manakah paling berat?


*Which animal is the heaviest?*



Lembu <i>Cow</i>	
Itik <i>Duck</i>	
Kucing <i>Cat</i>	

**19** Bikar yang manakah menunjukkan separuh penuh?

*Which beaker is half full?*



20 Lengkapkan.

*Complete it.*

keping  = RM3.  
*pieces*

3	
20	
30	

21 Hasil tambah yang manakah paling banyak?

*Which sum is the highest?*

$7 + 27 + 44$	
$60 + 11 + 12$	
$70 + 4 + 14$	

22

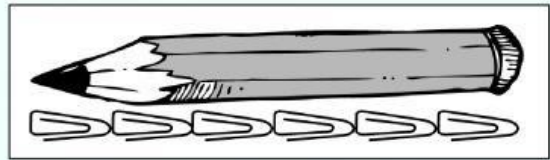


Kira jumlah wang di atas.

*Calculate the total amount of money shown above.*

RM2	
RM3	
RM4	

23



Panjang pensel di atas ialah sama dengan panjang \_\_\_\_ klip kertas.

*The length of the pencil above is equal to the length of \_\_\_\_ paper clips.*

6	
8	
9	