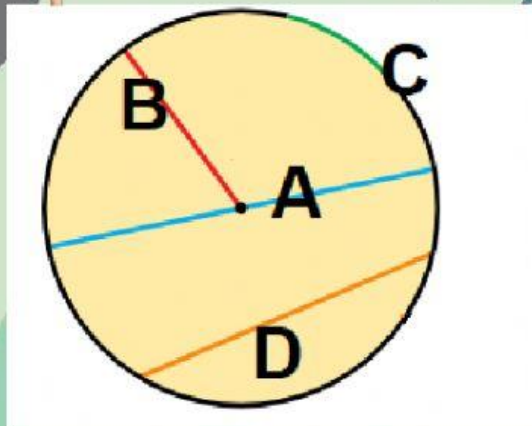


EL CÍRCULO Y LAS FIGURAS CIRCULARES

1 Escribe los elementos de este círculo. (Escribe en minúscula y cuidado con los acentos)



A= _____

B= _____

C= _____

D= _____

2

¿De qué figura circular se trata?
Relaciona cada imagen con la definición correspondiente.



Es la parte del círculo limitada por dos circunferencias que tienen el mismo centro (concéntricas):



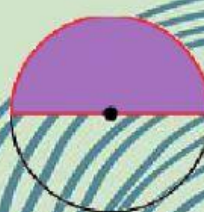
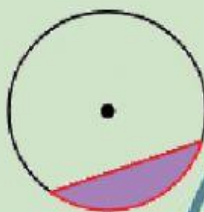
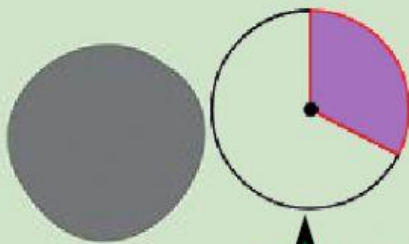
Es la mitad del círculo. Está limitado por un diámetro y una de sus semicircunferencias.



Es la parte del círculo limitada por dos radios y uno de sus arcos.



Es la parte del círculo limitada por una cuerda y uno de sus arcos.



3

Si trazas un diámetro, ¿Cuántos **semicírculos** puedes colorear?

Si trazas dos radios, ¿Cuántos **sectores circulares** puedes colorear?

Si trazas una cuerda, ¿Cuántos **segmentos** **circulares** puedes colorear?

El **semicírculo**, ¿es un **sector circular**?

¿Y un **segmento circular**, es un **sector circular**?