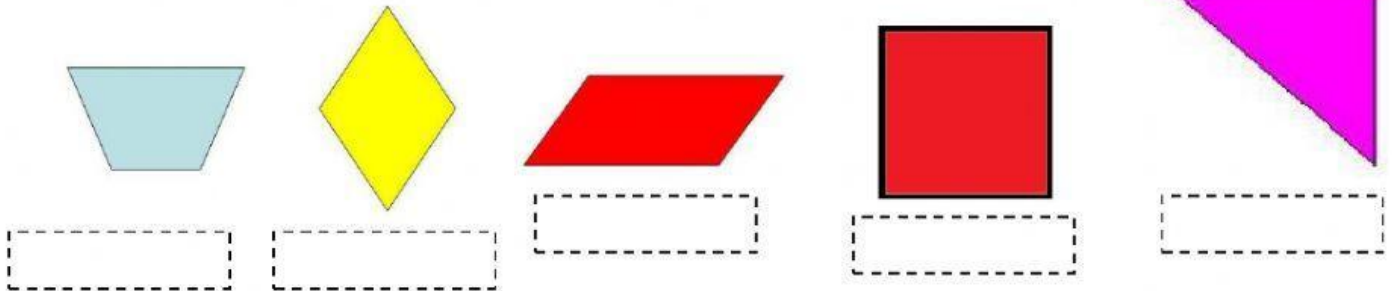


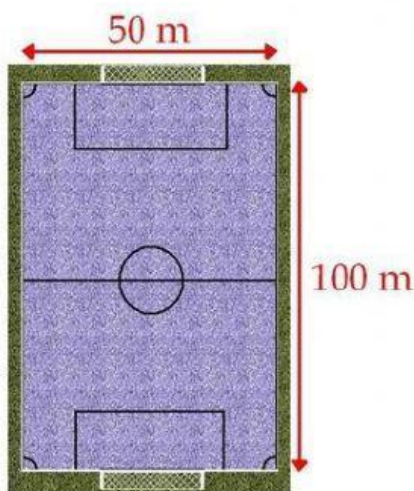
# ÀREAS DEL CUADRADO, RECTÁNGULO, TRIÁNGULO, ROMBO Y TRAPECIO

CALCULAMOS LAS SUPERFICIES DE LOS POLÍGONOS

1. Escribe el nombre de estos polígonos

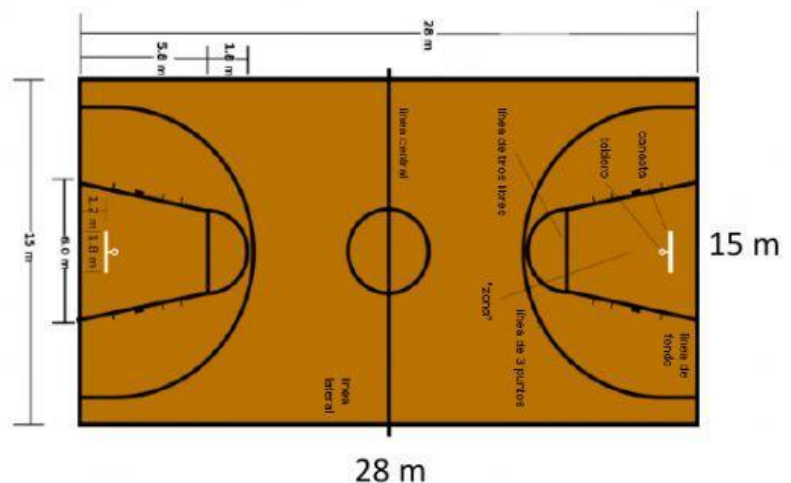


2. Calcula el perímetro y el área del campo de fútbol y de la pista de baloncesto



PERÍMETRO

ÀREA





PERÍMETRO

ÀREA



3. Calcula el área del triángulo y del trapecio, teniendo en cuenta los datos.



**BASE: 5 cm**  
**ALTURA: 2 cm**

5 cm cuadrados

18 cm cuadrados