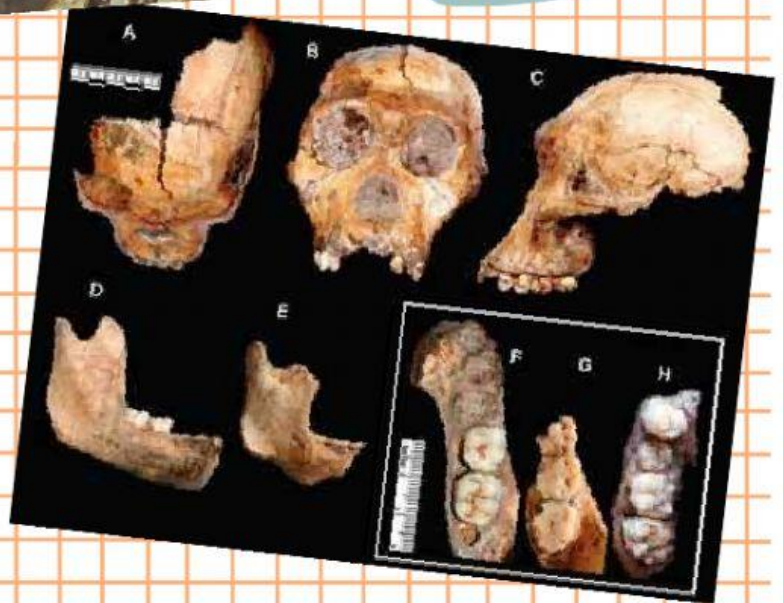



# Latihan Sejarah Peminatan

Kelas X

Manusia Purba di  
Indonesia dan Dunia



**NAMA :**

**KELAS :**

Amalini Lutfia Ozila, S.Pd





**Pasangkan ciri-ciri fisik manusia purba di bawah ini!**

**Memiliki badan tegap dan rahang pengunyah yang kuat**

**Memiliki muka menonjol ke depan dan kening yang tebal**

**Memiliki tonjolan kening agak terputus di tengah (di atas hidung)**

**Memiliki ukuran tubuh dan bentuk muka yang besar**

**Memiliki tinggi badan dibawah 1 meter dan ukuran kepala kecil**

**Pithecanthropus Mojokertensis**

**Meganthropus Paleojavanicus**

**Homo Floresiensis**

**Pithecanthropus Erectus**

**Homo Soloensis**

**Tentukan jawaban yang benar dari peneliti berikut ini!**



**Von Koenigswald**

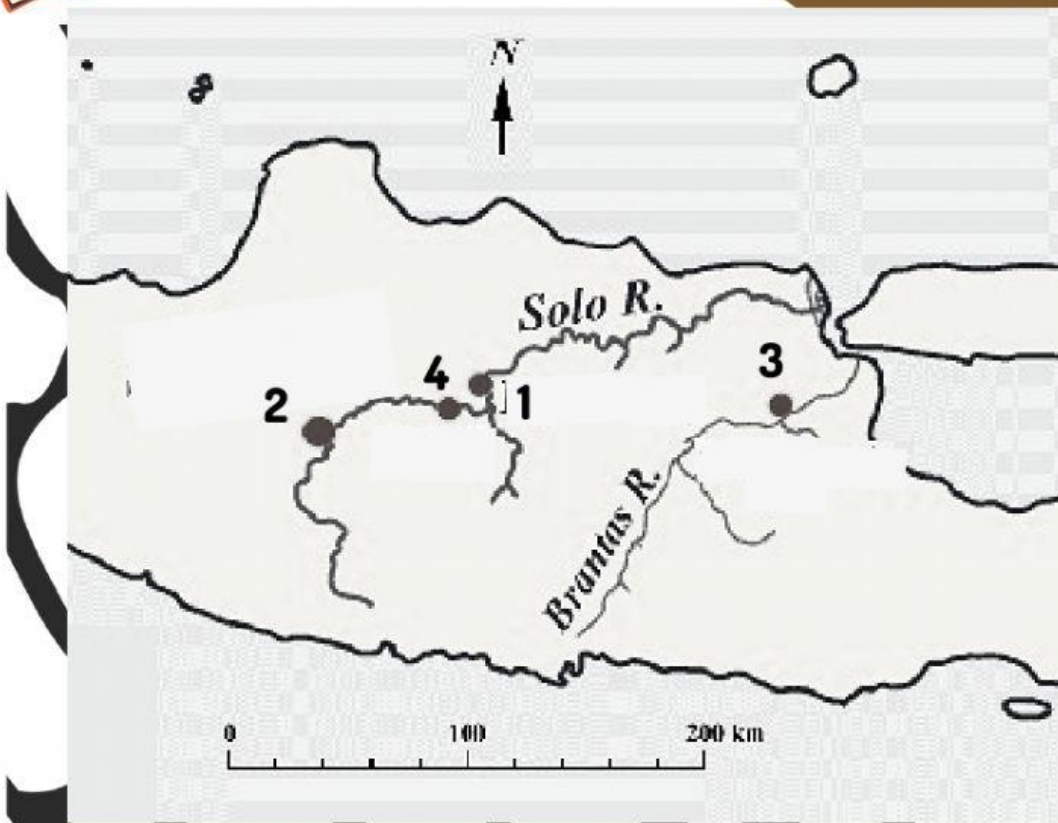


**Eugene Dubois**



**Von Reitschoten**

Tentukan letak dua situs terbesar di Indonesia pada peta di bawah ini!



Situs Sangiran terletak pada nomor

: .....

Situs Trinil terletak pada nomor

: .....

Tentukan jawaban penemuan manusia purba dunia oleh peneliti di bawah ini berdasarkan wilayah ditemukannya!

Penemuan kerangka anak oleh Raymond Dart dengan ciri fisik berjalan tegak seperti manusia

Penemuan fosil oleh Rudolf Virchow dengan ciri fisik menyerupai genus homo (manusia)

Penemuan fosil oleh Davidson Black dengan ciri fisik tonjolan tulang kening yang mencuat

Wilayah Cina

Wilayah Afrika

Wilayah Eropa





Tentukan wilayah penemuan manusia purba pada peta berikut ini, dengan memilih nomor wilayah!



**HOMO NEANDERTHALENSIS**

.....

**AUSTRALOPITECHUS AFRICANUS**

.....

**AUSTRALOPITHECUS BOISEI**

.....

**PITHECHANTHROPUS PEKINENSIS**

.....





**Tentukan nama fosil manusia purba di bawah ini!**



**Tentukan benar/salah pernyataan berikut ini!**

Manusia purba dan manusia modern memiliki persamaan spesies omnivora

**BENAR**

**SALAH**

Manusia purba dan manusia modern memiliki perbedaan dari hal budaya beda otak

**BENAR**

**SALAH**

Manusia purba dan manusia modern memiliki perbedaan dari segi bentuk mata

**BENAR**

**SALAH**

Jika dilihat peradabannya, manusia purba mengandalkan apa yang ada disekitarnya sedangkan manusia modern sudah bisa memanfaatkan yang disediakan alam

**BENAR**

**SALAH**

Jika dilihat sifatnya, manusia purba dan manusia modern sama-sama cenderung hidup mengelompok dengan yang lain sesama spesiesnya

**BENAR**

**SALAH**