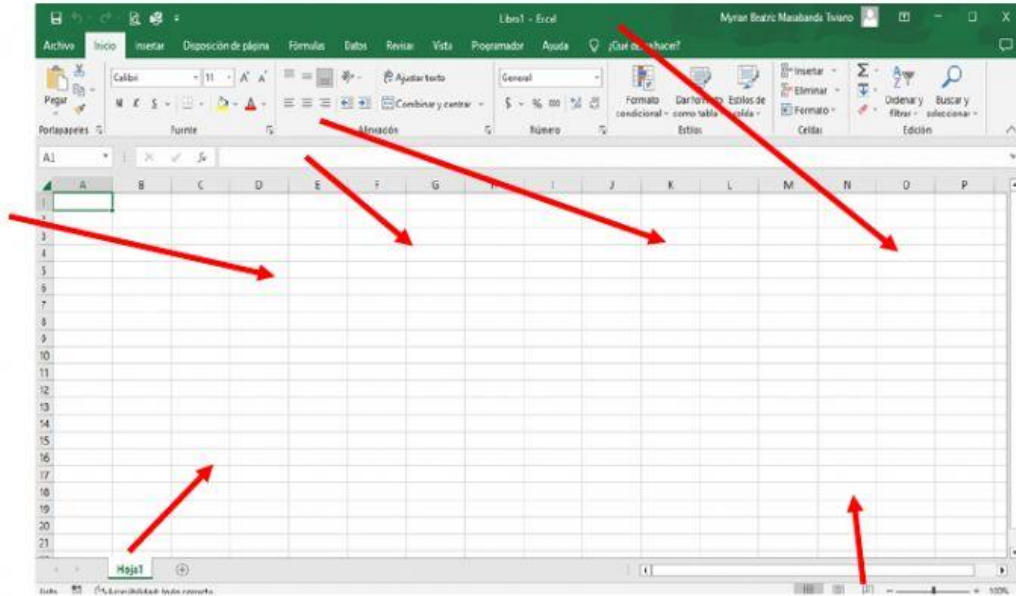


REFORZANDO LO APRENDIDO

1.- UBIQUE LOS NÚMEROS DE LA OPCIÓN CORRECTA SEGÚN CORRESPONDA.



1 - BARRA DE TÍTULO

2 - BARRA DE FORMULAS

3 - HOJA DE CÁLCULO

4 - PESTAÑA DE HOJAS

5 - CINTA DE OPCIONES

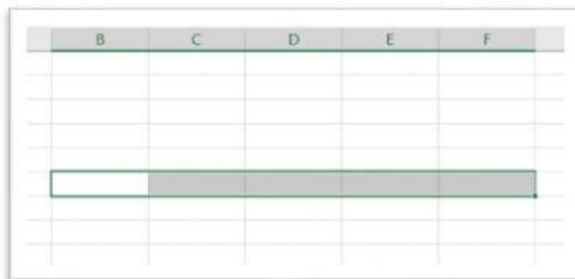
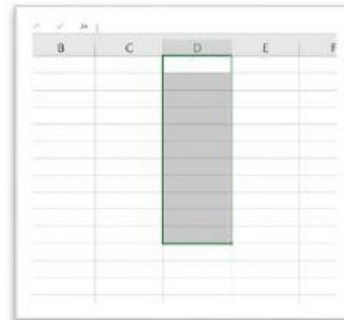
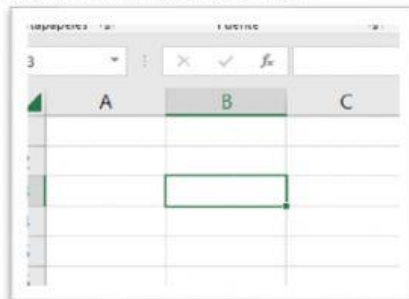
6 - VISTAS

2.- COMPLETE CON LAS PALABRAS DEL RECUADRO SEGÚN CORRESPONDA.

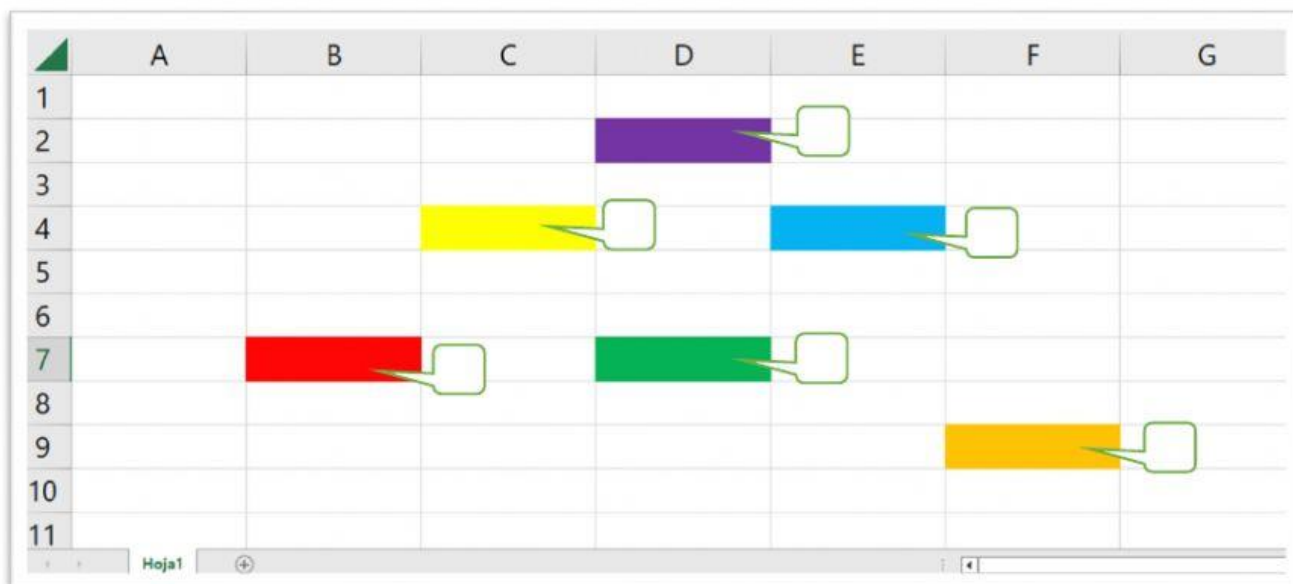
LIBROS HOJAS DE CÁLCULO COLUMNAS TABLAS MICROSOFT OFFICE FILAS

ESTE PROGRAMA ESTA COMPUESTO POR , LOS ARCHIVOS DE EXCEL SE LLAMAN , LAS HOJAS ESTÁN COMPUESTOS POR Y , QUE NOS PERMITE DESARROLLAR Y GRÁFICOS, ES UN PROGRAMA QUE PERTENECE A .

3.- SELECCIONE LA OPCIÓN CORRECTA.



4.- ESCRIBA LA COORDENADA CORRECTA DE LAS CELDAS.



5.- SELECCIONE LA FORMULA CORRECTA DE LOS SIGUIENTES EJERCICIOS.

	C	D	E	F
23		OPERADOR SUMA		
24				
25	37	21	58	
26				
27	8	7	9	24

= C25 + E25

= C27 + D27+ E27

= C25 + D25

= D27 + C27+ E27