

## FORMATIF : MEMBACA HASIL DATA

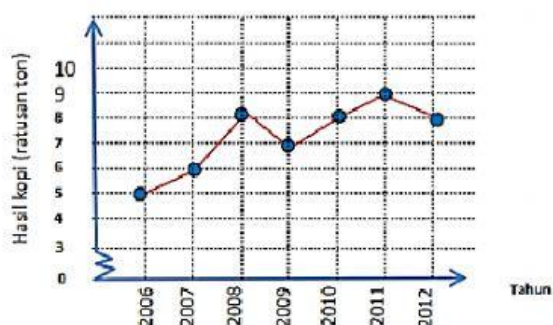
### 1. Tabel = Nilai Sumatif Matematika Kelas VII E

Nilai	Frekuensi
60	2
65	1
70	4
75	4
80	5
85	5
90	2
95	2

Jika KKM = 75, tentukan:

- Jumlah siswa yang ikut remidi adalah ..... anak
- Jumlah siswa yang tidak ikut remidi adalah ..... anak.

### 2. Diagram Garis = Hasil Panen Kopi Desa Hijau



a. Penurunan hasil panen terjadi pada:

1) tahun ... ke tahun ...

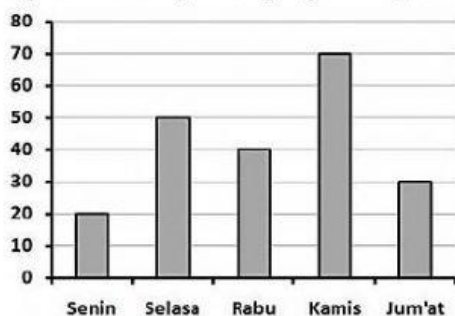
2) tahun ... ke tahun ...

2008      2011

2009      2012

b. Jumlah hasil panen tertinggi adalah ..... ton

### 3. Diagram Batang = Kunjungan Perpustakaan SMP Karya



a. Urutan kunjungan dari yang terbanyak yaitu:

1

2

3

4

5

Senin

Selasa

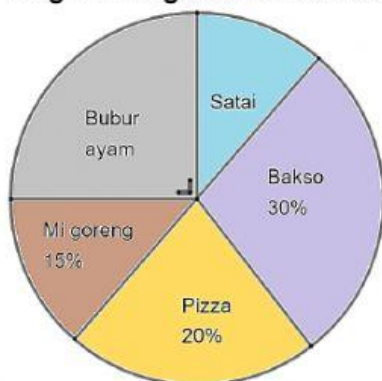
Rabu

Kamis

Jum'at

b. Selisih jumlah kunjungan tertinggi dengan terendah = .....

### 4. Diagram Lingkaran = Makanan Kesukaan Kelas VII E



a. Urutan makanan kesukaan dari yang paling banyak disukai:

1

2

3

4

5

Bubur Ayam

Satai

Bakso

Pizza

Mi Goreng

b. Jika jumlah siswa suka Mi Goreng adalah 6 anak, maka jumlah siswa suka Bakso adalah ..... anak.