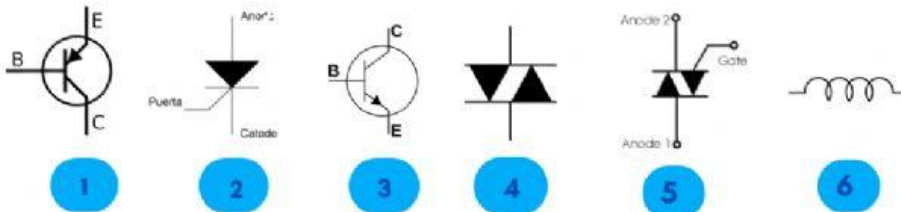




Resuelve el siguiente examen, solo tienes una oportunidad.

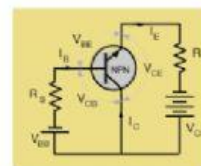
1. Escribe el número que corresponde a cada concepto de acuerdo a la onda senoidal que se muestra (Valor 6 puntos)

- | | |
|---|---|
| <input type="checkbox"/> DIAC | <input type="checkbox"/> SCR |
| <input type="checkbox"/> TRIAC | <input type="checkbox"/> Transistor NPN |
| <input type="checkbox"/> Transistor PNP | <input type="checkbox"/> Bobina |

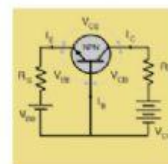


2. En el siguiente ejercicio UNE CON LAPIZ la respuesta correcta (Valor 4 puntos).

Amplificador Base Comun



Amplificador Emisor Comun



Amplificador Colector Comun

