

Tipus d'energia

1. Relaciona cada tipus d'energia amb la seva definició:

L'energia que obtenim del Sol

L'energia que obtenim de l'aigua

L'energia que prové de reaccions nuclears

L'energia que s'obté dels composts orgànics mitjançant processos naturals

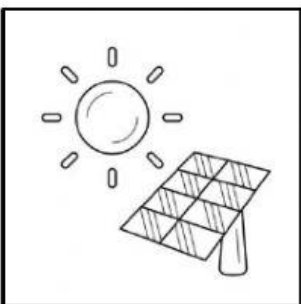
Energia hidràulica

Energia de la biomassa

Energia solar


Energia nuclear

2. Digués si les següents energies són renovables o no renovables:



Renovable

No renovable




Renovable

No renovable



Renovable

No renovable



Renovable

No renovable