




A CONTAR



Cuenta los elementos
y une con el número
correspondiente.



1

2

3

4

5

6

7

8

9

10

