

DEBER 2 - CIENCIAS NATURALES

unidad educativa
kennedy

2022 - 2023

DOCENTE: Lic Verónica Martínez - Lic. Fernanda Méndez

GRADO: Quinto A - B

PARCIAL: Segundo

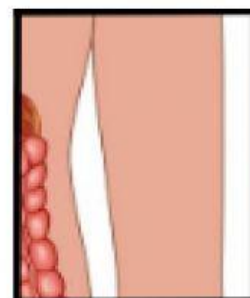
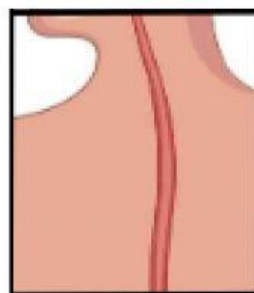
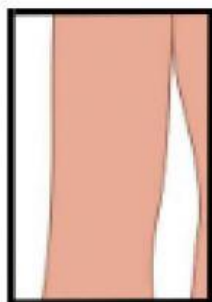
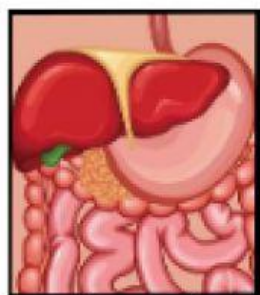
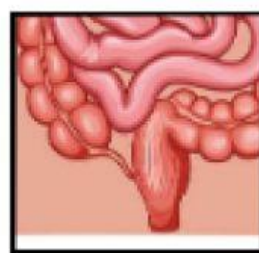
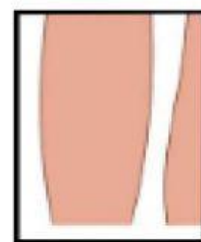
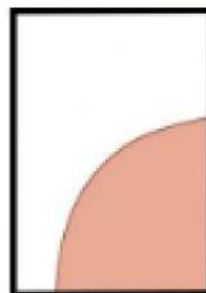
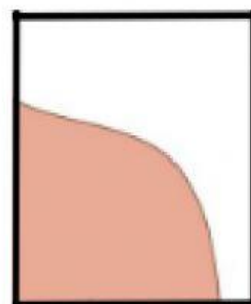
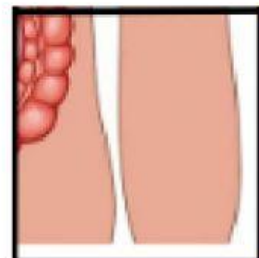
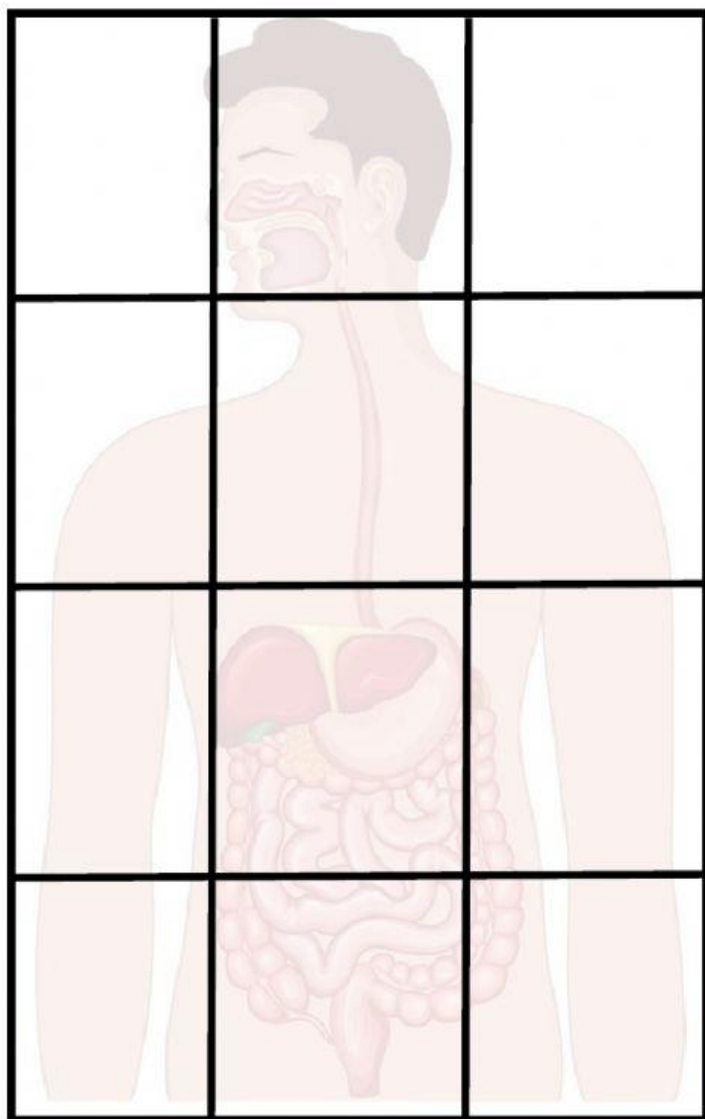
FECHA: ____ de enero del 2023

ESTUDIANTE:

CALIFICACIÓN:



1. Identifique el sistema digestivo y arrastre los órganos según corresponda.



Unidad Educativa Kennedy

Educamos para ser felices

CTP Subnivel Media

LIVEWORKSHEETS

2. Observe la imagen del órgano del sistema digestivo y enlace correctamente con la definición.



Es un ensanchamiento del tubo digestivo en el que se almacena el alimento de forma temporal. El bolo alimenticio se transforma aquí en una sustancia llamada **quimo**.



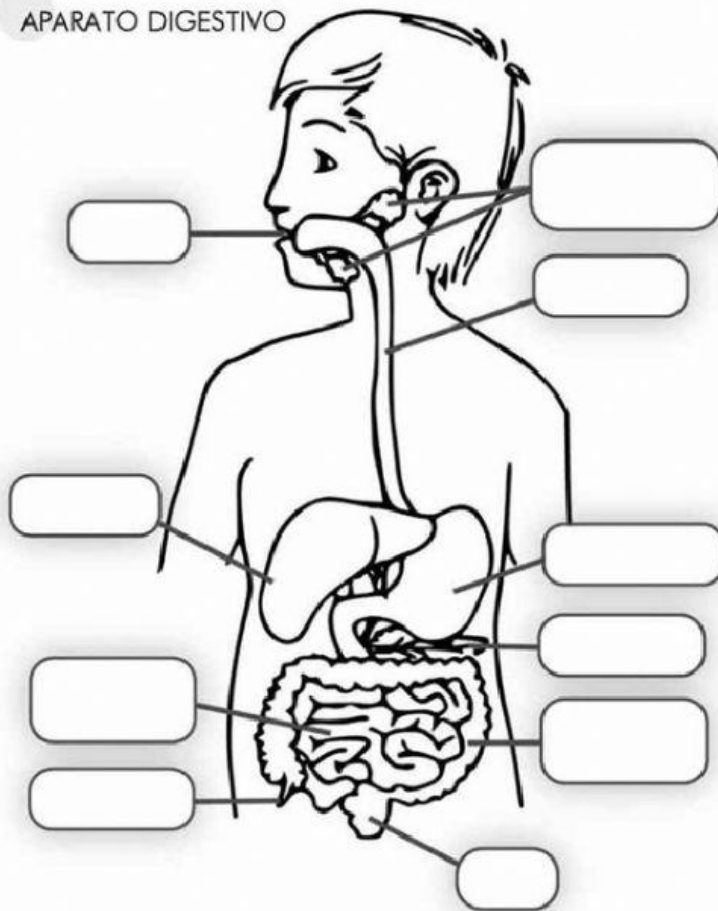
Mide cerca de 8 metros en los adultos, está recubierto por vellosidades intestinales que absorben nutrientes.



Es el órgano donde se absorbe el agua y los nutrientes que no fueron absorbidos en el intestino delgado. El resto de sustancias que no fueron absorbidas ni digeridas pasan al recto para luego ser expulsadas a través del ano en forma de heces.

3. Recuerde el nombre de los órganos del sistema digestivo, elija correctamente cada uno de ellos.

APARATO DIGESTIVO



AUTOEVALUACIÓN
¿Cómo lo hice?

Excelente	Aceptable	Debo mejorar
😊	😊	😊



Unidad Educativa Kennedy

Educamos para ser felices

CTP Subnivel Media