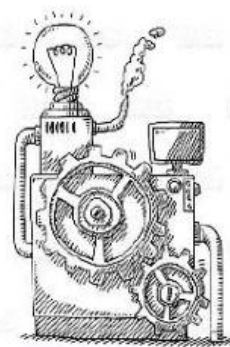


FÁBRICA DE PROBLEMAS

Fecha: _____ Problema N.º: ☐

EL PROBLEMA

Al abuelo de Juan le gustan mucho los animales y, en su casa, tiene una pequeña granja con 3 ovejas y un perro.
Si juntamos todos los animales, ¿cuántas patas tenemos en total?



ANALIZA Y
COMPRENDE

DATOS

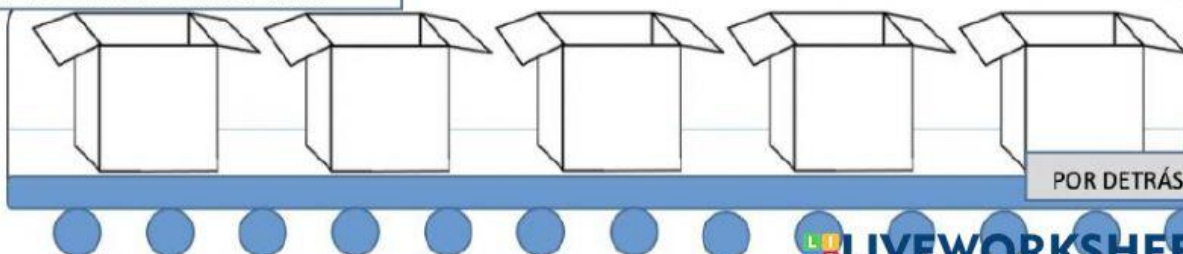
- Lightbulb icon
- _____
- Lightbulb icon
- _____
- Lightbulb icon
- _____
- Lightbulb icon
- _____
- Lightbulb icon
- _____

¿QUÉ ME PREGUNTAN?

¿QUÉ HAY QUE HACER?



¿EN QUÉ ORDEN?



POR DETRÁS

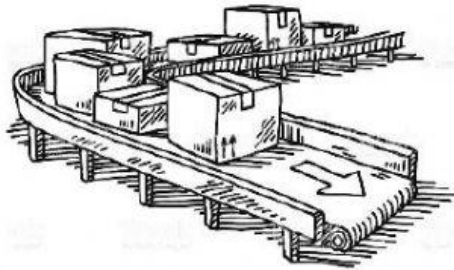
PIENSA

RESUELVE

¿CUÁNTAS OPERACIONES HAY QUE HACER?

Escribe el número de operaciones que hay que hacer:

OPERACIONES



RESULTADO DEL PROBLEMA EN UNA FRASE

LISTA DE COMPROBACIÓN

- ☐ He realizado todas las operaciones que puse en las cajas.
- ☐ Tengo las operaciones bien hechas.
- ☐ He hecho el dibujo.
- ☐ Tengo escritos todos los datos del problema que son necesarios.
- ☐ El orden de realización de las operaciones (cajas) está bien.
- ☐ El resultado del problema está bien.

COMPRUEBA E
INFORMA