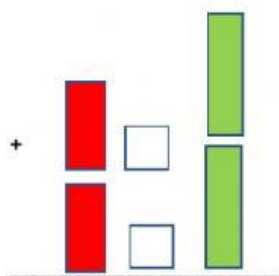
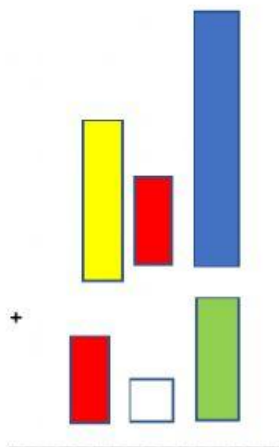
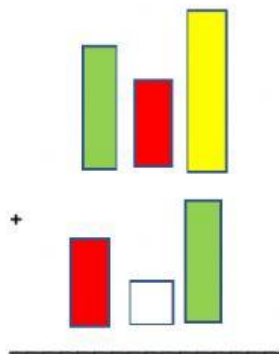
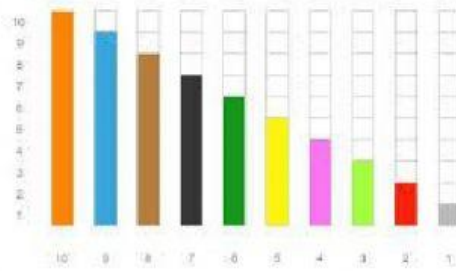


OPERACIONES CON REGLETAS

Haciendo uso de tus regletas resuelve las siguientes operaciones.



Ahora dibuja las regletas necesarias para que respondan las siguientes operaciones

1. $456 + 345 =$

2. $657 + 221 =$

3. $545 + 129 =$

4. $791 + 89 =$