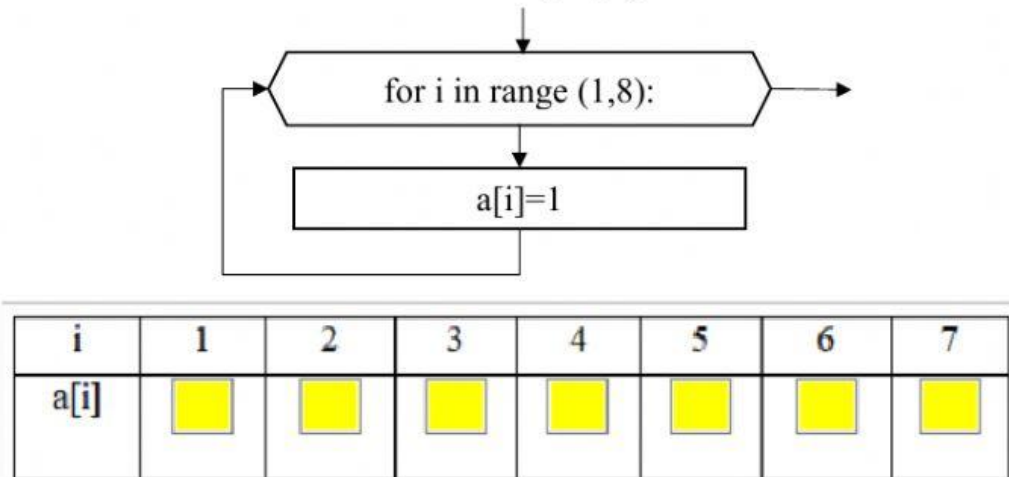


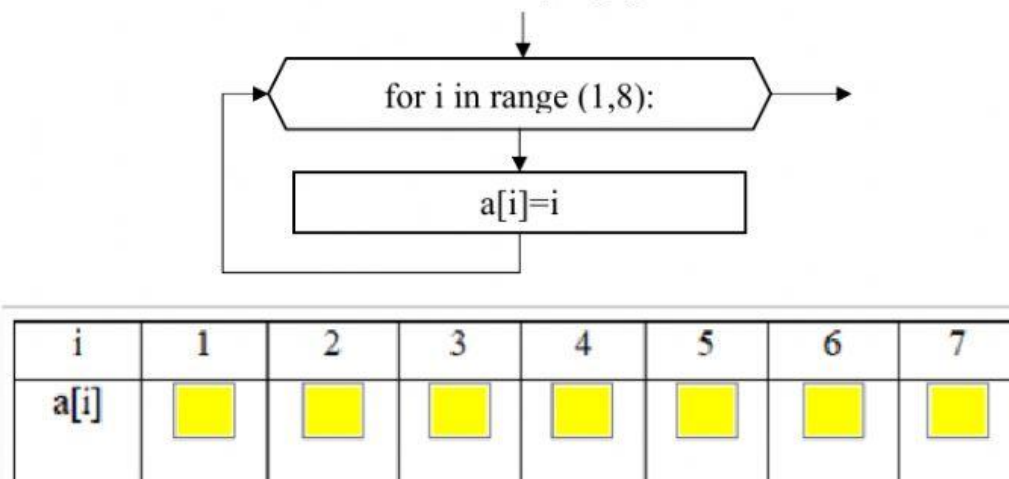
### Завдання 1

Впишіть значення елементів масиву, сформованого в такий спосіб



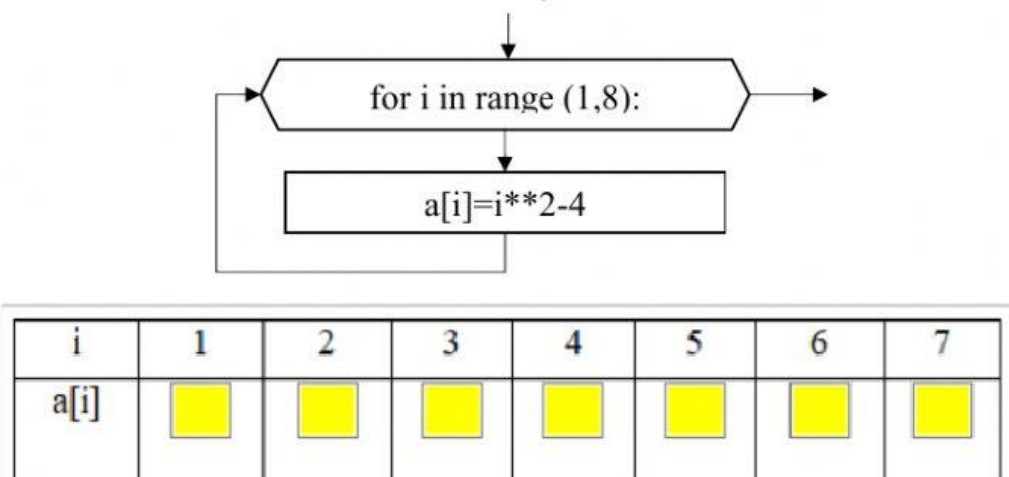
### Завдання 2

Впишіть значення елементів масиву, сформованого в такий спосіб



### Завдання 3

Впишіть значення елементів масиву, обчислені так



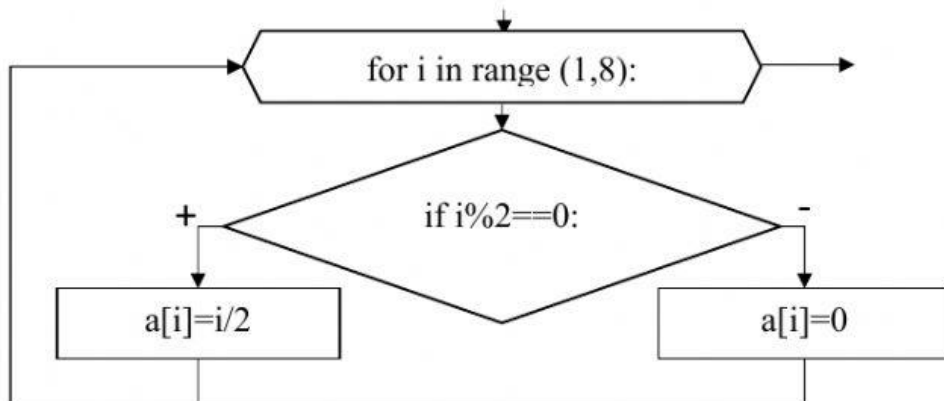
#### Завдання 4

Впишіть значення елементів масиву, сформованого наступним чином:  $a=[3,4,-1,5,0,10,-12]$

i	1	2	3	4	5	6	7
a[i]	<input type="text"/>	<input type="text"/>	<input type="text"/>	<input type="text"/>	<input type="text"/>	<input type="text"/>	<input type="text"/>

#### Завдання 5

Впишіть значення елементів масиву, обчислені так



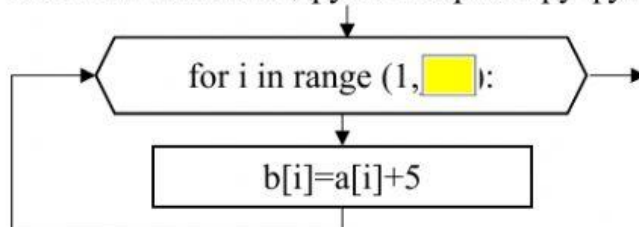
i	1	2	3	4	5	6	7
a[i]	<input type="text"/>	<input type="text"/>	<input type="text"/>	<input type="text"/>	<input type="text"/>	<input type="text"/>	<input type="text"/>

#### Завдання 6

Відомі значення цілочисельного масиву a.

i	1	2	3	4	5	6	7	8
a[i]	2	-1	0	8	-5	10	4	-3

Зазначте значення другого параметру функції

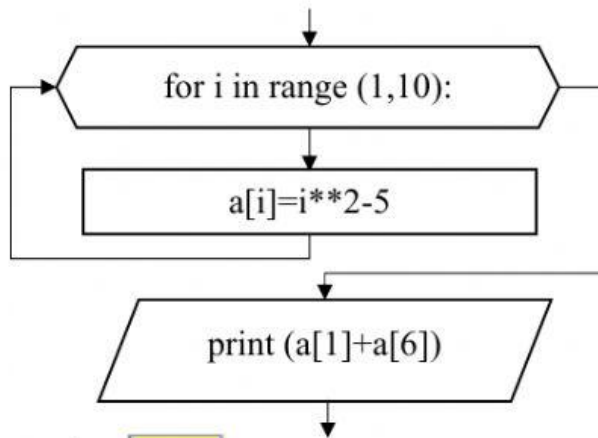


Впишіть значення елементів масиву b, сформованого вказаним чином

i	1	2	3	4	5	6	7	8
b[i]	<input type="text"/>	<input type="text"/>	<input type="text"/>	<input type="text"/>	<input type="text"/>	<input type="text"/>	<input type="text"/>	<input type="text"/>

### Завдання 7

Яке значення буде виведене на екран після роботи з масивом  $a$ , обчисленим в зазначений спосіб?



Відповідь:

### Завдання 8

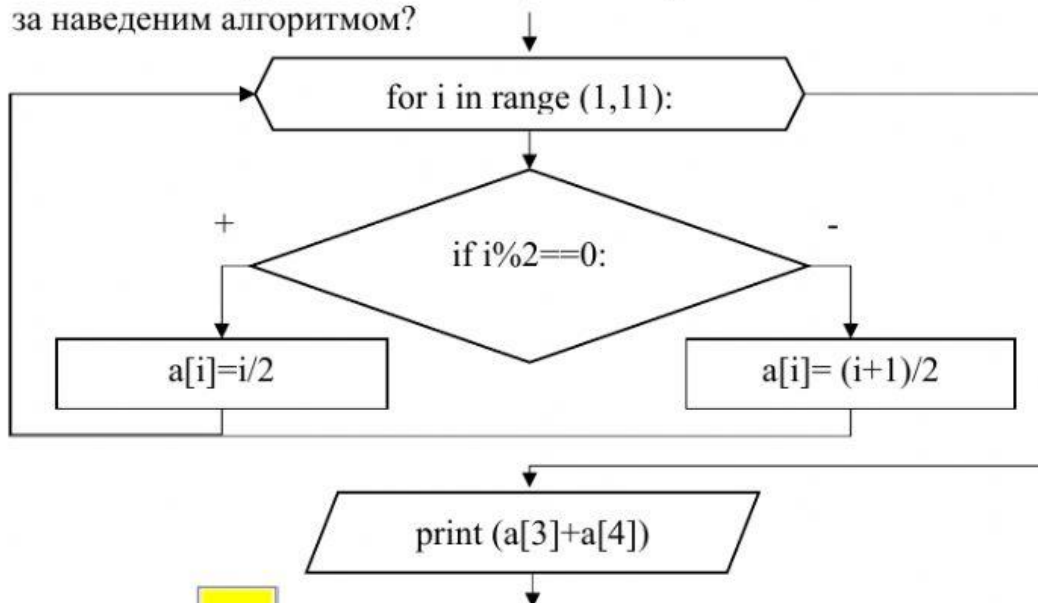
Відомі значення елементів масиву  $a$ . Чому дорівнює значення  $a[a[1]]$ ?

$i$	1	2	3	4	5
$a[i]$	4	1	-5	7	2

Відповідь:

### Завдання 9

Яке значення буде виведене на екран після роботи з масивом  $a$  за наведеним алгоритмом?



Відповідь: