

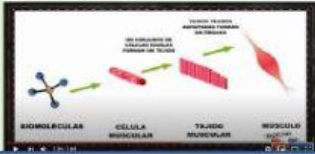
CIENCIAS DE LA NATURALEZA

NUESTRO CUERPO



Antes de comenzar...

Pincha en las imágenes y accede a los vídeos de repaso.



ORGANIZACIÓN CELULAR



FUNCIÓN DE NUTRICIÓN



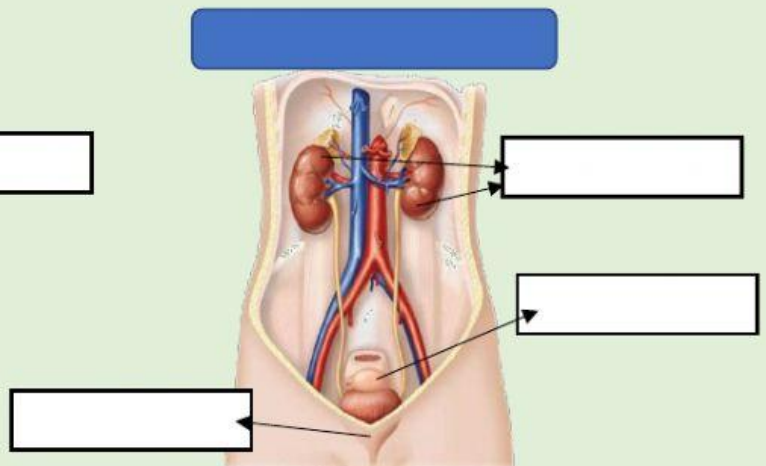
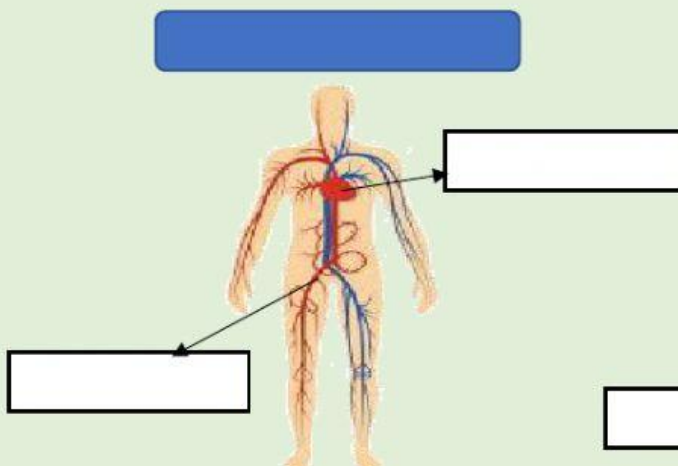
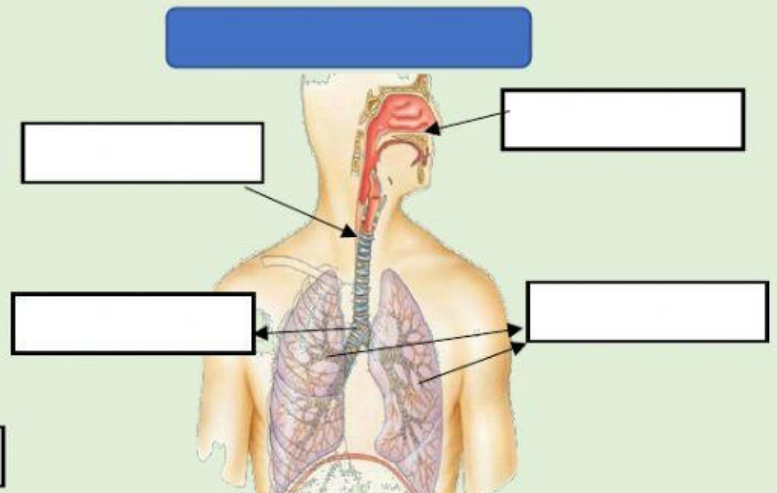
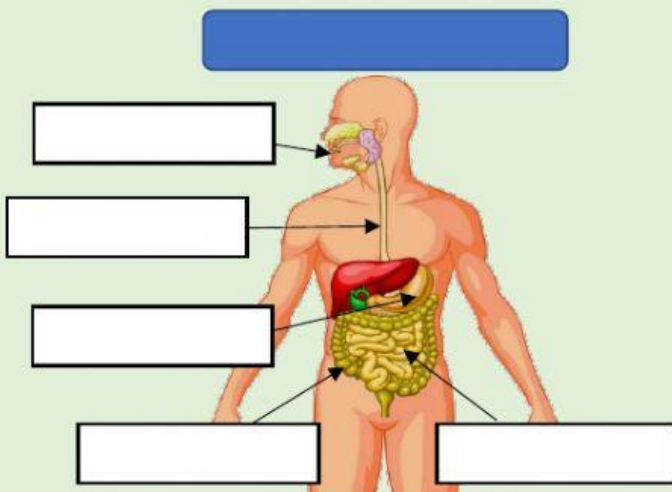
FUNCIÓN DE RELACIÓN



FUNCIÓN DE REPRODUCCIÓN

Ahora realiza las actividades...

1. ¿CÓMO SE LLAMA CADA APARATO? SELECCIONA EL NOMBRE DE CADA APARATO ENCIMA DE LOS DIBUJOS Y, A CONTINUACIÓN, INDICA LAS PARTES DE CADA UNO DE ELLOS:



2- COMPLETA LAS ORACIONES CON LAS SIGUIENTES PALABRAS:

aparato locomotor

huesos

músculos

Médula espinal

relación

nervios

nervioso

esqueleto

cerebro

- La función de nos permite obtener información del exterior.
- En la función de relación intervienen el aparato y el sistema
- El sistema nervioso está formado por el, los y la
- El conjunto de todos los huesos del cuerpo es el
- El sistema óseo está formado por los y el sistema muscular por los.....

3 – SELECCIONA LOS NOMBRES DE LOS APARATOS REPRODUCTORES FEMENINO Y MASCULINO:

