
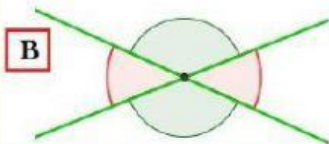
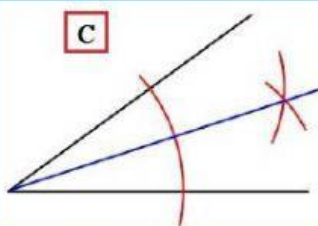
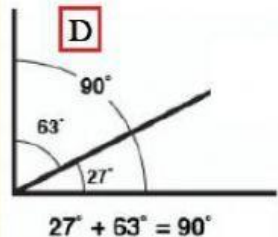
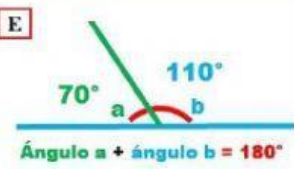


# RECTAS Y ÁNGULOS

Relaciona cada número concepto con su letra imagen correspondiente.

ÁNGULOS COMPLEMENTARIOS (1)	(1 - ____)	
BISECTRIZ DE UN ÁNGULO (2)	(2 - ____)	
ÁNGULOS SUPLEMENTARIOS (3)	(3 - ____)	
ÁNGULOS OPUESTOS POR EL VÉRTICE (4)	(4 - ____)	
MEDIATRIZ DE UN SEGMENTO (5)	(5 - ____)	
RECTA TANGENTE A UNA CIRCUNFERENCIA (6)	(6 - ____)	