









Write the fractions and add the fractions. (Half, Quarter and 1 whole)

 <input type="text"/> + <input type="text"/> = <input type="text"/>	 <input type="text"/>
 <input type="text"/> + <input type="text"/> = <input type="text"/>	 <input type="text"/>
 <input type="text"/> + <input type="text"/> + <input type="text"/> + <input type="text"/> = <input type="text"/>	 <input type="text"/>
 <input type="text"/> + <input type="text"/> + <input type="text"/> + <input type="text"/> = <input type="text"/>	 <input type="text"/>