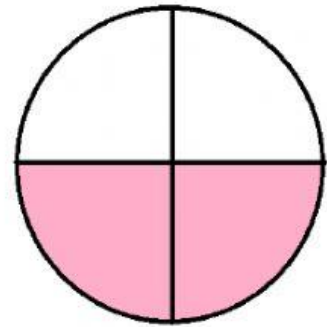
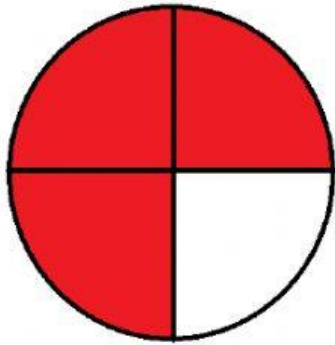
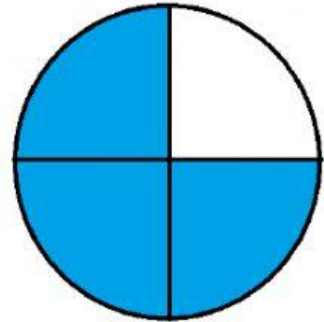
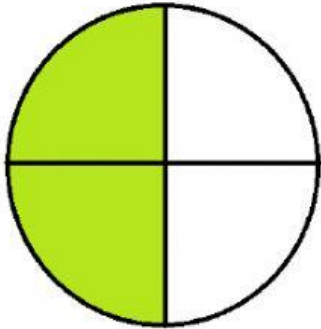


1. დააკავშირე წრეები, რომლებზეც ერთნაირი რაოდენობის ნაწილებია გაფერადებული.



2. რომელ ნახაზზეა მეტი ნაწილი გაფერადებული?

