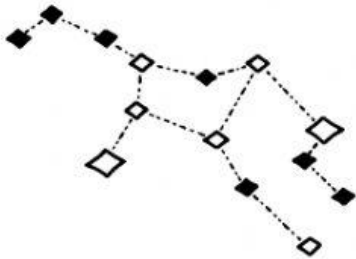



Nome: .....

## Figuras geométricas espaciais (prismas e pirâmides)



Exercícios



1 - Marque a alternativa correta sobre figuras geométricas espaciais - prismas e pirâmides:

- a) As figuras geométricas se dividem em planas e espaciais, sendo que a última se divide em sólidos geométricos, somente;
- b) As laterais dos prismas são formadas por triângulos;
- c) As laterais das pirâmides são formadas por quadriláteros;
- d) A base da pirâmide pode ser formada por qualquer polígono.

2 - Preencha o espaço em branco respondendo a seguinte situação: qual é o poliedro que tem 18 arestas, 12 vértices e 8 faces ? (responda: prisma ou pirâmide + nome).

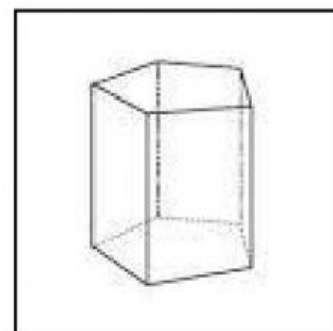
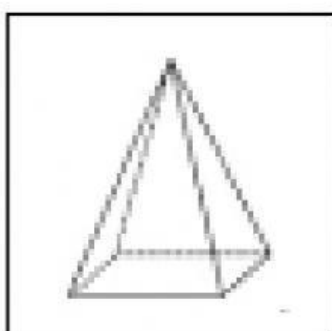
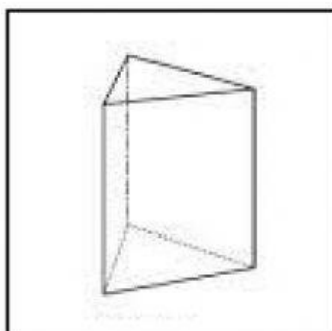
R -



3 - Ligue os poliedros as figuras corretas:



# Pirâmide



# Prismas

