

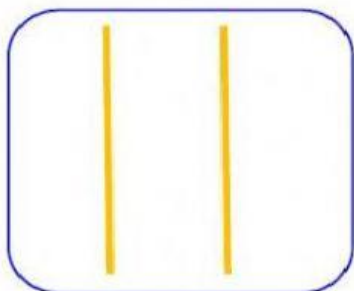
## EXAMEN FINAL DE MATEMÁTICA

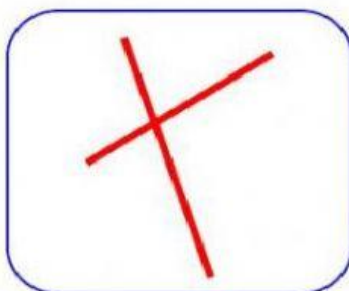
Hijo(a) del Rey: \_\_\_\_\_ Grado: \_\_\_\_° grado

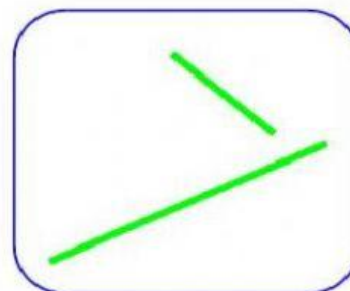
Profesora: Cindya Condor Moreno


Fecha: 21/12/22


I. Observa y escribe el nombre de las rectas.

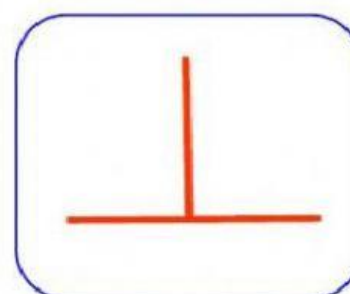









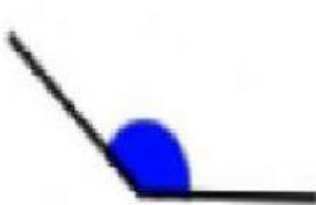





II. Observa e indica el tipo de ángulo.

















III. Selecciona los polígonos



IV. Completa según corresponde:

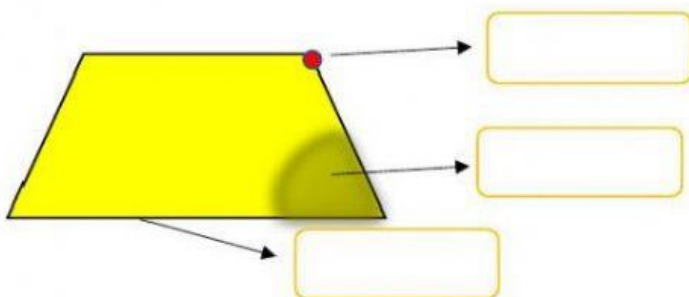
1. ¿Cómo se llaman estos polígonos? Cuenta el número de lados.







2. Arrastra los nombres de cada elemento:



lado

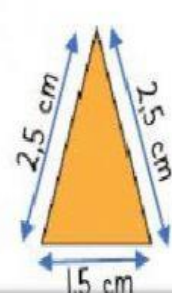
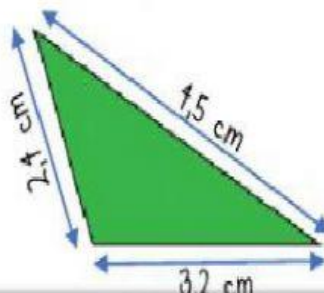
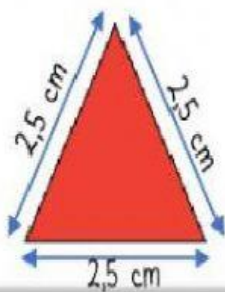
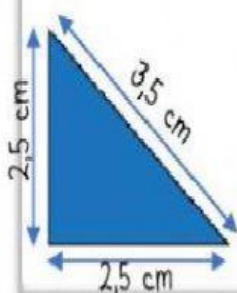
ángulo

vértice

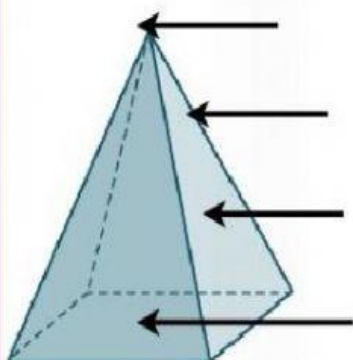


V.

~ Observa las medidas de cada triángulo y selecciona su nombre según sus lados.



VI. Coloca cada elemento en su lugar



base

vértice

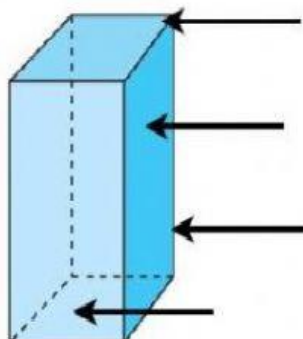
arista

cara lateral

¿Cómo se llama esta figura?

¿Cuántas bases tiene?

¿Cuántas caras tiene?



base

vértice

arista

cara lateral

¿Cómo se llama esta figura?

¿Cuántas bases tiene?

¿Cuántas caras tiene?



Hijos del Rey

I.E.P.

**Yo Soy Jesús**

Una educación en valores formando el carácter del niño

VII. Completa.

Rocío representa en un gráfico de barras los gastos que realiza por consumo de teléfono. Completa la tabla a partir de los datos del gráfico de barras y responde las preguntas (**escribir en minúscula**).

Gastos en teléfono

Mes	Gasto (S/)
Enero	
Febrero	
Marzo	
Abril	
Mayo	



a) ¿Qué mes gastó más en llamadas?

b) ¿Qué mes gastó menos en llamadas?

c) ¿Cuánto más pagó en el mes de abril que en enero?

soles


d) ¿Cuánto pago en los dos primeros meses del año?

soles

e) ¿En qué meses pagó lo mismo?



VIII. Calcula el perímetro de las siguientes figuras.



**6 CM**

PERÍMETRO  CM



**4 CM**

PERÍMETRO  CM



**3 CM**

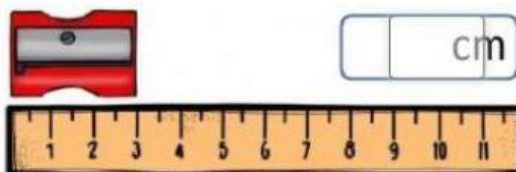
PERÍMETRO  CM

IX. Completa:

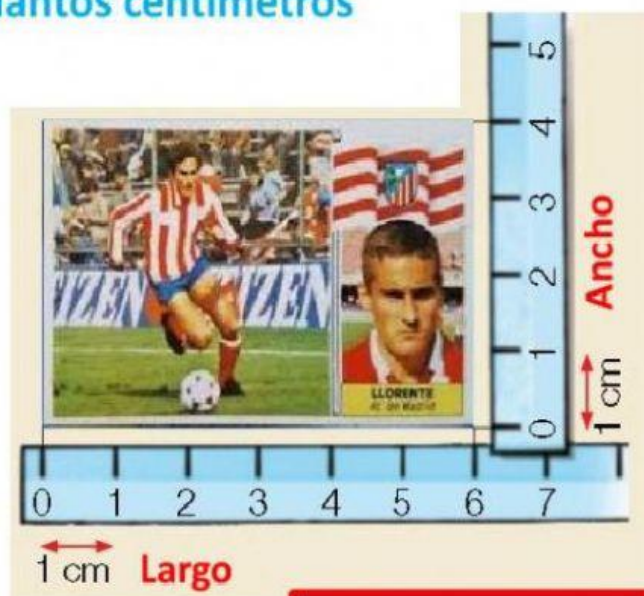
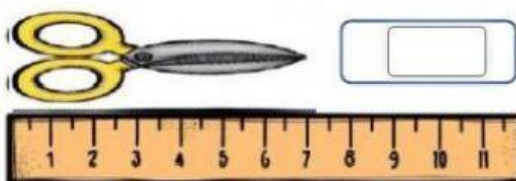
- Instrumento para medir la masa: \_\_\_\_\_

X.

**1** Observa la regla y escribe cuántos centímetros mide cada objeto.



cm



Largo:  cm

Ancho:  cm



Hijos del Rey

I.E.P.

**Yo Soy Jesús**

Una educación en valores fortaleciendo el carácter del niño

**“FELIZ NAVIDAD Y UN BENDECIDO AÑO  
2023”**