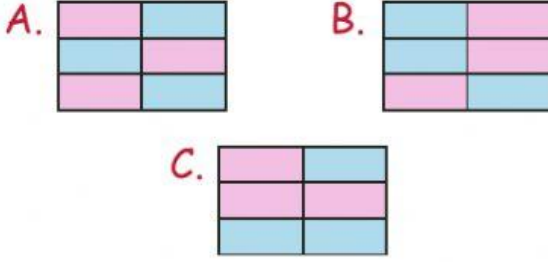


1.

orman	gözlük
kalem	sevgi
orman	dere

Yukarıda kelimelerin yazılı olduğu tabloda basit kelimeler maviye, türemiş kelimeler pembeye boyanacaktır. Boyalı hali aşağıdakilerden hangisi gibi olmalıdır?



2.

Bayram, yarın hastaneye gidecek. Yukarıdaki cümlede altı çizili kelimenin cevap olması için hangi soruyu sormalıyız?

A. Niçin? B. Nasıl? C. Kim?

3.

Aşağıdaki görsellerden hangisinin adı türemiş kelimedenden oluşmaktadır?



4.

Aşağıdaki cümlelerin hangisinde yazım yanlışı vardır?

- A. Adana'da kebab yenir.
B. İngilterede yaşayan akrabalar var.
C. Köpeğimin adı Fino.

5.


Aşağıdaki cümlelerin hangisinde noktalama işareti hatalı kullanılmıştır?


- A. Oley, gol attık!
B. Kaç balık tuttun.
C. Nasılsınız?

6.

 Bitmiş cümlelerin sonuna konurum.

 Saat ve dakikaların arasına konurum.


 Soru anlamı taşıyan cümlelerin sonuna konurum.

 Heyecan bildiren kelimelerin sonuna konurum.

Yukarıdaki noktalama işaretlerinden kaç tanesi kendini yanlış tanıtmıştır?

A. 1 B. 2 C. 3

1.



Yan yana olan kutulardaki sayılar çarpılıp bir üstteki kutuya yazılacaktır. Buna göre "?" yerine aşağıdakilerden hangisi yazılmalıdır?

- A. 195 B. 140 C. 108

2.

$$A = 12 \times 5$$

$$B = 23 \times 2 \text{ ise}$$

"A + B" işleminin sonucu aşağıdakilerin hangisinde verilmiştir?

- A. 106 B. 123 C. 138

3.

Her biri 5 santimetre kalınlığında olan 6 kitap üst üste diziliyor. Oluşan yükseklik kaç santimetredir?



- A. 45 B. 30 C. 11

4.

Yandaki tabloda ☆ + ☁ kaçtır?

×	6	7
8	☆	
9		☁

- A. 103 B. 111 C. 125

5.

Aşağıdaki çarpma işlemlerinden hangisinin sonucu daha büyüktür?

$$A. \begin{array}{r} 125 \\ \times 6 \\ \hline \end{array}$$

$$B. \begin{array}{r} 114 \\ \times 7 \\ \hline \end{array}$$

$$C. \begin{array}{r} 103 \\ \times 8 \\ \hline \end{array}$$

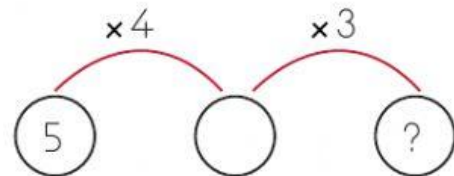
6.

$$5 \times 5 > A$$

Yukarıdaki sıralamada "A" yerine yazılabilecek en büyük sayı kaçtır?

- A. 24 B. 25 C. 26

7.



Yukarıdaki çarpma işleminde soru işareti yerine hangi sayı gelmelidir?

- A. 60 B. 50 C. 40

1. Aşağıdaki maddelerden hangisini tatmak sağlığımıza zarar verir?



2. Maddelerin özelliklerinin hangi duyu organı ile nitelendirildiği aşağıdaki gibi eşleştirilmiştir. Buna göre hangi eşleştirmede hata yapılmıştır?

- A. Ses - Kulak
B. Tat - Dil
C. Sertlik - Göz

3. Gül ile papatyayı
tuz ile şekeri ise
ayırabiliriz.

Yukarıdaki cümlede boş bırakılan yerlere sırasıyla hangi sözcükler yazılmalıdır?

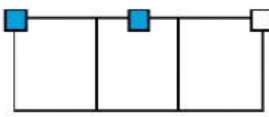
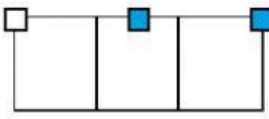
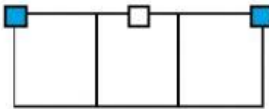
- A. koklayarak - tadarak
B. tadarak - dokunarak
C. dokunarak - koklayarak

4. Beren, yumuşak maddeler ile ilgili araştırma yapmaktadır. Araştırmasında sadece yumuşak madde örnekleri bulmuştur. Buna göre Beren aşağıdaki maddelerden hangisini bulmuş olamaz?

- A. Yastık
B. Masa
C. Sünger



"Görseldeki maddelerden koklamak, tatmak ya da solumanın tehlikeli oldukları işaretlenecektir. İşaretleme nasıl olmalıdır?"

- A. 
- B. 
- C. 

6. Aşağıdaki maddelerden hangisi kırıl-
gan maddedir?

- A. Cam
B. Yay
C. Ayna

1. Okan'ın annesi ev işlerini yaparken babası ayak ayak üstüne atıp televizyon izlemektedir. Okan ise annesine yardım etmektedir.

Okan'ın ailesi ile ilgili aşağıdakilerden hangisi söylenemez?

- A. Babası yardım etmemekte haklıdır.
- B. Okan annesine yardım ederek iş yükünü hafifletmiştir.
- C. Ev işlerinde baba da yardımcı olmalıdır.

2.

.....
benim sorumluluğum değildir.



Asya'nın açıklamasındaki noktalı yere aşağıdakilerden hangisi gelmelidir?

- A. Çantamı hazırlamak
- B. Camları silmek
- C. Yatağımı toplamak

3. Aşağıdakilerden hangisi mutfakta kullanılan teknolojik aletlerden değildir?

- A. Buzdolabı
- B. Fırın
- C. Koltuk

4.



Yukarıdaki teknolojik araç evimizin hangi bölümünde kullanılır?

- A. Mutfak
- B. Salon
- C. Oturma odası

5.

- ▶ Çamaşır makinesi elektronik bir cihazdır.
- ▶ Elektrik süpürgesini temizlik amaçlı kullanırız.
- ▶ Pense mutfakta kullanılır.

Yukarıdaki ifadelerden kaç tanesi doğrudur?

- A. 2
- B. 1
- C. 3