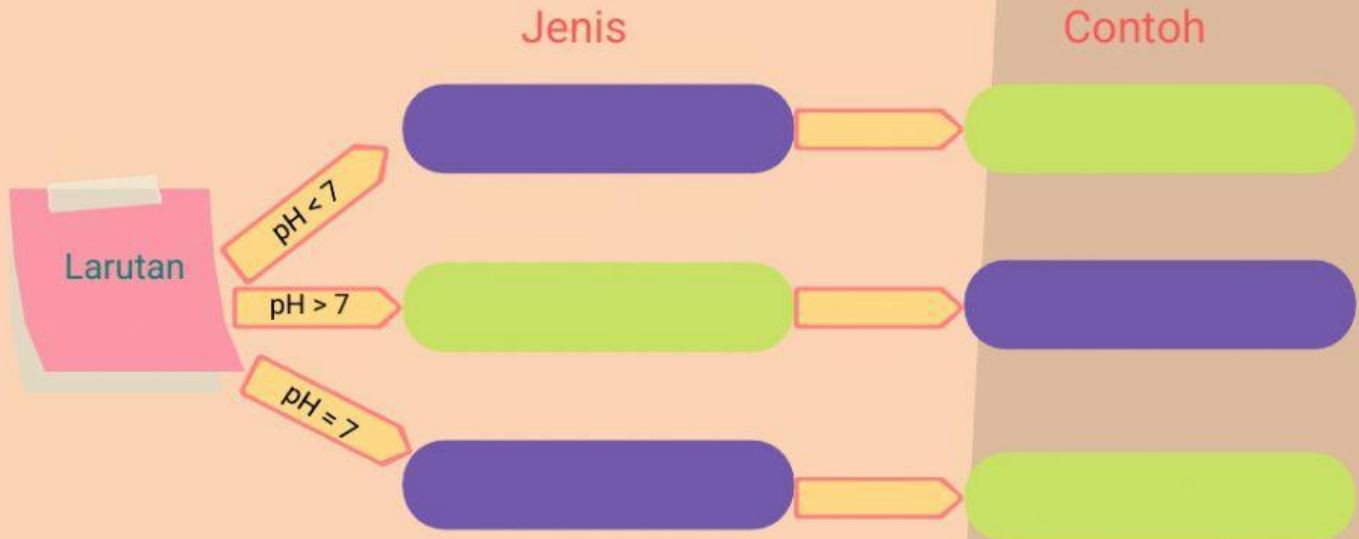




# TES DIAGNOSTIK



Isilah diagram dengan benar dengan menjodohkannya!



Asam

Sabun

NaCl


Garam

Cuka

Basa

Berikan jawaban yang tepat!

Tuliskan 3 indikator asam basa yang kamu ketahui!



Lengkapilah tabel berikut!

Larutan	Kertas Lakmus	
	Lakmus Merah	Lakmus Biru
Asam		
Basa		
Garam		


Pilihlah yang sesuai!

Membirukan Lakmus

Memerahkan Lakmus

Bersifat Kaustik

Menimbulkan korosi




# Pilihlah yang sesuai!



pH 2  
Asam Lambung




pH 4  
Tomat



pH 10  
Sabun



pH 7  
Air



pH 7.4  
Darah

