



**LICAM**  
B-LEARNING

Proverbios 22:6  
Instruye al niño en su camino,  
y aun cuando fuere viejo no  
se apartará de él.

# EL PLANO

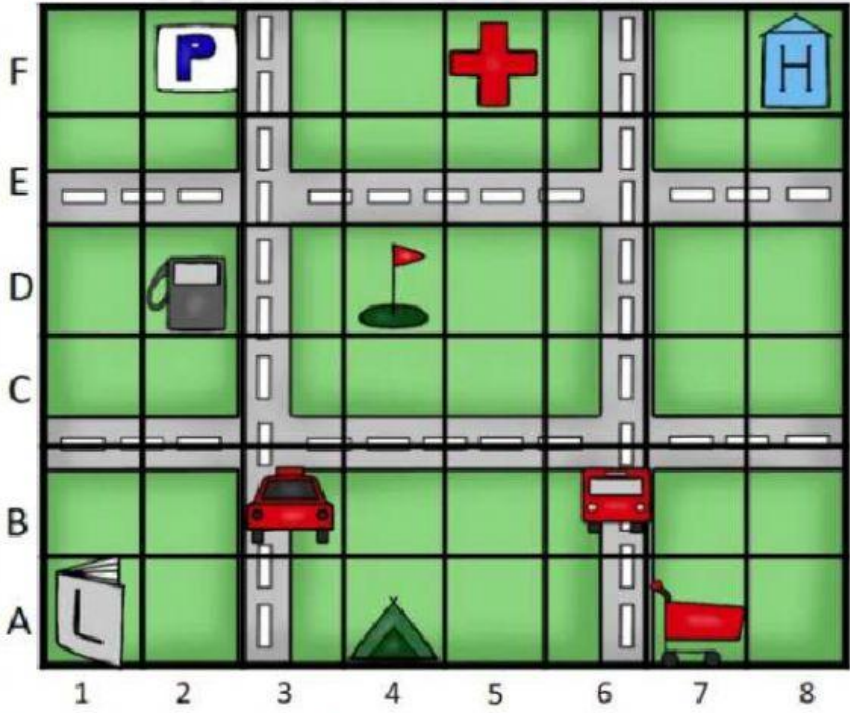


GRADO  
**SEGUNDO**

1  
Pág.

<b>NOMBRE</b>	
<b>GRADO</b>	<b>2°</b>
<b>TEMA</b>	<b>EL PLANO</b>


1. Observa el plano y escribe las coordenadas.



	<input type="text"/>	<input type="text"/>		<input type="text"/>	<input type="text"/>		<input type="text"/>	<input type="text"/>
	<input type="text"/>	<input type="text"/>		<input type="text"/>	<input type="text"/>		<input type="text"/>	<input type="text"/>
	<input type="text"/>	<input type="text"/>		<input type="text"/>	<input type="text"/>		<input type="text"/>	<input type="text"/>



2. Camilo y Juliana se pusieron una cita para encontrarse en el parque.



¿Qué puntos de referencia puede darle Camilo a su amiga para que llegue fácil al punto de encuentro?

a. Enfrente de Camilo está el

---


b. A la derecha de Camilo queda el

---

c. A la izquierda de Camilo están los

---

### 3. Observa con atención la imagen y responde.



- En cuál recuadro la sombra del niño se proyecta hacia el Oeste. \_\_\_\_\_
- Escribe la hora en la que la sombra del niño es más corta. \_\_\_\_\_
- Determina el punto contrario al punto dado:  
Norte \_\_\_\_\_  
Este \_\_\_\_\_
- Veo salir el sol por el \_\_\_\_\_
- El lugar por donde se oculta el sol es el \_\_\_\_\_



#### 4. observa con atención el plano y responde.



a. Escriba cuantas puertas hay representadas en el plano. \_\_\_\_\_

b. En la parte oriental de la casa queda el \_\_\_\_\_

c. La cocina está al \_\_\_\_\_

d. En el lado occidental de la casa hay una \_\_\_\_\_

5. Observa el plano de la ciudad con sus convenciones y responde.



- Subraya cuáles de los siguientes lugares aparecen representados en el plano. Colegio - Restaurante - Hospital - Parque de diversiones - Universidad - Estación de tren.
- ¿Cómo identificas la iglesia en el mapa? \_\_\_\_\_
- El aeropuerto está al oriente de \_\_\_\_\_
- El restaurante está al sur de \_\_\_\_\_
- Por debajo del puente pasa el río \_\_\_\_\_
- La iglesia está al norte del \_\_\_\_\_
- Al sur de la laguna está \_\_\_\_\_