

ЗАНЯТИЕ 30.03.2021 г.

Име, презиме, фамилия

Енерджайзър: (15 минути)

Игра на асоциации

- Участник А казва две случайни думи на участник Б, който ги свързва с образ и казва трета дума.
- Участник В свързва втората и третата дума с образ и казва четвърта дума, и т.н.

Задача 1.

а) За да се направи хляб, са необходими различни продукти. Ако правилно пресметнеш числовите изрази, ще откриеш какво количество от всеки продукт е необходимо за приготвянето му.



$$(948 - 6 \cdot 9) + (1\ 000 - 894) =$$

.....

.....

..... г брашно

$$63 : 7 + 64 : 8 =$$

.....

..... г сол

$$775 + 72 : 9 \cdot 5 - 210 =$$

.....

.....

..... милилитра вода

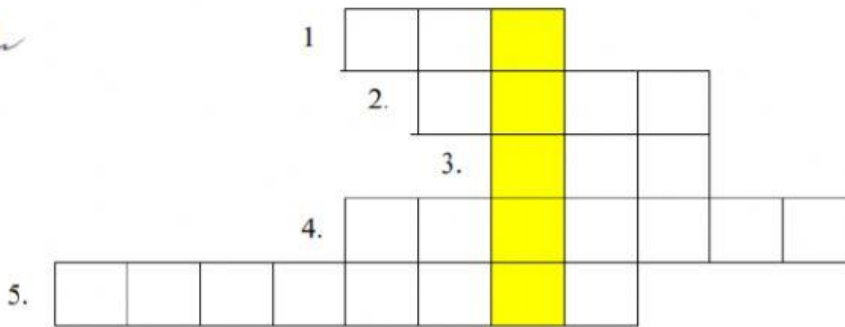
$$345 + 655 - 958 =$$

.....

..... г мая – 1 кубче

б) За да се направи хляб, могат да се използват различни видове зърнени култури. Ако решиш правилно кръстословицата, ще научиш от какво хората са правели брашно в миналото. Пазванието му ще откриеш в жълтото поле.

1. Основна подправка за хляб.
2. Уред за пресяване на брашно.
3. Продукт, необходим за замесването на хляб, набухвател.
4. Житно растение, от което се добива брашно.
5. Мелница, задвижвана с вода.



Продуктът е.....

Задача 2.



а) В квадратната мрежа са изписани 11 названия на хранителни продукти. Запиши ги.

.....

.....

.....

.....

.....

.....

.....

И	Ш	А	С	И	Р	Е	Н	Е
М	Л	Я	К	О	И	Г	Л	А
А	Е	Р	О	Г	Б	О	Б	Р
Я	К	К	Б	Р	А	Ш	Н	О
С	О	Л	А	Я	Й	Ц	А	К
О	Р	К	Щ	М	А	С	Л	О
Я	А	С	Ф	И	Д	Е	У	Щ



б) На трапезата за християнския празник се сервира козунак.



За да разбереш какво количество продукти е необходимо за приготвянето му, трябва да решиш задачите:



6 яйца



1 чаена чаша мляко



брашно – десетинката на 10 кг



масло – половинката на 400 г



захар – третинката на 900 г












стафиди – четвъртинката на 480 г



мая – третинката на 120 г

в) Определи мястото на хранителните продукти в квадратната мрежа. Запиши с БУКВА и ЧИСЛО позицията им по образца.

	А	Б	В	Г	Д
1					
2					
3					
4					
5					



A4



.....



.....



.....



.....



.....



.....



.....



.....