




COLOCA CADA REGLETA CON SU CANTIDAD CORRESPONDIENTE Y ESCRIBE SU EXPRESIÓN MATEMÁTICA



6

EXPRES. MATEMÁTICAS




4


3
