



**PEMERINTAH KABUPATEN SINJAI
DINAS PENDIDIKAN
SD NEGERI 130 LITA - LITAE**

Jln .PorosMalino Desa Saotengah kec. Sinjai Tengah Kab. Sinjai

PENILAIAN AKHIR SEMESTER 1

Mata Pelajaran : Tema 4 Nama :

Kelas : VI NIS :

A.PILIHAN GANDA [PPKn]

Bacalah teks berikut untuk menjawab soal no 1 dan 2 !

Keberagaman adalah suatu keadaan dalam masyarakat yang terdapat banyak perbedaan dalam berbagai bidang.Perbedaan terutama dalam hal suku bangsa,ras,agama,keyakinan,ideologi politik,sosial budaya,ekonomi dan jenis kelamin.Guna menghadapi keragaman perlu dikembangkan sikap saling menghargai terhadap nilai-nilai dan norma sosial.Dampak positif dari keberagaman ekonomi salah satunya adalah semua kebutuhan tercukupi.

1. Salah satu dampak positif dari keberagaman ekonomi adalah...
 - a. Semua kebutuhan tercukupi
 - b. Banyak terjadi perpecahan
 - c. Menimbulkan persaingan
 - d. Pendapatan menjadi berkurang
2. Salah satu sikap positif dengan adanya keberagaman ekonomi adalah...
 - a. Mencari persaingan
 - b. Mencari keuntungan yang sebesar-besarnya
 - c. Melakukan industri secara besar-besaran
 - d. Menumbuhkan sikap suka bekerja keras
3. Contoh keberagaman ekonomi masyarakat indonesia adalah...
 - a. Banyaknya tempat wisata di Indonesia
 - b. Beragamnya kesenian di indonesia
 - c. Adanya berbagai jenis lapangan pekerjaan di Indonesia
 - d. Beragamnya kesenian daerah yang diselenggarakan di masing-masing daerah

4. contoh sikap cinta tanah air adalah...

- a. mencintai produk asing
- b. mengenakan tas imfor
- c. mencintai produk indonesia
- d. membeli produk luar negeri

B. PILIHAN GANDA KOMPLEKS [BAHASA INDONESIA]

5. Bacalah teks berikut !

Globalisasi merupakan masuknya suatu negara dalam pergaulan dunia yang mengakibatkan aktivitas sebelumnya terbatas secara nasional dan bertahap berkembang sampai mendunia.

Globalisasi memberikan dampak besar bagi indonesia ,termasuk dalam aspek ekonomi,sosial politik.Globalisasi meningkatkan akses untuk memperbaiki taraf hidup dan juga meningkatkan kepekaan. menunjukkan semakin meningkatnya kebergantungan antar individu.

Berilah tanda centang [✓] pada pernyataan yang sesuai teks di atas !

Jawaban boleh lebih dari satu.

Pernyataan	Benar	Salah
1. Globalisasi merupakan masuknya suatu negara dalam pergaulan dunia.		
2. Berkurangnya tenaga kerja yang bergerak di sektor pertanian .		
3. Globalisasi memberikan dampak besar bagi indonesia.		
4. Masuknya budaya barat yang mempengaruhi pola hidup masyarakat.		

6. Bacalah teks berikut !

Pengaruh perkembangan globalisasi

Dampak positif dari globalisasi adalah terjadinya perubahan tata nilai dan sikap, berkembangnya ilmu pengetahuan dan teknologi,tingkat kehidupan yang lebih baik.

Sedangkan dampak negatif dari globalisasi adalah pola hidup konsumtif,sikap individualistik,gaya hidup kebarat –baratan serta kesenjangan sosial.Meskipun gloalisasi terus berjalan ,kita tidak harus selalu mengikuti perkembangannya.Cara

menyikapi globalisasi yang terus berkembang dengan pesat adalah dengan cara membentengi diri kita dengan ilmu agama.

Berilah tanda centang [✓] pada pernyataan yang sesuai teks di atas !

Pernyataan	Benar	Salah
Dampak positif dari globalisasi terjadinya perubahan tata nilai dan sikap,berkembangnya ilmu pengetahuan.		
Bangsa Indonesia merupakan bagian dari masyarakat dunia.		
Cara menyikapi globalisasi yang terus berkembang adalah dengan cara membentengi diri kita dengan ilmu agama.		
Globalisasi berlangsung di semua bidang kehidupan.		

7. Bacalah teks berikut !

Globalisasi memiliki dampak positif dan negatif. Dalam menghadapi dampak negatif globalisasi kita harus bijak, waspada, dan selektif, serta mempertahankan nilai-nilai luhur bangsa kita.

Berilah tanda centang [✓] yang termasuk dampak positif pengaruh globalisasi

1. Berkembangnya ilmu pengetahuan dan teknologi ☐
2. Tingkat kehidupan yang lebih baik ☐
3. Pola hidup konsumtif ☐
4. Gaya hidup kebarat-baratan ☐

8. Bacalah teks berikut !

Teks eksplanasi merupakan teks yang berisi tentang proses bagaimana dan mengapa mengenai suatu topik yang berhubungan dengan fenomena alam, sosial, ilmu pengetahuan, dan budaya yang terjadi dalam kehidupan sehari-hari.

Berilah tanda centang [✓] yang termasuk ciri-ciri teks eksplanasi







- a. Struktur terdiri dari penjelasan umum, sebab, akibat, dan pendapat. ☐
- b. Memuat informasi tanpa berdasarkan fakta ☐
- c. Informasi yang dimuat berdasarkan fakta dan kenyataan ☐
- d. Berusaha untuk memengaruhi pembaca ☐

C. MENJODOHKAN [IPA]

9. Bacalah teks berikut !

Hemat energi adalah meningkatkan efisiensi dan efektivitas pemakaian energi setinggi mungkin, namun bukan mengurangi keperluan akan pemakaian energi.


Pasangkan tindakan berikut sesuai dengan keterangan dengan menarik garis dari ruas kiri ke ruas kanan dengan tepat!

1. Menggunakan lampu neon	 	A. Hemat energi
2. AC tetap dihidupkan ketika jendela dibuka		
3. Mematikan komputer atau laptop jika tidak digunakan	 	B. Boros energi
4. Menyetrika setiap hari		

10. Bacalah teks berikut !

Pada era modern ini, tenaga air banyak dimanfaatkan untuk menghasilkan listrik pada PLTA. Pembangkit listrik ini bekerja dengan cara mengubah energi pada air mengalir menjadi energi gerak yang menggerakkan turbin.



Pasangkan bagian-bagian PLTA berikut dengan artinya, dengan menarik garis dari ruas kiri ke ruas kanan dengan tepat!

1. Bendungan	 	A. Roda besar yang berputar cepat
2. Turbin	 	B. Mengalirkan listrik dari PLTA, menuju pemakai.
3. Generator	 	C. Menampung air dalam jumlah besar agar tenaga yang dihasilkan juga besar
4. Jalur transmisi	 	D. Mengubah energi gerak dari turbin menjadi energi listrik

11. Bacalah teks berikut !

Energi listrik merupakan salah satu faktor pendukung penting bagi kehidupan manusia, manfaat energi listrik dalam kehidupan sehari-hari sangat banyak. Proses masuknya listrik ke rumah – rumah terdapat beberapa fase. Jadi, perlu perhatian khusus dalam sistem listrik di rumah, sehingga keselamatan pengguna setiap rumah tetap terjaga.









Pasangkan antara kosa kata dan artinya berdasarkan pernyataan di atas!

Tegangan			Sebuah BUMN yang mengurus semua aspek kelistrikan yang ada di indonesia
Fase			Alat untuk menghimpun dan membangkitkan aliran listrik
PLN			Tekanan yang diakibatkan oleh tarikan
Baterai			Tingkatan masa

12. Perhatikan teks berikut!

Listrik dari sinar matahari di dapatkan melalui konversi energi atau perubahan bentuk energi melalui perantara. Panel-panel solar akan menangkap energi panas dari sinar matahari. Energi panas matahari sangat baik karena mudah di dapat bersih dan ramah lingkungan, indonesia juga memiliki sumber energi yang sangat melimpah. Sel surya adalah komponen utama yang paling mahal dalam sistem PLTS.

Pasangkan pernyataan berikut berdasarkan teks di atas!

Panel yang di rancang untuk menyerap sinar matahari untuk menghasilkan listrik			Sel surya
Perangkat listrik yang mengubah energi matahari menjadi arus listrik			Energi listrik
Elemen paling melimpah kedua di bumi			Banyak listrik
Makin banyak cahaya yang menabrak sel surya			Panel surya

D.URAIAN IPS]

13. Bacalah teks berikut !untuk menjawab soal no 13 - 14

Era globalisasi merupakan masa terbentuknya tata kehidupan dunia baru yang lebih baik. Globalisasi menunjukkan semakin meningkatnya kebergantungan antar individu dan antarmasyarakat diseluruh dunia.

Jelaskan pengertian globalisasi !

Jawab

.....

.....

.....

.....

14. Tuliskan 2 dampak positif globalisasi !

Jawab

.....

.....

.....

15. Bacalah teks berikut !untuk menjawab soal no 15 dan 16

Salah satu kerja sama yang dilakukan oleh indonesia adalah ASEAN. ASEAN adalah organisasikerja sama negara-negara yang berada dikawasan Asia Tenggara, bekerja sama di berbagai bidang seperti bidang sosial dan budaya, ekonomi ,politik, keamanan, pendidikan serta ilmu pengetahuan dan teknologi.

Jelaskan 2 tujuan kerja sama ASEAN di bidang sosial budaya !

Jawab:

.....

.....

.....

- 15.tuliskan 5 negara pemrakarsa berdirinya ASEAN !

Jawab

.....

.....

.....

16. Tuliskan 2 peran Indonesia dalam kerja sama ASEAN !

Jawab

.....

.....

.....

E.ISIAN {SBdP}

Perhatikan gambar berikut, untuk menjawab soal no 9 dan 10!



17. Jenis reklame di atas adalah....

18. Arti reklame di atas adalah...

Perhatikan gambar berikut untuk menjawab soal no 19 !



19. Reklame yang di pasang pada suatu kemasan di sebut....

20. Bentuk reklame yang bertujuan untuk mendapatkan keuntungan dengan sebanyak-banyaknya berupa barang di sebut....