



Evaluación de matemática

3 er grado

Nombre: _____

Grado: _____

Sección: _____

2022

- 1 Tres estudiantes resolvieron en la pizarra la operación propuesta por la profesora.
¿Cuál de las operaciones es **correcta**?

a
$$\begin{array}{r} 237 - \\ 198 \\ \hline 161 \end{array}$$

b
$$\begin{array}{r} 237 - \\ 198 \\ \hline 139 \end{array}$$

c
$$\begin{array}{r} 237 - \\ 198 \\ \hline 39 \end{array}$$

- 2 La biblioteca municipal se inauguró con 285 libros. Luego, la alcaldesa donó cierta cantidad de libros. Ahora, la biblioteca tiene en total 450 libros. ¿Cuántos libros donó la alcaldesa?

- a 735 libros.
b 450 libros.
c 275 libros.
d 165 libros.

- 3 Rosa llega al colegio a las 8 de la mañana. Por la tarde, cuando ella sale, el reloj indica la siguiente hora:



Según esta información, ¿cuánto tiempo pasó Rosa en el colegio?

- a 9 horas.
b 7 horas.
c 5 horas.
d 4 horas.



- 4 Benjamín ha ahorrado dinero durante un tiempo y juntó S/346. Luego, va al banco a cambiar el dinero y pide que le den la cantidad máxima de billetes de S/10 y lo demás en monedas de S/1. ¿Cuántos billetes de S/10 recibirá Benjamín?

- ☐ a 4 billetes.
- ☐ b 34 billetes.
- ☐ c 46 billetes.
- ☐ d 340 billetes.

- 5 Luciano tiene la siguiente cantidad de figuritas:

2 cajas de



15 sobres de



4 figuritas sueltas



¿Cuántas figuritas tiene Luciano en total?

- ☐ a 2154 figuritas.
- ☐ b 219 figuritas.
- ☐ c 264 figuritas.
- ☐ d 354 figuritas.

- 6 A Mónica, le pidieron tejer 50 gorros de lana. Ella tejió 18 gorros de color rojo, 19 gorros de color azul y el resto de color verde. ¿Cuántos gorros de color verde tejió para cumplir con el pedido?

- ☐ a 13 gorros.
- ☐ b 37 gorros.
- ☐ c 87 gorros.



- 7 Sebastián observa los números muestran una secuencia:

113 124 135


Resuelve:

¿Qué número sigue a continuación?

- a) 146
b) 190
c) 123
d) 110
- 8 María tiene 60 pulseras y quiere colocar un adorno en cada una de ellas. En una bolsa, ella tiene 21 adornos, y en otra bolsa, tiene 16 adornos. ¿Cuántos adornos más necesitará María?

- ☐ a) 23 adornos.
☐ b) 37 adornos.
☐ c) 60 adornos.
☐ d) 97 adornos.

- 9 La profesora le pide a Sebastián que use su regla, una similar a la mostrada a continuación:



¿Qué ángulo se forma en cada una de las esquinas del instrumento? Ayuda a Sebastián a responder la pregunta.

- a) Agudo
b) Obtuso
c) Recto
d) Abierto

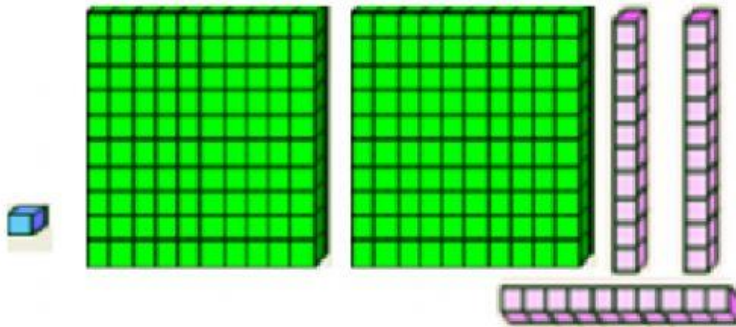
10 Gerardo está confeccionando camisas como esta.

¿Cuántos botones  necesitará en total para 6 camisas?

- ☐ a 5 botones.
- ☐ b 11 botones.
- ☐ c 30 botones.
- ☐ d 56 botones.



11 Sebastián observa una agrupación fichas.



¿Qué número representa el total de las fichas?

a)

| | | |
|---|---|---|
| C | D | U |
| 3 | 2 | 1 |

b)

| | | |
|---|---|---|
| C | D | U |
| 2 | 3 | 1 |

c)

| | | |
|---|---|---|
| C | D | U |
| 1 | 3 | 3 |


d)

| | | |
|---|---|---|
| C | D | U |
| 1 | 2 | 3 |

- 12 La biblioteca de una escuela tiene registrados los libros de diferentes áreas. Observa.

Cantidad de libros en la biblioteca

| | |
|-----------------------------|--|
| Ciencia y Tecnología |   |
| Matemática |    |
| Comunicación |     |

Cada  vale 5 libros.

Según el gráfico, ¿cuántos libros de Comunicación hay en la biblioteca?

- ☐ a 4 libros
- ☐ b 5 libros.
- ☐ c 9 libros.
- ☐ d 20 libros.

DIOS TE BENDIGA
¡FELICES VACACIONES!