

PENILAIAN AKHIR SEMESTER (PAS)
TAHUN PELAJARAN 2022-2023

SD/MI

TEMA 5 (EKOSISTEM)

KELAS : V (LIMA)

NAMA :



DINAS PENDIDIKAN KABUPATEN SINJAI

A. PILIHAN GANDA (PPKn)

1. Berilah tanda silang (X) pada huruf A, B, C, atau D di depan jawaban yang benar !

Bacalah teks berikut untuk menjawab soal no.1!

Walaupun kini negara kita telah merdeka dan berdaulat, tetapi usaha untuk mempertahankan kesatuan bangsa merupakan usaha yang terus menerus dilakukan.

1. Berikut yang merupakan upaya mempertahankan persatuan dan kesatuan di sekolah adalah...

- A. Mengganggu teman ketika belajar
- B. Bekerja sama saat ulangan
- C. Menghormati teman yang menyampaikan pendapat
- D. Mau berdiskusi dengan teman yang satu suku

Perhatikan pernyataan di bawah ini untuk menjawab soal nomor 2!

- 1. Cinta tanah air dan bangsa
 - 2. Menggunakan bahasa Inggris dalam kehidupan sehari-hari
 - 3. Menggunakan bahasa Indonesia dengan baik dan benar
 - 4. Menjaga persatuan dan kesatuan
2. Sikap yang menunjukkan semangat Sumpah Pemuda adalah
- A. 1, 2, 3
 - B. 1, 2, 4
 - C. 1, 3, 4
 - D. 2, 3, 4

Bacalah berikut untuk menjawab soal no.3!

Persatuan dan kesatuan bangsa harus tetap dijaga meskipun bangsa Indonesia telah merdeka. Kemerdekaan yang telah dicapai harus dijaga dengan sebaik-baiknya oleh pemerintah dan masyarakat.

3. Salah satu contoh kehidupan di masyarakat yang mencerminkan upaya menjaga keutuhan Negara Kesatuan Republik Indonesia (NKRI) adalah.....
- A. Bertengkar dengan tetangga
 - B. Gotong royong di masyarakat
 - C. Belajar dengan rajin
 - D. Bekerja sungguh-sungguh

Perhatikan gambar di bawah ini untuk menjawab soal no.4!



4. Manfaat sikap persatuan pada gambar adalah
- A. Polisi kesulitan mengatur lalu lintas
 - B. Lalu lintas di jalan menjadi tertib dan teratur
 - C. Pengendara motor terkena tilang dari polisi
 - D. Pemerintah memperoleh pajak kendaraan yang banyak

Bacalah teks berikut untuk menjawab soal no.5!

Sumpah Pemuda merupakan peristiwa penting dalam sejarah Nasional Indonesia. Peristiwa ini makin menyadarkan masyarakat Indonesia yang kala itu berada di bawah penjajahan Belanda.

5. Berikut nilai yang terkandung dalam peristiwa Sumpah Pemuda, kecuali....
- A. Persatuan
 - B. Rela berkorban
 - C. Radikalisme
 - D. Cinta tanah air

B. ISIAN (IPS)

II. Isilah titik-titik di bawah ini dengan jawaban yang tepat !

Bacalah teks berikut untuk menjawab soal no.6!

Indonesia sejak dahulu kala sudah terkenal sebagai penghasil rempah – rempah dan memiliki tanah yang subur. Kelapa sawit, beras, jagung, cengkeh, tembakau, the, kopi, karet dan tebu, merupakan beberapa contoh hasil pertanian dan perkebunan Indonesia.

6. Negara yang sebagian besar penduduknya bekerja sebagai petani yang mengolah lahan pertanian disebut Negara

Bacalah teks berikut untuk menjawab soal no.7 dan no.9!

Setiap wilayah memiliki kenampakan alam dan buatan yang berbeda-beda. Oleh karena itu, sumber daya alam yang dimiliki oleh setiap wilayah juga beragam. Contoh kenampakan alam antara lain pegunungan, gunung, daratan rendah, sungai, pantai, dan laut. Contoh kenampakan buatan antara lain waduk, jalan, jembatan, sawah, permukiman, dan kawasan industri.

7. Kenampakan yang sengaja dibuat oleh manusia untuk tujuan tertentu disebut

8.



Kenampakan alam yang ditunjukkan pada gambar disamping adalah

9. Kenampakan buatan yang biasa dimanfaatkan untuk dijadikan sumber tenaga listrik dan pengairan adalah

10. Perhatikan gambar peta di bawah ini!



Berdasarkan peta berikut, Indonesia terletak di antara dua benua yaitu

C. URAIAN (IPA)

III. Jawablah pertanyaan-pertanyaan dibawah ini dengan tepat !

Bacalah teks berikut untuk menjawab soal no.11!

Hewan sebagai salah satu komponen ekosistem memerlukan lingkungan yang baik untuk berkembang biak. Setiap hewan mengalami tahapan perkembangan tersendiri dan khas. Tahapan dan perkembangan suatu hewan di sebut daur hidup. Di dalam daur hidupnya, ada hewan yang mengalami perubahan bentuk, ada yang tidak.

11. Gambarlah daur hidup kupu-kupu !

Jawab:.....

Bacalah teks berikut untuk menjawab soal no.12 dan no.13!

Semua makhluk hidup yang tinggal disuatu ekosistem saling membutuhkan satu sama lain. Makhluk hidup saling berinteraksi untuk mempertahankan hidupnya. Interaksi antarmakhluk hidup dalam ekosistem dapat berupa simbiosis. Simbiosis mutualisme, yaitu hubungan atau interaksi antara dua jenis makhluk hidup yang saling menguntungkan.

12. Apa yang dimaksud simbiosis?

Jawab:

13. Tuliskan contoh simbiosis mutualisme !

Jawab :

14. Perhatikan gambar di bawah ini!



Tuliskan ekosistem yang terdapat pada gambar di atas!

Jawab :

Bacalah teks berikut untuk menjawab soal no.15!

Hewan sebagai salah satu komponen ekosistem memiliki keunikan yang dapat menyeimbangkan ekosistem tempat ia berada. Berdasarkan jenis makanannya, hewan dibagi menjadi dua, yaitu hewan yang memakan bagian-bagian tumbuhan dan hewan yang memakan hewan lain. Namun ada kelompok hewan yang memakan keduanya, yaitu memakan tumbuhan sekaligus memakan hewan lain.

15. Tuliskan 4 contoh hewan karnivora!

Jawab:

D. PILIHAN GANDA KOMPLEKS (BAHASA INDONESIA)

IV. Berilah tanda centang (☑) pada kolom BENAR atau SALAH sesuai pernyataan dengan tepat!

Bacalah teks berikut untuk menjawab soal no.16!

Gempa dilaporkan mengguncang wilayah Sumbawa dan sekitarnya. Bahkan terasa hingga pulau Lombok, meski intensitasnya rendah. Gempa cukup besar dan terjadi bersusulan itu membuat warga ketakutan dan berhamburan keluar rumah. Akibat gempa tersebut, banyak warga belum berani masuk rumah dan memilih tidur di luar.

16. Informasi yang ada dalam cuplikan bacaan di atas adalah

	Peristiwa apa yang terjadi
	Dimana peristiwa itu terjadi
	Kapan peristiwa itu terjadi
	Bagaimana proses kejadiannya

Bacalah teks berikut untuk menjawab soal no.17!













Suatu ekosistem terdiri atas komponen biotik dan komponen abiotik. Komponen biotik merupakan komponen-komponen hidup, yaitu makhluk hidup, seperti manusia, hewan, dan tumbuhan. Komponen abiotik merupakan komponen-komponen tidak hidup yang dapat mempengaruhi kelangsungan hidup makhluk hidup yang hidup di lingkungan tertentu, misalnya tanah, udara, dan cahaya matahari.

17. Berilah tanda centang pada kolom yang disediakan !

Pernyataan	Benar	Salah
Teks di atas adalah teks nonfiksi		
Teks nonfiksi adalah teks yang berisi informasi berdasarkan fakta atau kenyataan		
Ide pokok paragraf di atas adalah komponen biotik merupakan komponen-komponen hidup.		

E. MENJODOHKAN (SBdP)

18. Pasangkan dengan garis pola lantai dan tariannya!

			<input type="text" value="Pola lantai horizontal"/>
			<input type="text" value="Pola lantai diagonal"/>
			<input type="text" value="Pola lantai lingkaran"/>
			<input type="text" value="Pola lantai melengkung"/>

Bacalah teks berikut untuk menjawab soal no.19 dan no.20!

Lagu yang bertangga nada mayor bersifat riang,gembira,ceria,dan menyenangkan sedangkan lagu yang bertangga nada minor memiliki karakter sendu,sedih,khidmat,dan tidak semangat.

19. Pasangkanlah lagu berikut berdasarkan tangga nadanya!

<div>Mayor</div>	<div>Bagimu Negeri</div>
<div>Minor</div>	<div>Halo-Halo Bandung</div>
	<div>Gugur Bunga</div>
	<div>Indonesia Raya</div>

20. Pasangkanlah ciri-ciri tangga nada berikut!

<div>Bersifat sedih</div>	<div>Mayor</div>
<div>Bersifat riang gembira</div>	
<div>Kurang semangat</div>	
<div>Semangat</div>	<div>Minor</div>

*** SELAMAT BEKERJA***