

**PENILAIAN AKHIR SEMESTER (PAS)**  
TAHUN PELAJARAN 2022-2023

**SD/MI**

**TEMA 4 (SEHAT ITU PENTING)**

KELAS : V (LIMA)

NAMA :  
-----



**DINAS PENDIDIKAN KABUPATEN SINJAI**

**I. Selesaikanlah soal di bawah ini dengan jawaban yang tepat!**

Perhatikan pantun di bawah ini!

Berjalan di tanah landai  
Berjalan pelan hingga ke hutan  
  
Rajin belajar menjadi pandai  
Sebagai bekal di masa depan

1. Setelah membaca pantun di atas, makna dari pantun tersebut adalah ....  
  
A. Kita harus rajin belajar supaya pandai dan bisa menggapai cita-cita.  
B. Supaya hidup mapan dan berkecukupan harta, kita harus bekerja keras.  
C. Kita harus hidup mapan supaya tidak menyusahkan orang lain.  
D. Kita harus rajin belajar supaya hidup kita berkecukupan harta.

**2. Perhatikan pantun di bawah ini!**

Banyak kelelawar di dalam gua  
Ia terbang tidak melangkah  
  
Sayangilah kedua orang tua  
Agar hidup menjadi berkah

Pesan yang terkandung dalam pantun tersebut adalah :

- A. Anak yang baik menyayangi orang tua dengan setengah hati.
- B. Orang tua butuh disayang agar hidup mereka menjadi berkah.
- C. Menyayangi orang tua adalah kewajiban anak agar, tidak mendapat berkah.
- D. Kita harus menyayangi kedua orang tua agar hidup kita penuh keberkahan.

Perhatikan teks bacaan di bawah !



Warga masyarakat di tempat tinggal Edo sedang kerja bakti. Mereka membuat jalan setapak untuk masuk ke gang perumahan setempat. Mereka juga bekerja bakti membersihkan lingkungan. Semua warga masyarakat ikut dalam kegiatan kerja bakti, termasuk Edo. Kerja bakti membersihkan lingkungan merupakan upaya menciptakan lingkungan sehat. Dengan lingkungan sehat, warganya pun hidup sehat. Semua warga harus mengikuti kerja bakti. Karena kerja bakti merupakan kewajiban sekaligus tanggung jawab setiap warga masyarakat. Sebagai warga masyarakat, kita juga berhak untuk hidup di lingkungan yang bersih dan sehat.

3. Berilah tanda centang (✓) berdasarkan teks bacaan di atas (Pilih jawaban lebih dari satu)!

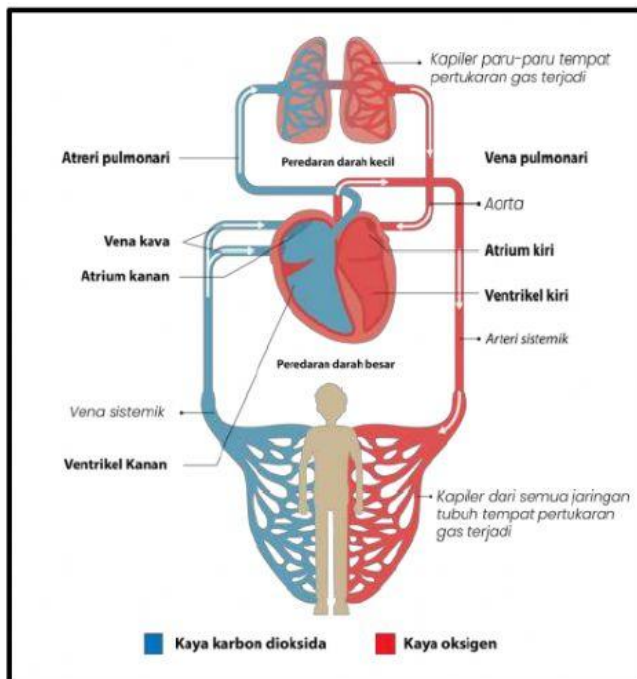
- ☐ Kerja bakti merupakan kewajiban sekaligus tanggung jawab setiap warga masyarakat.
- ☐ Sebagai warga masyarakat, kita juga berhak untuk hidup di lingkungan yang bersih dan sehat.
- ☐ Dengan lingkungan sehat, warganya pun hidup sehat.
- ☐ Semua warga masyarakat tidak ikut dalam kegiatan kerja bakti, termasuk Edo.

4. Perhatikan kewajiban berikut ini!

- (1) Mengerjakan tugas dari guru
- (2) Menghormati semua guru
- (3) Menerima uang saku dari orang tua
- (4) Membersihkan dapur

Contoh kewajiban seorang siswa di sekolah ditunjukkan oleh nomor ....

- A. (1) dan (2)
- B. (1) dan (3)
- C. (2) dan (3)
- D. (2) dan (4)



Pembuluh darah merupakan saluran tempat mengalirnya darah dari jantung ke seluruh tubuh dan dari seluruh tubuh kembali ke jantung. Pembuluh darah terdiri atas dua jenis, yaitu pembuluh nadi dan pembuluh balik. Pembuluh nadi disebut **arteri**. Pembuluh balik disebut **vena**. Pembuluh nadi dan pembuluh balik mempunyai peranan yang berbeda.

5. Pasangkan pernyataan di bawah ini mengenai peranan pembuluh nadi dan pembuluh balik!

Membawa darah yang kaya akan oksigen keluar dari jantung ke seluruh tubuh

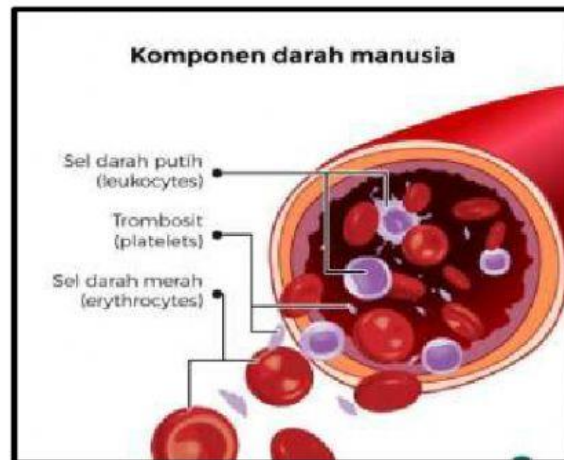
Pembuluh Balik

Membawa darah yang kaya akan karbon dioksida dari seluruh tubuh menuju jantung.

Pembuluh Nadi




6. Perhatikan komponen darah berikut!



Berdasarkan gambar di atas Komponen darah yang berperan untuk membentuk bekuan darah guna memperlambat atau menghentikan perdarahan serta mempercepat proses penyembuhan luka ialah.....

7. Perhatikan dan amati gambar berikut!



Manusia tidak bisa hidup sendiri untuk memenuhi kebutuhan hidupnya. Manusia pasti membutuhkan orang lain. Secara kodratnya, setiap manusia akan berinteraksi. Interaksi sosial yang terjadi dengan manusia ada 3 yaitu interaksi antar individu, interaksi antar individu dan kelompok, interaksi antar kelompok. Dari hasil pengamatan kalian, gambar tersebut menunjukkan interaksi sosial.....

8. Bacalah bacaan berikut!

Pak Wahyu merupakan pengusaha sandal refleksi. Pak Wahyu memproduksi sandal yang dapat digunakan untuk melancarkan peredaran darah. Sandal refleksi buatan Pak Wahyu terbuat dari kayu. Kayu tersebut diperoleh dari daerah sekitar tempat tinggalnya. Pak Damar hanya membeli kayu berkualitas. Namun demikian, Pak Wahyu selalu menyarankan kepada pemasok kayu untuk melakukan reboisasi setelah penebangan. Dengan reboisasi hutan menjadi tidak gundul dan hasil reboisasi beberapa tahun kemudian dapat dimanfaatkan lagi, di antaranya pohon dapat ditebang dan kayunya dapat digunakan lagi.

Berdasarkan teks informasi di atas, pekerjaan Pak Wahyu yang membuat sandal refleksi dari kayu merupakan interaksi antara ..... dengan .....

## 9. Perhatikan teks lagu di bawah !

**Syukur**

C = Do, 4/4  
Andante

H. Mutahar

6 . 6 6 6	1 . 7 6 .	3 . 3 3 2 1	7 2 1 7 .
Do ri ya kin	ku te guh	ba ti ikh las	ku pe ruh
6 . 6 3 2 1	7 . 1 6	6 . 6 6 7 6 5	4 . 3 2 .
A kan ka ru	ni a Ma	ta nah a ir	pu sa ka
5 . 5 5 6 5 4	3 . 2 1 .	7 . 7 3 2 1	7 2 1 7 . 1
In - de - ne - sia	mer de ka	syu kur a ku	sembah kan ke -
3 2 1 7 . 1	6 . . 0		
ha dirat Ma Tu	han		

Berdasarkan teks lagu di atas, tuliskan jenis tangga nada pada lagu beserta ciri-ciri tangga nada lagu tersebut !

.....

.....

.....

.....

.....

## 10. Perhatikan gambar cerita di bawah ini!



Tuliskan makna yang terkandung dari cerita bergambar disamping!

.....

.....

.....

.....

.....

11. Perhatikan pantun berikut!

*Bunga melati semerbak nan wangi  
terlihat mekar berseri di dalam taman  
Hilangkanlah congkak dan iri hati  
Agar banyak teman hidup pun nyaman*

Pesan dalam pantun di atas adalah ... .

- a. Kita harus bebas dari rasa congkak dan iri hati agar dipuji teman.
- b. Orang yang congkak dan iri hati, hidupnya nyaman serta banyak teman
- c. Kita tidak boleh iri hati terhadap teman yang hidupnya nyaman.
- d. Jadi orang jangan congkak dan iri hati agar hidup nyaman dan banyak teman

12. Perhatikan pantun berikut!

*Ada salam dari si Puji  
Salam manis untuk semua  
Siang malam belajar mengaji  
Agar pandai ilmu agama*

Pesan dalam pantun di atas adalah ....

- A. Belajar mengaji setiap saat agar pandai ilmu agama
- B. Belajar setiap saat agar pandai ilmu agama
- C. Puji mengajak belajar ilmu agama
- D. Puji adalah anak yang pandai ilmu agama

13.

Uniknya Burung Scarlet Ibis



Scarlet Ibis (Dok. pixabay.com)

Di kepulauan tropis Karibia, Amerika Selatan, terdapat sebuah burung unik yang bernama scarlet ibis. Ukuran burung scarlet ibis terbilang cukup besar dengan panjang mencapai 70 cm dan berat sekitar 700-900 gram.

Salah satu hal unik yang terpancar dari burung ini adalah bulunya yang sangat indah. Warna bulunya terbilang sangat merah. Akan tetapi, warna merah tersebut baru terlihat saat burung scarlet ibis beranjak dewasa.

Ketika lahir, warna burung ini bisa dibilang beraneka ragam, mulai dari abu-abu, coklat, putih atau campuran ketiganya. Saat burung ini memasuki fase remaja, baru warna bulunya perlahan-lahan menjadi merah merona.

Astaxanthin jadi salah satu zat yang membuat warna burung iblis terlihat enak dipandang. Astaxanthin merupakan zat warna merah alami yang didapatkan burung scarlet dari makanan favoritnya, yaitu kepiting merah dan udang.

Satu hal yang sangat disayangkan dari burung ini adalah warna bulunya bergantung pada makanan yang ia konsumsi. Warna bulu scarlet ibis bisa tiba-tiba berubah jadi abu-abu atau putih saat burung ini kekurangan asupan makanan favoritnya.



Oleh karenanya, burung-burung scarlet ibis yang dipelihara di kebun binatang biasanya diberi makanan yang mengandung buah bit dan wortel supaya warna bulunya tetap indah dan sejuk dipandang.

*Source majalah Bobo dengan perubahan*

Jawablah pertanyaan berikut dengan tepat!

Jika kamu mendapat tugas merawat burung *scarlet ibis*, apa yang akan kamu lakukan agar warna bulu burung itu tetap merah menyala?

14. Perhatikan hak berikut ini!

1. Berhak Mendapatkan Kasih Sayang
2. Berhak Mendapatkan Perlindungan
3. Membersihkan dapur
4. Mengerjakan tugas dari guru
5. Menghormati semua guru

Contoh hak seorang siswa di Rumah ditunjukkan oleh nomor ....

A. (1) dan (2)

B. (1) dan (3)

C. (2) dan (3)

D. (2) dan (4)

15. Sistem Peredaran Darah Besar Sistem peredaran darah besar berawal dari jantung bagian bilik kiri, mengeluarkan darah yang mengandung oksigen untuk diberikan pada aorta. Kemudian, aorta akan mengalirkan darah ke arteri bagian atas dan arteri bagian bawah. Pada proses tersebut, jantung akan memompa lebih kuat untuk memberi tekanan lebih pada darah, tekanan ini dibantu oleh denyutan otot arteri. Proses ini terus terjadi sepanjang perjalanan darah pada saluran ini. Setelah darah melakukan tugasnya mendistribusikan oksigen pada organ-organ di dalam tubuh dengan baik, darah akan memasuki arteriol untuk menuju pembuluh kapiler. Pada pembuluh kapiler, darah yang mengandung oksigen ini akan bertukar dengan darah yang mengandung karbondioksida, selanjutnya darah masuk ke saluran venul dan akan mengalir pada vena. Vena bagian bawah dan vena bagian atas akan bertemu di vena cava untuk memasuki serambi kanan dan melanjutkan perjalanan menuju bilik kanan dengan melewati katup trikuspid. Sedangkan, karbondioksida dari sel menyebar dalam darah. Pertukaran gas ini berlangsung dengan bantuan kapiler kecil yang mengelilingi sel-sel tubuh.

Secara sederhana, urutan sirkulasi sistem peredaran darah besar adalah sebagai berikut:

Jantung (bilik kiri) >> aorta >> pembuluh nadi >> pembuluh kapiler >> pembuluh balik >> jantung (serambi kanan).

Dari pernyataan ini, yang bukan fungsi darah adalah ....

- A. mengendalikan stabilitas suhu tubuh
- B. mengangkut bahan-bahan yang diperlukan oleh tubuh
- C. sebagai alat pertahanan tubuh untuk melawan infeksi
- D. meneruskan rangsangan dari otak

16. Secara sederhana, urutan sirkulasi sistem peredaran darah besar adalah sebagai berikut:

Jantung (bilik kiri) >> aorta >> pembuluh nadi >> pembuluh kapiler >> pembuluh balik >> jantung (serambi kanan).

Urutan peredaran darah besar yang benar adalah ...

- A. Jantung (bilik kiri) - seluruh tubuh - jantung ( bilik kanan)
- B. Jantung(atrium kanan) - paru-paru - jantung (atrium kiri)
- C. Jantung (bilik kiri) - seluruh tubuh - jantung (serambi kanan)
- D. Jantung(atrium kiri) - paru-paru - jantung (atrium kanan)



17. Interaksi sosial berasal dari kata *interaksi* artinya tindakan yang terjadi secara dua orang atau lebih yang bereaksi akan timbal balik melalui kontak langsung maupun tidak langsung.

*Sosial* yang berarti mencakup saling berkesinambungan atau bekerja sama seperti halnya manusia merupakan makhluk sosial yang tidak bisa hidup sendiri dan akan membutuhkan orang lain.

Secara sederhana, **pengertian interaksi sosial adalah** hubungan timbal balik antara individu maupun kelompok untuk menjalin hubungan pertemanan, diskusi, kerjasama yang diterapkan dalam kehidupan bermasyarakat.

Suatu proses timbal balik antara perorangan dan kelompok disebut ...

18. Pasangkan pernyataan interaksi manusia dan lingkungan di bawah ini!

Manusia setiap harinya melakukan kegiatan jual beli antara penjual dan pembeli di pasar

Petani yang menanam padi

Ketika menanam padi, seorang petani akan banyak melakukan interaksi dengan sawah, biji padi, pemilik lahan, hingga distributor.

Kegiatan jual beli

19. Berilah tanda centang (✓) berdasarkan teks bacaan di atas (Pilih jawaban lebih dari satu)!

- ☐ Tangga nada diatonis minor atau tangga nada minor adalah tangga nada yang bernuansa sedih dan melankolis.
- ☐ berpola 1-1-1/2-1-1-1-1/2
- ☐ Memiliki interval atau jarak nada 1-1/2-1-1-1/2-1-1
- ☐ Jarak tertnya besar

- 20.



Perpaduan gambar dan teks yang berbaaur menjadi satu kesatuan serta mengandung keindahan dan cerita yang bermakna disebut?

Jawab : .....

\*\*\* SELAMAT BEKERJA \*\*\*

PENILAIAN AKHIR SEMESTER (PAS) @ 2021 GUGUS 16