

DEMUESTRO MIS APRENDIZAJES

P.S.R.
Claret
Arequipa

ESTUDIANTE:.....
GRADO: PRIMERO SECCIÓN: AMARILLO
PROF: Eugenia Mendoza Flores Fecha: 14/12/2022

Lee los siguientes problemas y resuelve de forma adecuada

1. Daniel tiene en su billetera la cantidad que se muestra en billetes y monedas. Daniel y su familia fueron al mall a comprar algunos regalos por navidad. Contesta las siguientes interrogantes



- a. ¿Cuánto dinero tiene Daniel en su billetera?

Daniel tiene.....nuevos soles

- b. Observo los siguientes productos con sus precios.



284

385

623

80

589

Daniel pide dos objetos y paga con 400 nuevos soles. Selecciona los productos que compro. ¿Cuánto gasto? Y ¿Cuánto de vuelto recibió?

C	D	U

C	D	U

Daniel gastó nuevos soles y recibió de vuelto nuevos soles

c. Si Daniel decide comprar solo la cámara ¿Que billetes y monedas usaría?



385



2. La señora Luisa tiene una cantidad de dinero en su monedero y paga con tarjeta 500 nuevos soles para realizar la siguiente compra. ¿Cuánto dinero habia en su monedero?

C	D	U
6	2	3
	8	0

C	D	U



623



80

Respuesta: En el monedero habia nuevos soles

3. Observa el calendario de diciembre y responde las siguientes preguntas seleccionando

Diciembre 2022						
Lunes	Martes	Miércoles	Jueves	Viernes	Sábado	Domingo
28	29	30	1	2	3	4
5	6	7	8	9	10	11
12	13	14	15	16	17	18
19	20	21	22	23	24	25
26	27	28	29	30	31	1

¿Qué fecha y día es hoy?

- a. Viernes 18
- b. Lunes 20
- c. Miércoles 14

¿Qué se celebra en la Navidad?



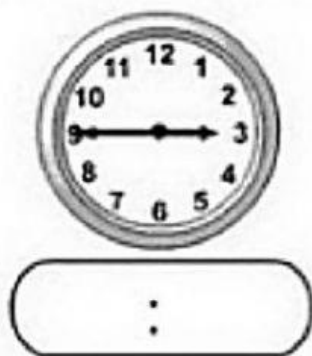
- a. La llegada de los reyes magos
- b. El nacimiento del niño Jesús
- c. La huida de la virgen

¿Qué día es 25 de diciembre?

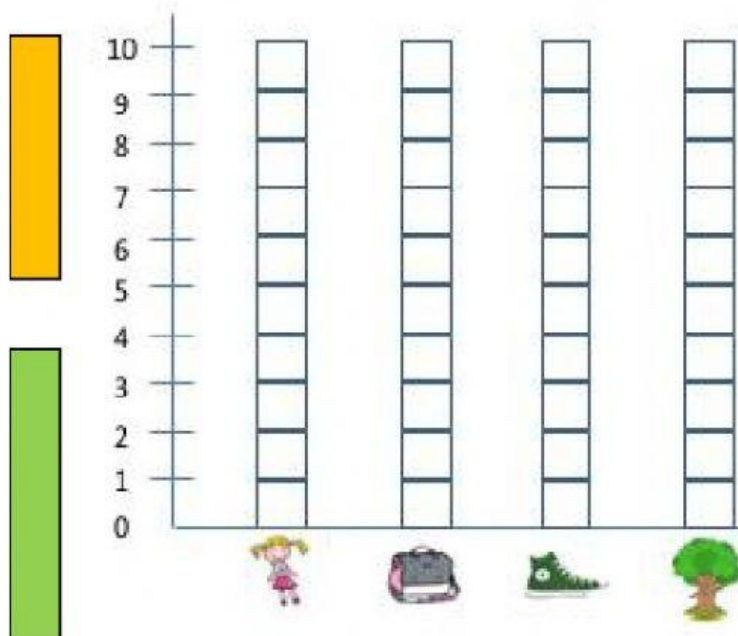

- a. viernes
- b. lunes
- c. domingo



4. Observa los siguientes relojes y escribe la hora que corresponde



5. Completa el cuadro de frecuencia con las cantidades de objetos que se muestra en las imágenes arastrando y completando el grafico de barras según corresponda y responde las siguientes preguntas



OBJETO	CONTEO	TOTAL
	II	
	III	
	III I	
	III	

a. ¿Qué producto hay más cantidad?.....

b. ¿Qué objeto en menos cantidad?.....

6. Por navidad hicieron una campaña de donación para niños de Caylloma se recolecto los regalos de la municipalidad y de la iglesia como muestra en el cuadro Completa cuantos regalos compraron cada institución y responde las preguntas.

Cada  = 20

Institución	Regalos	Total
Municipio	    	
Iglesia	  	
Total de regalos		

¿Qué institución donó mas regalos?

¿Cuántos regalos donó la iglesia?

7. Observa las imágenes y escribe si es posible – imposible o seguro según corresponda

Sacar una bola verde



Sacar una bola verde



Sacar una bola verde



8. Si sacas sin mirar un carrito de juguete al azar.



- ¿Qué color tiene menos probabilidad de sacar?
- ¿Qué color tiene mas probabilidad de salir?
- ¿Cuál es la probabilidad que salga un auto azul?

