


# LEMBAR KERJA PESERTA DIDIK

Matematika  
Kelas I



# BAB V

# BENTUK - BENTUK

# BANGUN



## Tujuan Pembelajaran

Setelah mempelajari materi ini siswa diharapkan dapat:

1. menebak benda benda yang termasuk bangun ruang
2. menebak benda benda yang termasuk bangun datar




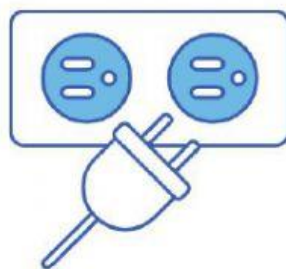
Nama : .....

Kelas : .....

No Absen : .....

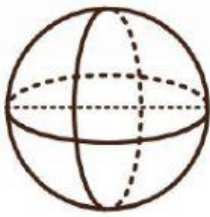
# Bangun Datar

Tuliskan nama bangun datar yang sesuai dengan benda-benda berikut di kolom yang sudah disediakan.

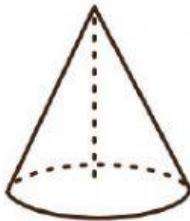


# Bangun Ruang

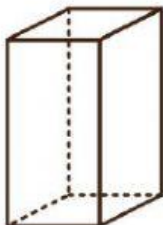
Pasangkan nama bangun yang sesuai dengan gambar yang diberikan.



Kerucut



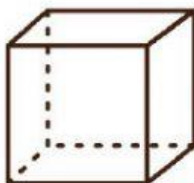
Bola



Kubus




Balok



Tabung

# Bangun Ruangku

Lingkarilah pada nama yang tepat untuk gambar di samping.



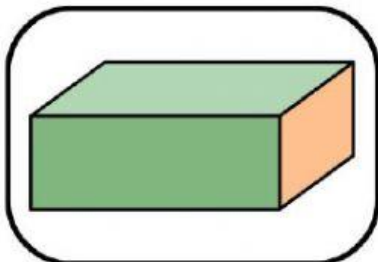
Kubus

Balok

Tabung

Prisma Segitiga

Kerucut



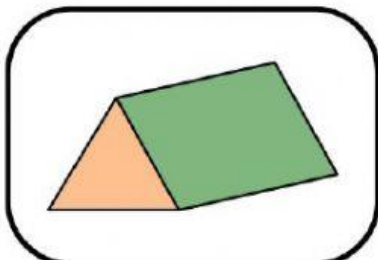
Kubus

Balok

Tabung

Prisma Segitiga

Kerucut



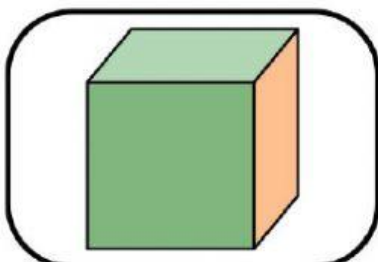
Kubus

Balok

Tabung

Prisma Segitiga

Kerucut



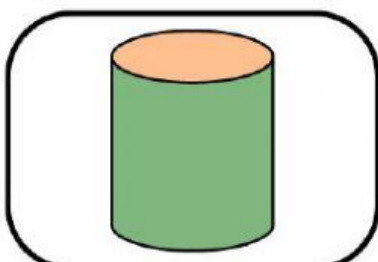
Kubus

Balok

Tabung

Prisma Segitiga

Kerucut



Kubus

Balok

Tabung

Prisma Segitiga

Kerucut



FINISH!  
SEMANGAT  
TERUS YA  
BELAJARNYA!

