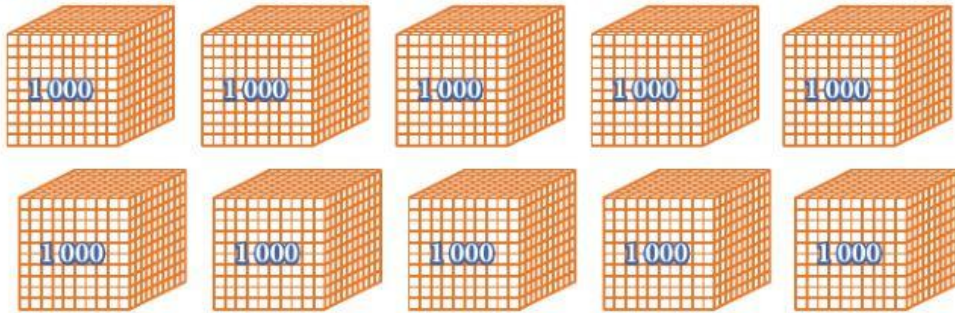


Fichas de práctica - 3^o Primaria

La Decena de Millar

Con el material base diez

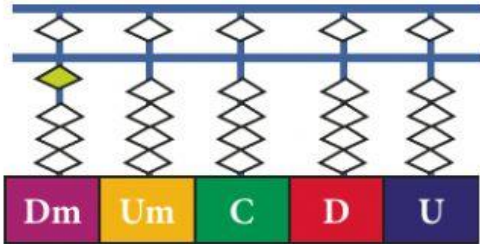


10 millares = 1 decena de millar

Diez millares forman una decena de millar



En el ábaco soroban y en el tablero de valor posicional



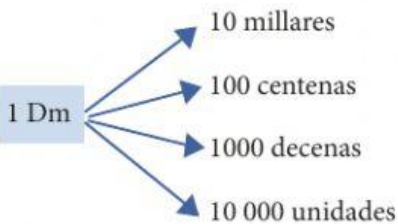
Dm	Um	C	D	U
1	0	0	0	0

10 000 se lee diez mil

En la recta numérica



Equivalencias de la decena de millar



Dm	Um	C	D	U
1	0	0	0	0
1	0	0	0	0
1	0	0	0	0
1	0	0	0	0

▶ 1 Dm = 10 Um

▶ 1 Dm = 100 C

▶ 1 Dm = 1000 D

▶ 1 Dm = 10 000 U

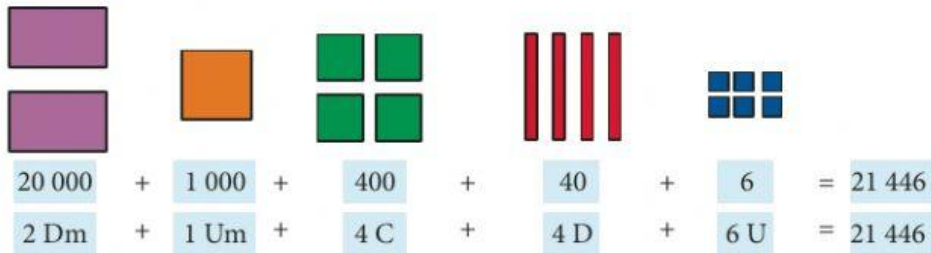
1 Dm = 10 Um = 100 C = 1000 D = 10 000 U



Actividades

- 1 Diego registró la cantidad total de rifas que vendió tercer grado y la representó usando gráficos. ¿Cuántas rifas se vendieron? Completa las cantidades.

Resolución:



Rpta.:

El tercer grado vendió 21 446 rifas.

En palabras: veintiún mil cuatrocientos cuarenta y seis

- 2 Se recibieron diversas donaciones y se obtuvieron los siguientes resultados. Completa los datos en la tabla.

Donaciones	Dm	Um	C	D	U	En cifras	Notación desarrollada	En palabras
a.	1	5	4	7	0			
b.						13 317		
c.							30 000 + 6000 + 700	Treinta y seis mil setecientos
d.						40 372		
e.	3	1	8	9	4			

Completa según sea el caso: (preguntas 3, 5 y 6)

- 3

Dm	Um	C	D	U
..... + + + + =				
Se lee:				