

**PENILAIAN AKHIR SEMESTER (PAS)**  
**TAHUN PELAJARAN 2022-2023**

**TINGKAT SEKOLAH DASAR**  
**GUGUS 16 KEC. SINJAI TENGAH**

**TEMA 3 (MAKANAN SEHAT)**

**KELAS : V (LIMA)**

**NAMA : \_\_\_\_\_**

**DINAS PENDIDIKAN KABUPATEN SINJAI**



**KEMENTERIAN PENDIDIKAN DAN KEBUDAYAAN**

**A. PILIHAN GANDA**

Berilah tanda silang (X) pada huruf A, B, C, atau D di depan jawaban yang tepat!

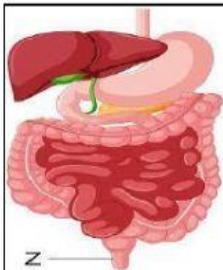
**Bacalah teks berikut!**

Indonesia terdiri atas ratusan suku bangsa dengan keragaman budayanya, tetapi Indonesia memiliki satu semboyan yang dipegang teguh oleh bangsa Indonesia. Semboyan tersebut adalah **Bhinneka Tunggal Ika** yang memiliki makna bahwa **persatuan harus senantiasa dijunjung tinggi walaupun berbeda suku, agama dan ras**.

Kata **Bhinneka Tunggal Ika** diambil dari kitab *Sutasoma* karangan *Mpu Tantular*, seorang pujangga dari Majapahit. Semboyan bangsa Indonesia ini tertulis pada kaki lambang negara Garuda Pancasila. **Bhinneka Tunggal Ika** merupakan alat pemersatu bangsa.

- Semboyan "Bhinneka Tunggal Ika" artinya . . . .
  - Maju terus pantang mundur
  - Berbeda-beda tetapi tetap satu juga
  - Kemerdekaan adalah hak suatu bangsa
  - Bersatu kita teguh, bercerai kita runtuh
- Tangga nada adalah kumpulan not musik yang diurutkan berdasarkan nada rendah hingga nada tinggi. Tangga nada diatonis terbagi atas dua yaitu tangga nada diatonis mayor dan tangga nada diatonis minor  
Berikut ini adalah ciri-ciri tangga nada mayor adalah... .
  - kurang bersemangat
  - bersemangat
  - sedih
  - melow





3.



Gambar Pencernaan Manusia

Perhatikan gambar organ pencernaan manusia di samping!

Organ pencernaan manusia yang ditunjuk oleh huruf Z berfungsi untuk...

- menghancurkan makanan
  - menyerap sari-sari makanan
  - mengeluarkan sisa-sisa makanan
  - menghaluskan makanan secara kimiawi
- Interaksi adalah bentuk hubungan timbal balik antara individu dan individu, individu dan kelompok, satu kelompok dan kelompok. Interaksi sosial dibutuhkan untuk kehidupan bersama, karena manusia tidak dapat hidup sendiri, manusia harus saling bekerjasama. Berikut ini interaksi sosial yang terjadi di lingkungan sekolah adalah ... .
    - 
    - 
    - 
    - 

5.



Perhatikan gambar di samping!

Iklan bertujuan mempromosikan barang dan ajakan atau imbauan

Iklan di samping berisi ajakan untuk ... .

- A. menghemat energi
- B. mengganti lampu
- C. membeli lampu
- D. mati lampu

## B. PILIHAN GANDA KOMPLEKS

6. Iklan adalah pemberitahuan kepada masyarakat tentang barang atau jasa yang dijual. Iklan disampaikan melalui media massa. Iklan yang menggunakan kata kunci dengan kalimat yang singkat. Bahasa yang digunakan dalam iklan juga sangat singkat dan menarik. Jika Ingin membuat iklan ada beberapa hal yang harus diperhatikan.

Berilah tanda centang (✓) pada kolom **Ya** atau **Tidak** terhadap pernyataan berikut yang merupakan ciri-ciri iklan!

Pernyataan	Ya	Tidak
1. Menarik perhatian		
2. Bahasanya singkat		
3. Objektif		
4. Bahasanya panjang		

7. Interaksi adalah bentuk hubungan timbal balik antara individu dan individu, individu dan kelompok, satu kelompok dan kelompok. Interaksi sosial dibutuhkan untuk kehidupan bersama, karena manusia tidak dapat hidup sendiri, manusia harus saling bekerja sama.

Berilah tanda centang (✓) pada kolom benar atau salah terhadap pernyataan yang merupakan interaksi sosial di masyarakat!

Pernyataan	Ya	Tidak
1. Kerja bakti lingkungan		
2. Belajar kelompok		
3. Membantu tetangga yang membangun rumah		
4. Mengerjakan tes ulangan		

8. Hewan ruminansia adalah kelompok hewan mamalia yang biasa mamamah(memakan) dua kali dan dikenal dengan hewan memamah biak. Sistem pencernaan hewan ruminansia lebih kompleks dibanding pencernaan hewan lainnya, pada hewan ruminansia terdapat empat bagian lambung dan fungsinya yang spesifik. Selain itu pencernaan makanan pada hewan ruminansia dibantu oleh beberapa mikroba, yaitu Bakteri dan protozoa.

Berilah tanda centang (✓) pada kolom **benar** atau **salah** terhadap pernyataan berikut yang merupakan bagian lambung hewan ruminansia!

Pernyataan	Benar	Salah
1. Rumen		
2. Omasum		
3. Abomasum		
4. Anaerob		

9. Indonesia sangat kaya akan keragaman budaya antara lain terlihat pada keragaman seni rupa Daerahnya. Karya seni rupa daerah yang terdapat di Indonesia antara lain seni batik, ukiran dan anyaman. Karya seni rupa setiap daerah memiliki ciri khas masing-masing yang dipengaruhi kreatifitas seniman yang membuatnya, budaya daerah setempat, ketersediaan alat dan bahan baku, teknik yang dipakai, fungsi benda yang dibuat, serta unsur keindahan. Cara dan teknik pembuatan batik ternyata memiliki kesamaan di hampir semua wilayah di Indonesia.

Berilah tanda centang (✓) pada kolom **benar** atau **salah** pada pernyataan berikut yang merupakan teknik pembuatan batik!

Pernyataan	Benar	Salah
1. Teknik Tulis		
2. Teknik Cap		
3. Teknik batik		
4. Teknik cetak		

10. Indonesia memiliki beragam budaya dan masyarakat yang berbeda-beda. Untuk menyatukan semua perbedaan tersebut, bangsa Indonesia mempunyai semboyan yaitu Bhineka Tunggal Ika. Keaneka ragaman tersebut jika disatukan akan melahirkan kekuatan yang luar biasa. Keanekaragaman tersebut juga menjadikan Indonesia kaya akan budaya. Inilah yang menjadikan Indonesia sebagai negara besar di mata dunia.

Berilah tanda centang (✓) pada kolom **Ya** atau **Tidak** terhadap pernyataan yang merupakan contoh kegiatan pelestarian budaya daerah!

Pernyataan	Ya	Tidak
1. Belajar menari daerah		
2. Menggunakan baju moderen		
3. Memperkenalkan budaya kepada bangsa lain		

4. Mengerjakan tes ulangan

### C. MENJODOHKAN

11. Sistem pencernaan memiliki fungsi utama mengubah makanan menjadi nutrisi yang dibutuhkan tubuh. Nutrisi tersebut diantaranya, diperlukan untuk proses perkembangan, perbaikan sel tubuh, termasuk sebagai sumber energi sehari-hari.

Pasangkanlah nama organ pencernaan manusia dengan gambar manusia di samping dengan menghubungkan garis!

Organ Pencernaan

lambung ●

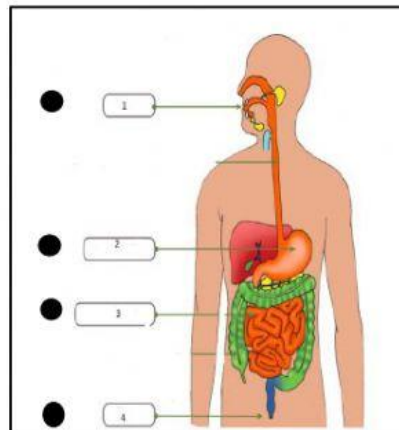
usus besar ●

mulut ●

anus ●

Usus halus ●

Gambar Manusia



12. Indonesia terkenal sebagai bangsa yang majemuk memiliki kebudayaan yang sangat beragam, seperti suku bangsa, budaya, agama dan adat istiadat. Semua itu tercermin dalam kehidupan sehari-hari masyarakat bangsa Indonesia.

Pasangkanlah gambar tarian berikut dengan properti yang digunakan dengan menghubungkan garis!

Gambar Tarian Daerah



Properti

● Selendang

● Topeng

● Bossara

● Sarung

13. Seluruh aktivitas yang digunakan manusia untuk memenuhi kebutuhan hidupnya disebut kegiatan ekonomi. Kegiatan ekonomi dibagi atas tiga yaitu produksi, distribusi dan konsumsi. Kegiatan ekonomi tersebut muncul berbagai jenis-jenis bidang usaha yang dilakukan masyarakat dalam lingkup nasional. Jenis bidang usaha tersebut yaitu pertanian, perkebunan, peternakan, perikanan, perindustrian, kehutanan, perdagangan, jasa, pendidikan, budaya dan sosial.

Pasangkanlah jenis bidang usaha berikut dengan pernyataan contoh kegiatannya!

<b>Bidang Usaha</b>	<b>Kegiatan</b>
Perkebunan ●	Industri pesawat
Peternakan ●	Ternak hewan
Jasa ●	Kebun teh
Perindustrian ●	Guru
	Tambak

14. Berdasarkan tujuannya iklan dibedakan atas dua yaitu iklan komersial dan iklan non komersial, Iklan komersial adalah jenis iklan yang banyak kita jumpai di berbagai media massa, iklan ini bertujuan untuk mempromosikan suatu barang atau jasa, sedangkan iklan non komersial adalah iklan yang bersifat nonprofit atau tidak mencari keuntungan, iklan ini berisi ajakan dan imbauan.

Pasangkanlah jenis iklan berikut dengan gambar contoh iklan yang ada!

<b>Jenis Iklan</b>	<b>Gambar Iklan</b>
Iklan Komersial ●	
Iklan Non komersial ●	

15. Indonesia adalah negeri yang sangat kaya dengan nilai budaya, dari ragam bahasa, budaya, dan adat istiadat. Beragam alat musik tradisional menjadi hal yang seharusnya dilestarikan dan dibanggakan oleh seluruh rakyat Indonesia. Alat musik tradisional ada yang dipukul, ditiup, dan dipetik atau digesek.

Pasangkanlah gambar berikut dengan pernyataan berikut dengan menghubungkan garis.

**Gambar Alat Musik**



**Asal Daerah**

Nusa Tenggara Timur

Jawa Barat

Sunda

Jawa Timur

Sulawesi Utara

**D. ISIAN**

Isilah titik-titik di bawah ini dengan tepat!

16.



Interaksi adalah bentuk hubungan timbal balik yang dibutuhkan untuk kehidupan bersama, karena manusia tidak dapat hidup sendiri, manusia harus saling bekerjasama.

Gambar di samping adalah contoh interaksi manusia dengan lingkungan ... .

17. Tangga nada diatonis mayor adalah tangga nada yang umum digunakan. Ciri-ciri tangga nada *diatonis mayor* adalah bersifat riang gembira, bersemangat dan diawali dan diakhiri dengan nada **Do**. sedangkan tangga nada *diatonis minor* bersifat sedih, kurang bersemangat dan diakhiri dengan nada **La**.

Salah satu contoh lagu yang bertangga nada minor adalah ....

18. Keragaman budaya bisa jadi alasan untuk mewujudkan persatuan bangsa karena ada upaya saling menghargai, saling menghormati budaya yang berbeda jika disikapi dengan baik dan bijak, keragaman sosial budaya bisa membawa manfaat untuk mewujudkan integritas bangsa, Keberagaman sosial budaya masyarakat dapat dilihat dalam sebuah organisasi sosial. Salah satu contoh organisasi kemasyarakatan yang ada di sekitar kita adalah ... .

**E. URAIAN**

Jawablah pertanyaan di bawah ini dengan tepat!

19. Gangguan pada organ pencernaan manusia dapat terjadi jika kita kekurangan zat makanan tertentu atau karena makanan yang kita makan tidak bersih atau mengandung bibit penyakit dan bakteri untuk itu perlu memelihara organ pencernaan.

Tuliskan empat cara memelihara organ pencernaan manusia?

Jawab :

.....

.....

.....

.....

20. Sebuah iklan agar bisa menarik perhatian masyarakat atau konsumen harus memenuhi unsur-unsur iklan. Dalam unsur-unsur iklan memuat banyak hal yang sangat menentukan sebagai kiat sukses untuk promosi dan menarik konsumen.

Tuliskan empat unsur-unsur iklan?

Jawab:

.....

.....

.....

.....

.....**Selamat Bekerja**.....