





1. Wie spät ist es? Trage beide Uhrzeiten ein.





 \_\_\_\_\_ Uhr  
 \_\_\_\_\_ Uhr





 \_\_\_\_\_ Uhr  
 \_\_\_\_\_ Uhr





 \_\_\_\_\_ Uhr  
 \_\_\_\_\_ Uhr



 \_\_\_\_\_ Uhr  
 \_\_\_\_\_ Uhr





 \_\_\_\_\_ Uhr  
 \_\_\_\_\_ Uhr





 \_\_\_\_\_ Uhr  
 \_\_\_\_\_ Uhr



 \_\_\_\_\_ Uhr  
 \_\_\_\_\_ Uhr





 \_\_\_\_\_ Uhr  
 \_\_\_\_\_ Uhr





 \_\_\_\_\_ Uhr  
 \_\_\_\_\_ Uhr





 \_\_\_\_\_ Uhr  
 \_\_\_\_\_ Uhr



 \_\_\_\_\_ Uhr  
 \_\_\_\_\_ Uhr





 \_\_\_\_\_ Uhr  
 \_\_\_\_\_ Uhr





 \_\_\_\_\_ Uhr  
 \_\_\_\_\_ Uhr





 \_\_\_\_\_ Uhr  
 \_\_\_\_\_ Uhr



 \_\_\_\_\_ Uhr  
 \_\_\_\_\_ Uhr



 \_\_\_\_\_ Uhr  
 \_\_\_\_\_ Uhr

2. Zeichne die Zeiger.

