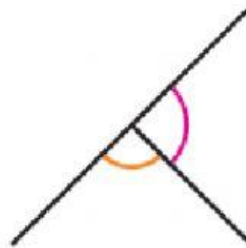
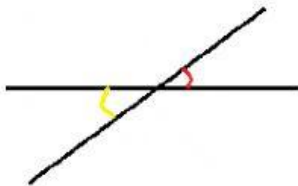

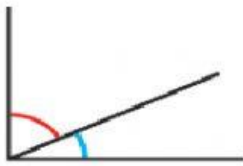
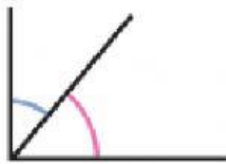


ÁNGULOS

Elige qué tipo de ángulo es:



Escribe qué pareja de ángulos son complementarios y suplementarios:



Escribe la medida de cada ángulo:

El ángulo
complementario

27°	°
63°	°

81°	°
40°	°

El ángulo
suplementario

27°	°
63°	°

148°	°
126°	°

Arrastra el tipo de ángulo y su medida correspondiente

COMPLETO	RECTO	LLANO	OBTUSO	AGUDO
90°	145°	35°	180°	360°

