



**PEMERINTAH KABUPATEN SINJAI
DINAS PENDIDIKAN
SD NEGERI 130 LITA - LITAE**

Jln .PorosMalino Desa Saotengah kec. Sinjai Tengah Kab. Sinjai

PENILAIAN AKHIR SEMESTER 1

Mata Pelajaran : Tema 5 Nama :

Kelas : VI NIS :

A. PILIHAN GANDA – SBdP

I. Berilah tanda silang (X) pada huruf A, B, C atau D di depan jawaban yang benar!

Bacalah Teks dan amati gambar dibawah ini untuk menjawab soal no.1 - 2

Ada beberapa kegiatan usaha di sekitar rumah, kegiatan usaha tersebut bisa membangun pertumbuhan ekonomi dengan membuka lapangan pekerjaan. Para pelaku usaha tersebut menawarkan barang atau jasa yang dibutuhkan oleh kita. Para pelaku usaha itu dinamakan wirausaha. Wirausaha harus mempunyai keahlian atas usahanya dengan cara mengatur dan mengembangkan usahanya.



1. Berikut ini beberapa contoh keragaman wirausaha kecuali...
 - a. Tukang cukur rambut
 - b. Tukang bengkel
 - c. usaha kerja bakti
 - d. usaha fotocopy
2. Manfaat sikap menghargai antar pelaku usaha adalah ...
 - a. Meningkatkan rasa persatuan dan kesatuan
 - b. Menonjolkan usaha sendiri
 - c. Adanya persaingan
 - d. Adanya rasa iri terhadap usaha orang lain

Perhatikan poster berikut untuk menjawab soal nomor 3 dan 4!



3. Informasi yang didapat setelah membaca poster tersebut adalah
 - A. Berputus asa dan bermalas-malasan
 - B. Berkreasi dan inovatif dalam menggambar
 - C. Semangat belajar dimasa pandemi
 - D. Jangan berhenti belajar dan terus semangat dalam berkarya

4. Berdasarkan gambar di atas, fungsi poster yaitu menyampaikan pesan secara singkat menggunakan ...
 - A. Gambar
 - B. Suara
 - C. Kata
 - D. Kata dan gambar
5. Perhatikan gambar berikut!



Jenis poster yang berisi imbauan kepada masyarakat pada gambar di atas, termasuk poster

....

- A. Niaga
- B. Kegiatan
- C. Layanan masyarakat
- D. Komersial

B. ISIAN - IPS

II. Isilah titik-titik di bawah ini dengan jawaban yang tepat!


Perhatikan teks dan gambar berikut, untuk menjawab soal no 6 dan 7

Salah satu cara menjadi seorang wirausaha yaitu memikirkan sebuah rencana produk yang akan dibuat. Setelah merancang produk, kamu perlu memikirkan nama dan kemasan produk tersebut. Di dalam kemasan pembungkus produk biasanya terdapat gambar, tulisan, serta ungkapan menarik, gambar dan tulisan tersebut dinamakan embalase. Embalase merupakan jenis reklame visual yang terdapat pada kemasan atau pembungkus hasil produk yang diperjual belikan.

Setelah produk telah jadi maka selaku wirausaha harus mampu memasarkan produk dengan baik biasanya berupa membuat berbagai jenis reklame agar menarik perhatian banyak orang untuk membeli produk kita, kita bias membuat reklame seperti spanduk, poster, billboard, brosur dll. Nah berikut contoh kemasan produk.

6. Jenis reklame visual yang terdapat pada kemasan atau pembungkus produk disebut....
7. Salah satu tujuan pemilik usaha membuat reklame adalah ...

Perhatikan gambar berikut untuk menjawab soal nomor 8 - 10



8. Program wajib belajar 12 tahun merupakan upaya pemerintah untuk mencerdaskan bangsa di bidang
9. Manfaat adanya pabrik teh bagi ekonomi masyarakat di sekitar pabrik adalah untuk mengurangi

10. Bentuk kerja sama perdagangan dengan negara anggota ASEAN dalam mengirim barang produksi ke luar negeri disebut

C. MENJODOHKAN - PPKn

III. Jodohkanlah beberapa pernyataan berikut dengan menarik garis dari ruas kiri ke kanan

dengan tepat!

Perhatikan gambar penjual batik dengan pembeli berikut ini!



11. Jodohkanlah beberapa pernyataan berikut berdasarkan gambar di atas!

















1	Kita harus bangga saat membeli dan memakai produk		A. Tanggungjawab
2	Manfaat bersikap jujur dalam berdagang dapat mendatangkan		B. Dalam negeri
3	Dapat dipercaya orang lain merupakan manfaat dari		C. Keuntungan

Bacalah teks berikut untuk menjawab soal no.12 dan 13 !

Magnet adalah benda yang dapat menarik benda lain tertentu di sekitarnya, kekuatan menarik benda tersebut disebut gaya magnet, gaya magnet paling kuat terletak di kutub-kutub magnet. Magnet mempunyai 2 kutub yaitu kutub utara dan kutub selatan sementara gaya magnet paling lemah berada di bagian tengah-tengah magnet. Jika 2 kutub magnet berbeda jenis (utara-selatan) didekatkan, magnet akan saling tarik-menarik. Sebaliknya jika dua kutub magnet sejenis (utara-utara atau selatan-selatan) saling didekatkan, kedua magnet akan saling tolak menolak.

Terdapat benda-benda disekitar kita yang dapat ditarik oleh magnet atau bisa disebut dengan benda magnetik biasanya benda ini terbuat dari logam besi atau baja sedangkan benda-benda yang tidak terbuat dari logam tidak dapat ditarik oleh magnet benda ini disebut dengan benda non magnetic.

12. Pasangkan benda-benda berikut !

A		
B		
C		
D		
E		
F		
G		
H		

1	BENDA MAGNETIK
---	-----------------------






2	BENDA NON MAGNETIK
---	---------------------------

13. Pasangkan sifat magnet berikut !

1	Tarik-Menarik
---	----------------------

2	Tolak-Menolak
---	----------------------



A	
B	
C	
D	
E	

D. URAIAN – BAHASA INDONESIA

IV. Jawablah pertanyaan-pertanyaan di bawah ini dengan tepat!

Bacalah teks berikut untuk menjawab soal no.14 dan no.15 !

MEA Singkatan dari masyarakat ekonomi ASEAN. Para pemimpin ASEAN sepakat memberlakukan pasar tunggal di kawasan Asia Tenggara pada akhir 2015 agar daya saing Asean meningkat dan untuk menarik investasi asing. Penanaman modal asing di wilayah ASEAN sangat dibutuhkan untuk meningkatkan lapangan pekerjaan dan meningkatkan kesejahteraan

Pembentukan MEA nantinya memungkinkan satu Negara menjual barang dan jasa dengan mudah ke negara-negara lain di seluruh Asia Tenggara sehingga kompetisi akan semakin kuat.

MEA tidak hanya membuka arus perdagangan barang atau jasa, tetapi juga pasar tenaga kerja profesional, seperti dokter, pengacara, akuntan dan lainnya. Dengan ditetapkannya MEA peluang tenaga kerja asing untuk mengisi berbagai jabatan serta profesi di Indonesia akan semakin terbuka.

Begitu pula tenaga kerja Indonesia juga mempunyai peluang yang lebih besar untuk bekerja di Negara-negara ASEAN lainnya.

14. Jelaskan Jelaskan yang dimaksud dengan MEA !

15. Jelaskan yang perlu dipersiapkan oleh tenaga kerja Indonesia agar mampu ikut bersaing dan berpartisipasi di MEA !

Perhatikan gambar contoh formulir berikut untuk menjawab soal nomor 16 dan 17!

Formulir Pengiriman Barang

Nomor Formulir: 201806220011
Tanggal: 22 Juni 2018

Data Pengirim

Nama Pengirim : Ajeng Maharani
Alamat Pengirim : Jalan Haji Saeng, Raya No.100, Jakarta Timur
Nomor Telepon : 021-234567

Data Penerima

Nama Penerima : Darmawan Adi
Alamat Penerima : Jalan Gedung Kuning 132, Kotagede, Yogyakarta
Nomor Telepon : 088123452345

Data Barang

Barang yang dikirim : Baju/pakaian
Berat Barang : 1.1 Kg
Jenis Pengiriman : Ekspres/Reguler

Biaya Pengiriman: Rp18.000,00

Catatan: Kurir dapat menghubungi nomor telepon yang tertera, jika penerima tidak ada di rumah.

Tanda tangan pengirim: *Ajeng* (Ajeng Maharani)

Tanda tangan penerima: *Darmawan* (Darmawan)

16. Berdasarkan gambar di atas, tuliskan 3 manfaat formulir!

17. Mengapa pada formulir barang alamat penerima barang harus ditulis ?

E. PILIHAN GANDA KOMPLEKS – IPA

V. Berilah tanda centang (✓) pada kolom BENAR/SALAH sesuai pernyataan dengan tepat!

18. Bacalah teks berikut !

Formulir merupakan lembar isian yang berisi data diri. Formulir biasanya di buat oleh suatu klub, organisasi, lembaga atau perusahaan yang ditujukan kepada masyarakat. Jenis formulir ditentukan berdasarkan tujuan formulir dibuat. Berikut beberapa jenis formulir berdasarkan tujuan pembuatannya.

- Formulir pendaftaran** berfungsi untuk mengisi biodata yang bertujuan untuk mengikuti suatu kegiatan
- Formulir daftar riwayat hidup** berfungsi untuk menyampaikan identitas, kualifikasi diri dan pengalaman kepada pihak lain
- Formulir slip tabungan** berfungsi sebagai rincian penyetoran, penarikan atau transfer uang dari bank.

Berilah tanda centang [✓] pada pernyataan yang sesuai teks di atas !

Pernyataan	B	S
1. formulir adalah lembar isian data diri yang biasanya dibuat oleh lembaga ditujukan kepada masyarakat		
2. formulir pendaftaran berfungsi untuk mengisi biodata untuk mengikuti suatu kegiatan		
3. formulir daftar riwayat hidup berfungsi untuk menyampaikan data diri saat melakukan penyetoran uang di bank		
4.formulir slip tabungan berfungsi untuk merinci biodata diri dan pengalaman hidup seseorang		

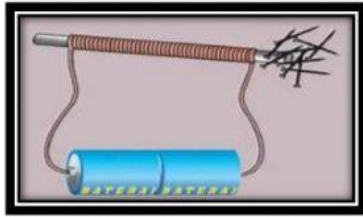
19. Bacalah teks berikut !

Mita Paradina lahir pada tanggal 3 Maret 2006 di Jakarta, Mita dan keluarga beralamat di Jakarta. Saat ini, mita berusia 12 tahun dan masih bersekolah di sekolah Dasar kelas enam. Dahulu, Mita bersekolah di TK Kumbang. Mita lulus TK pada tahun 2012. Mita belajar musik di Yamada. Di sana, Mita belajar memainkan biola. Mita pandai memainkan biola. Mita bahkan menjuarai kompetisi biola solo tingkat kota. Selain itu, mita juga cukup pandai berbahasa inggris karena sejak kecil Mita sudah terbiasa menggunakan bahasa Inggris di rumah dan di sekolah.

Nyatakan benar atau Salah pernyataan dibawah sesuai dengan teks daftar riwayat hidup “Mita” dengan memberi tanda centang (✓) di bawah huruf B atau S !

Pernyataan	B	S
1. Riwayat pendidikan Mita sekarang adalah lulus di Sekolah Dasar		
2. Prestasi yang pernah diraih Mita yaitu menjuarai kompetisi biola solo tingkat kota		
3. salah satu keterampilan Mita adalah cukup pandai berbahasa Inggris		
4. Alamat Rumah mita dan keluarga berada di Inggris		

20. Berilah tanda centang pada kolom yang disediakan berdasarkan gambar berikut!



NO	PERNYATAAN	BENAR	SALAH
1	Kekuatan magnet paling besar terletak di kutub		
2	Magnet yang dibuat dengan cara mengalirkan arus listrik disebut magnetik		
3	Magnet yang dibuat dengan cara melilitkan kawat ke batang besi disebut elektromagnetik		