

**PENILAIAN AKHIR SEMESTER (PAS)**  
TAHUN PELAJARAN 2022-2023

# SD/MI

**TEMA 1**  
**(Organ gerak Hewan dan manusia)**

KELAS : V (LIMA)

NAMA : \_\_\_\_\_



**DINAS PENDIDIKAN KABUPATEN SINJAI**

**A. PPKn**

1. Dasar negara Indonesia adalah...
  - a. TAP MPR
  - b. Undang-Undang Dasar
  - c. Pancasila
  - d. Bhinneka Tunggal Ika
2. Perilaku dalam kehidupan sehari-hari yang sesuai dengan pancasila sila kedua adalah .....
  - a. Orang tua Fitri memberikan sumbangan kepada korban bencana alam.
  - b. Mini menghormati Soni untuk beribadah ke masjid
  - c. Mengikuti pemilihan ketua kelas
  - d. Gemar menabung dan menghemat uang jajan
3. Gambar di bawah ini yang menunjukkan perilaku yang tidak sesuai dengan nilai-nilai pancasila.....



4. Dibawah ini perilaku yang sesuai dengan nilai-nilai pancasila dalam bermasyarakat, kecuali.....
  - a. Menjenguk tetangga yang sakit
  - b. Menghargai orang yang sedang beribadah
  - c. Suka pamer kekayaan
  - d. Rajin melakukan kerja bakti

**B. IPS**

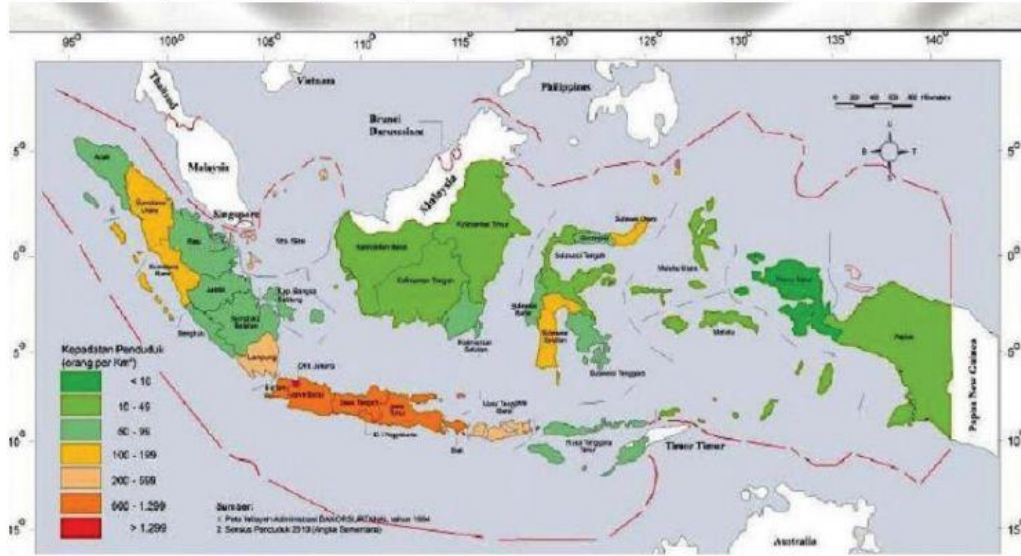
Bacalah teks berikut !

Letak Geografis Indonesia

Keadaan Indonesia dipengaruhi oleh letak geografis dan astronomis. Letak geografis adalah letak suatu wilayah yang dilihat dari kenyataannya di permukaan bumi. Secara geografis Indonesia terletak di antara Benua Australia dan Benua Asia serta dua Samudra, yaitu Samudra Pasifik dan Samudra Hindia.


5. Letak suatu wilayah yang dilihat dari kenyataannya di permukaan bumi disebut .....
6. Letak geografis negara Indonesia berada diantara dua benua yaitu ....

7. Amatilah peta persebaran kepadatan penduduk di Indonesia berikut!



Pulau yang paling padat penduduknya di Indonesia adalah .....

8. Amatilah keempat gambar kenampakan berikut !




Kenampakan alam ditunjukkan pada gambar ... dan ... .

**C. IPA**

9. Alat gerak terdiri atas dua macam, yaitu alat gerak aktif dan alat gerak pasif. Manakah yang termasuk alat gerak aktif dan alat gerak pasif ?

.....

10.  Apa nama organ gerak pada gambar hewan disamping?

.....

11. Berilah tanda centang (✓) pada setiap informasi yang benar!

Nama Tulang	Tulang pada lengan manusia	Tulang pada kaki manusia
Tulang lengan atas		
Tulang paha		
Tulang betis		
Tulang hasta		
Tulang tempurung lutut		

Tulang pengumpil		
------------------	--	--

12. Berilah tanda centang (☐) pada kolom yang disediakan berdasarkan informasi berikut!

'Hewan vertebrata merupakan hewan yang memiliki tulang belakang. Sedangkan hewan avertebrata merupakan hewan yang tidak memiliki tulang belakang'

No	Nama Hewan	Vertebrata	Avertebrata
1.	Kelinci		
2.	Siput		
3.	Cacing		
4.	Ikan		

#### D. BAHASA INDONESIA

Bacalah teks berikut!

Bersepeda mempunyai manfaat yang bagus untuk kesehatan tubuh kita. Dengan mengendarai sepeda, sebenarnya kita juga sedang berolahraga. Saat berolahraga, otot-otot yang ada di tubuh, terutama kaki akan terlatih dengan gerakan mengayuh. Selain itu, bersepeda sangat baik untuk sendi terutama lutut. Saat mengendarai sepeda, kaki dan lutut kita akan bergerak terus untuk mengayuh. Hal ini dapat menambah kekuatan dan kesehatan sendi.

Bersepeda setiap hari tentu akan membuat kita lebih aktif bergerak. Dengan selalu aktif bergerak inilah tubuh kita akan semakin kuat, terutama kaki. Selain itu, dengan bersepeda kita akan merasa lebih sehat. Hal ini membuat kita berkeinginan untuk makan-makanan yang lebih sehat juga.

13. Ide pokok pada paragraf pertama teks di atas adalah .....

14. Paragraf yang kalimat utamanya berada di awal paragraf disebut ...

15. Ide pokok paragraf kedua teks tersebut terdapat pada kalimat...

16. Berilah tanda centang (☑) pada pernyataan yang sesuai dengan teks di atas!

- Mengendarai sepeda sama halnya dengan berolahraga.
- Bersepeda membuat kita menjadi lebih berhati-hati dalam memilih makanan.
- Bersepeda dapat menambah kekuatan dan kesehatan sendi.
- Mengendarai sepeda dapat melatih kekuatan otot-otot lengan.


#### E. SBdP

17. Apa yang dimaksud dengan cover?

18. Tuliskan langkah-langkah membuat gambar ilustrasi!

19. Pasangkan dengan garis bagian-bagian cover yang ditunjuk pada gambar !

Perhatikan cover buku berikut!




1 ← Judul buku

2 ← Nama penulis


3 ← Penerbit

4 ← Gambar sampul


20. Pasangkan dengan garis jenis-jenis gambar ilustrasi dibawah ini !




→ ← Gambar kartun



→ ← Gambar karikatur



→ ← Gambar realis



→ ← Gambar dekoratif

\*\*\* SELAMAT BEKERJA\*\*\*

PENILAIAN AKHIR SEMESTER (PAS) @ 2022 GUGUS 16