



**PEMERINTAH KABUPATEN SINJAI
DINAS PENDIDIKAN
SD NEGERI NO.56 TALLE**

Alamat: Jl. Poros Sinjai Malino Kec. Sinjai Tengah ☎ 92672

PENILAIAN AKHIR SEMESTER 1 KELAS VI T.P. 2022 / 2023

Mata Pelajaran : Tema 1

Nama :

Waktu : 60 Menit

No. Absen :

PILIHAN GANDA

1. Bacalah teks berikut!

Pengalaman Belajar dari Negara-Negara ASEAN Hari ini merupakan hari yang penting bagi Udin, Edo, Beni, Siti, Dayu, Lani, dan teman sekelasnya. Mereka akan berkunjung ke pameran budaya ASEAN yang diselenggarakan oleh Sekretariat ASEAN yang terletak di Jakarta. Wah, tidak sabar rasanya Udin dan teman-teman ingin sampai di sana. Kebetulan saat ini mereka juga sedang belajar mengenai negara-negara tetangga. Mereka ingin sekali melihat bukti dari yang mereka pelajari. Sesampai di arena pameran, Udin dan teman-temannya dibagi menjadi beberapa kelompok. Pameran diikuti oleh sepuluh negara anggota ASEAN. Masing-masing anjungan tampil menarik dengan ciri khas tiap negara. Anjungan Indonesia tampil dengan ciri khas rumah Toraja yang unik dan menarik.

Salah satu contoh tentang keberagaman budaya yang mereka temukan dalam teks adalah

- A. Masing-masing menampilkan anjungan yang menarik dengan ciri khas tiap Negara
- B. Anjungan Indonesia tampil dengan ciri khas rumah Toraja yang unik
- C. Pengalaman belajar dari negara-negara ASEAN
- D. Ciri khas rumah tiap negara hampir sama

2. Perhatikan formulir di bawah ini !

FORMULIR PENDAFTARAN LOMBA CERDAS CERMAT ASEAN	
1. Identitas diri	
a. Nama Lengkap	:
b. Umur	:
c. Kelas	:
d. Alamat	:
Kota	:
Kode Pos	:
e. No. Telepon Rumah	:
f. Nama Sekolah	:
g. Alamat Sekolah	:
h. No. Telp Sekolah	:
i. No. Kartu pelajar	:
2. Jenis lomba yang akan diikuti:	
.....	
Tanda tangan, (Nama lengkap)	
Catatan: Formulir yang sudah ditandatangani diserahkan kepada panitia di masing-masing stan.	

Bagian penting di dalam format penulisan berdasarkan formulir di atas adalah ...

- A. Alamat keluarga/wali
- B. Nama orang tua
- C. Nama lengkap
- D. Jenis kelamin

3. Bacalah tek berikut!

Sikap kerja keras merupakan sikap pantang menyerah untuk melakukan suatu hal, tidak pernah mengeluh dan selalu berusaha walaupun banyak rintangan namun tetap berusaha untuk mencapainya. Sikap kerja keras dapat tercermin dalam lingkungan keluarga, sekolah, dan masyarakat.

Sikap bekerja keras dalam lingkungan sekolah di tunjukan dengan

- A. Bekerja keras untuk menciptakan lingkungan yang aman dan tentram
- B. Bekerja keras untuk mendapatkan barang yang di inginkan
- C. Bersungguh bersungguh dalam menuntut ilmu
- D. Kerja keras dalam membantu orang tua

4. perhatikan teks berikut!

Tahukah kamu bahwa Daftar Riwayat Hidup adalah data yang berisi informasi tentang diri seseorang? Kamu dapat membuat daftar riwayat hidup untuk keperluan menerangkan data diri kepada orang lain.

Kamu membuat daftar riwayat hidup untuk keperluan mendaftarkan diri, misalnya mendaftarkan diri ikut lomba kesenian, menjadi anggota sebuah tim, pengurus suatu kegiatan, atau untuk melamar pekerjaan.

Setiap orang memiliki riwayat hidup masing-masing.

Riwayat hidupmu pasti berbeda dengan riwayat adikmu, kakakmu, bahkan orang tuamu.

Kamu dapat menulis daftar riwayat hidup dalam bentuk singkat maupun dalam bentuk narasi atau cerita.

Berdasarkan teks di atas, salah satu fungsi daftar riwayat hidup adalah ...

- A. Daftar riwayat hidup adalah data diri seseorang
- B. Daftar riwayat hidup berbeda-beda
- C. Untuk menawarkan produk
- D. Melamar pekerjaan

A. PILIHAN GANDA KOMPLEKS

5. Perhatikan gambar di bawah ini !



Berilah tanda centang (✓) pada pernyataan benar atau salah dibawah ini!

PERNYATAAN	BENAR	SALAH
Gambar di atas merupakan salah satu contoh reklame.		
Reklame bertujuan untuk memperkenalkan produk.		
Brosur dan selebaran dapat diperlihatkan sebagian orang		
Selain brosur, baliho/spanduk juga merupakan contoh reklame		

6. Bacalah teks berikut !

Gelang Benang, Kreatif Mengisi Waktu Luang

Man, seorang anak laki-laki Suku Sasak dari Desa Sade, Lombok. Usianya hampir 12 tahun. Ia baru saja menyelesaikan ujian akhir tingkat SD di sekolahnya. Usai sekolah, Man dan beberapa teman seusianya secara kreatif mengisi waktu luang dengan berjualan aneka warna gelang benang buatan sendiri. Sejak dini, anak-anak Suku Sasak terbiasa menyaksikan kaum ibu memintal benang dan menenun kain. Sisa benang aneka warna mereka jalin dengan beragam kreasi untuk dijadikan gelang.

Man bangga ketika gelang hasil buatannya dipuji oleh wisatawan. Sederhana, namun unik dan kreatif, begitu komentar para wisatawan terhadap gelang benang buatan Man dan teman-temannya. Kreativitas Man dalam memanfaatkan waktu luang memberinya pembelajaran hidup yang tak ternilai.

Berdasarkan teks di atas berilah tanda centang (✓) pernyataan yang merupakan sikap seorang wirausaha!

- ☐ Sikap bangga berjualan aneka warna gelang benang buatan sendiri
- ☐ Kreativitas dan ketekunan adalah modal dalam melakukan wirausaha
- ☐ Bekerja keras untuk memenuhi kebutuhan keluarganya
- ☐ Selalu mencari aman dan tidak menerima kritikan

7. Bacalah teks berikut

Keberagaman adalah suatu kondisi dalam masyarakat yang terdapat banyak perbedaan dalam berbagai bidang. Contohnya perbedaan suku, adat istiadat, budaya, bahasa, dan agama. Kita dapat menemukan perbedaan atau keberagaman tersebut dari hal-hal sederhana. Misalnya, kamu dan temanmu memiliki logat berbahasa yang berbeda karena berasal dari daerah yang berbeda pula.

Berdasarkan teks di atas berilah tanda centang (✓) pernyataan yang termasuk penyebab keberagaman masyarakat !

- ☐ Perbedaan nama suatu daerah
- ☐ Perbedaan suku dan agama
- ☐ Perbedaan kondisi jalanan
- ☐ Perbedaan bahasa

8. Bacalah teks berikut!

Magnet adalah benda yang dibuat dari besi atau baja yang dapat menarik benda-benda dari bahan tertentu. Magnet dapat dibedakan menjadi magnet alam dan magnet buatan. Magnet alam adalah magnet yang terjadi secara alami, sedangkan magnet buatan adalah magnet yang dibuat oleh manusia.

Berdasarkan teks di atas berilah tanda centang (✓) pernyataan yang termasuk cara membuat magnet!

- ☐ Dengan cara mengaliri arus listrik
- ☐ Dengan cara memanaskan besi
- ☐ Dengan cara menggosok
- ☐ Dengan cara induksi

B. MENJODOHKAN

9. Perhatikan teks di bawah ini !

Kutub-Kutub Magnet







Semua magnet mempunyai ciri-ciri tertentu. Setiap magnet memiliki dua tempat yang gaya magnetnya sangat kuat.

Daerah ini disebut kutub magnet. Ada dua kutub magnet, yaitu kutub utara (U) dan kutub selatan (S). Sering kita menjumpai magnet yang bertuliskan N dan S. N merupakan kutub utara magnet itu (singkatan dari *North* yang berarti Utara), sedangkan S kutub selatannya (singkatan dari *South* yang berarti selatan).

Magnet dapat berada dalam berbagai bentuk dan ukuran. Bentuk yang paling sederhana berupa batang lurus. Selain itu, ada juga magnet yang berbentuk tapal kuda (ladam) dan jarum. Pada bentuk-bentuk ini, kutub magnet berada pada ujung-ujung magnet tersebut.

Pasangkanlah nama dengan bentuk magnet berikut ini !

Magnet Lingkaran	•	•	
Magnet Ladam	•	•	
Magnet Batang	•	•	
Magnet Jarum	•	•	

10.

Arti Bendera dan Logo ASEAN



Bendera ASEAN melambangkan ASEAN yang stabil, penuh perdamaian, bersatu, dan dinamis. Adapun lambang ASEAN berada di tengah bendera ASEAN, sedangkan warna bendera dan lambang ialah biru, merah, putih, dan kuning; masing-masing mewakili warna dasar setiap bendera negara anggota ASEAN.

pasangkanlah warna bendera ASEAN dengan makna logo ASEAN berikut!

Biru	●	●	Semangat dan kedinamisan
Merah	●	●	Perdamaian dan stabilitas
Putih	●	●	Simbol kemakmuran
Kuning	●	●	Kesucian

11. Bacalah teks berikut!

Berdasarkan sifat kemagnetannya, benda magnetis dapat dikelompokkan menjadi tiga jenis yaitu: **feromagnetik** adalah benda logam yang dapat ditarik sangat kuat oleh magnet; **paramagnetik** adalah benda logam yang ditarik lemah oleh magnet; dan **diamagnetik** adalah bendayang tidak dapat ditarik oleh magnet.

Berdasarkan teks di atas, pasangkanlah sifat kemagnetan dengan contoh bendahnya!

Feromagnetik	<input type="radio"/>	<input type="radio"/> Aluminium
Paramagnetik	<input type="radio"/>	<input type="radio"/> Plastik
Diamagnetik	<input type="radio"/>	<input type="radio"/> Besi

12. Bacalah teks berikut!

Dalam menjalankan roda perekonomian, suatu Negara tidak dapat berdiri sendiri, namum diperlukan kerja sama dengan Negara lain, salah satu contohnya adalah kerja sama Negara-negara ASEAN. Contoh sederhana dari usaha fotokopi dan bengkel, sebagian sumber daya ada yang berasal dari dalam negeri, da nada pula yang didatangkan dari luar negeri, seperti mesin fotokopi dan suku cadang untuk kendaraan bermotor.

Kegiatan mendatangkan atau memasukkan barang dagangan atau komoditas dari luar negeri disebut mengimpor. Kegiatan mengirim barang dagangan atau komoditas ke luar negeri disebut mengekspor.

Berdasarkan teks di atas, pasangkanlah ekspor dan impor dengan contoh barangnya masing-masing!

	<input type="radio"/>	<input type="radio"/> Kain batik
Ekspor	<input type="radio"/>	<input type="radio"/> Sepeda motor
	<input type="radio"/>	<input type="radio"/> Kelapa sawit
Impor	<input type="radio"/>	<input type="radio"/> Handphone

C. ISIAN

13. Perhatikan teks berikut ini !

Apakah MEA itu?

MEA singkatan dari Masyarakat Ekonomi ASEAN. Para pemimpin Asean sepakat memberlakukan pasar tunggal di kawasan Asia Tenggara pada akhir 2015 agar daya saing Asean meningkat dan untuk menarik investasi asing. Penanaman modal asing di wilayah ASEAN sangat dibutuhkan untuk meningkatkan lapangan pekerjaan dan meningkatkan kesejahteraan.

Pembentukan MEA) nantinya memungkinkan satu negara menjual barang dan jasa dengan mudah ke negara-negara lain di seluruh Asia Tenggara sehingga kompetisi akan semakin ketat.

Singkatan dari Masyarakat Ekonomi ASEAN adalah

14. Perhatikan gambar di bawah ini !



Gambar di atas merupakan salah satu jenis reklame. Nama reklame di atas adalah ...

15. Perhatikan teks berikut!

Tahukah kamu bahwa Daftar Riwayat Hidup adalah data yang berisi informasi tentang diri seseorang? Kamu dapat membuat daftar riwayat hidup untuk keperluan menerangkan data diri kepada orang lain.

Kamu membuat daftar riwayat hidup untuk keperluan mendaftarkan diri, misalnya mendaftarkan diri ikut lomba kesenian, menjadi anggota sebuah tim, pengurus suatu kegiatan, atau untuk melamar pekerjaan.

Setiap orang memiliki riwayat hidup masing-masing.

Riwayat hidupmu pasti berbeda dengan riwayat adikmu, kakakmu, bahkan orang tuamu.

Berdasarkan teks di atas, untuk keperluan mendaftarkan diri atau untuk melamar pekerjaan adalah fungsi dari ...

16. Perhatikan teks berikut!

Apa logo itu?

Logo merupakan bagian dari reklame. Logo adalah tanda, lambang, ataupun simbol yang mengandung makna dan digunakan sebagai identitas sebuah organisasi, perusahaan, atau individu agar mudah diingat oleh orang lain.

Tanda, lambang, ataupun simbol yang mengandung makna dan digunakan sebagai identitas sebuah organisasi, perusahaan, atau individu agar mudah diingat oleh orang lain adalah pengertian dari

D. ESSAY/URAIAN

17. Perhatikan teks di bawah ini !

PETUNJUK PENGISIAN DAFTAR RIWAYAT HIDUP

1. Data Pribadi Cantumkan dalam data pribadi nama lengkap, alamat lengkap, kode pos, nomor telepon, jenis kelamin, tempat dan tanggal kelahiran, kewarganegaraan, dan agama.
2. Bidang yang diminati Tuliskan bidang yang kamu minati.
3. Riwayat Pendidikan Tuliskan riwayat pendidikan yang pernah kamu tempuh, misalnya Taman Bermain, TK A, TK B, dan SD.
4. Ekstrakurikuler dan Kursus Cantumkan ekstrakurikuler dan kursus yang pernah kamu ikuti.
5. Kecakapan Tuliskan kecakapan atau keterampilan lain yang kamu miliki.
6. Kesimpulan Tuliskan di bagian kesimpulan sikap dan keterampilan yang menonjol dalam dirimu yang mendukung bidang yang kamu pilih.

Berdasarkan teks di atas, apa yang dimaksud dengan daftar riwayat hidup?

.....

.....

.....

.....

.....

18. Perhatikan percobaan di bawah ini !

Percobaan Sifat-Sifat Magnet

Tujuan percobaan:
- Mengidentifikasi sifat-sifat magnet.

Alat dan Bahan:
- Sepasang magnet untuk setiap kelompok.
- Peniti
- Penjepit kertas
- Pensil
- Pulpen
- Kertas

Langkah-langkah:
1. Dekatkan kutub yang sama dari kedua magnet.
2. Dekatkan kutub yang berbeda dari kedua magnet.
3. Dekatkan magnet dengan penjepit kertas.
4. Dekatkan magnet dengan kertas.
5. Dekatkan magnet dengan pensil.
6. Dekatkan magnet dengan peniti.
7. Dekatkan magnet dengan pulpen.
8. Letakkan satu magnet di atas kertas dan letakkan yang lainnya di bawah kertas tepat di bawah magnet yang pertama. Geser magnet yang dibagian bawah.

Berdasarkan percobaan di atas, tuliskan 4 sifat-sifat magnet !

.....

.....

.....

.....

19. Bacalah teks berikut!

Logo adalah tanda, lambang, ataupun simbol yang mengandung makna dan digunakan sebagai identitas sebuah organisasi, perusahaan, atau individu agar mudah diingat oleh orang lain. Sebelum membuat logo perlu mengetahui langkah-langkah dalam merancang logo agar logo yang dibuat menarik.

Berdasarkan teks di atas, Tuliskan langkah-langkah yang diperlukan dalam merancang logo !

.....

.....

.....

.....

20. Perhatikan teks berikut!

Kegiatan mendatangkan atau memasukkan barang dagangan atau komoditas dari luar negeri disebut *mengimpor*.

Kegiatan mengirim barang dagangan atau komoditas ke luar negeri disebut *mengekspor*.

Berdasarkan teks di atas, jelaskan perbedaan ekspor dengan impor !

.....

.....

.....

SELAMAT BEKERJA