



PEMERINTAH KABUPATEN SINJAI  
DINAS PENDIDIKAN

SD NEGERI 130 LITA - LITAE

*Jln .PorosMalino Desa Saotengah kec. Sinjai Tengah Kab. Sinjai*

PENILAIAN AKHIR SEMESTER 1

Mata Pelajaran : Tema 5 Nama :

Kelas : VI NIS :

A. PILIHAN GANDA – SBdP


I. Berilah tanda silang (X) pada huruf A, B, C atau D di depan jawaban yang benar!

*Perhatikan poster berikut untuk menjawab soal nomor 1 dan 2!*



1. Informasi yang didapat setelah membaca poster tersebut adalah ....
  - A. Berputus asa dan bermalas-malasan
  - B. Berkreasi dan inovatif dalam menggambar
  - C. Semangat belajar dimasa pandemi
  - D. Jangan berhenti belajar dan terus semangat dalam berkarya
2. Berdasarkan gambar di atas, fungsi poster yaitu menyampaikan pesan secara singkat menggunakan ...
  - A. Gambar
  - B. Suara
  - C. Kata
  - D. Kata dan gambar

3. Perhatikan gambar berikut!



Jenis poster yang berisi imbauan kepada masyarakat pada gambar di atas, termasuk poster ....

- Niaga
- Kegiatan
- Layanan masyarakat
- Komersial

## B. ISIAN - IPS

II. Isilah titik-titik di bawah ini dengan jawaban yang tepat!

Perhatikan gambar berikut untuk menjawab soal nomor 4 - 6!



- Program wajib belajar 12 tahun merupakan upaya pemerintah untuk mencerdaskan bangsa di bidang ....
- Manfaat adanya pabrik teh bagi ekonomi masyarakat di sekitar pabrik adalah untuk mengurangi ....
- Bentuk kerja sama perdagangan dengan negara anggota ASEAN dalam mengirim barang produksi ke luar negeri disebut ....

## C. MENJODOHKAN - PPKn

III. Jodohkanlah beberapa pernyataan berikut dengan menarik garis dari ruas kiri ke kanan dengan tepat!

Perhatikan gambar penjual batik dengan pembeli berikut ini!



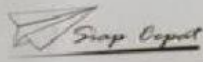
7. Jodohkanlah beberapa pernyataan berikut berdasarkan gambar di atas!

1	Kita harus bangga saat membeli dan memakai produk	<input type="radio"/>	<input type="radio"/>	A. Tanggungjawab
2	Manfaat bersikap jujur dalam berdagang dapat mendatangkan	<input type="radio"/>	<input type="radio"/>	B. Dalam negeri
3	Dapat dipercayai orang lain merupakan manfaat dari	<input type="radio"/>	<input type="radio"/>	C. Keuntungan

## D. URAIAN – BAHASA INDONESIA

## IV. Jawablah pertanyaan-pertanyaan di bawah ini dengan tepat!

Perhatikan gambar contoh formulir berikut untuk menjawab soal nomor 8 dan 9!

Formulir Pengiriman Barang	
	
Nomor Formulir: 201806220011 Tanggal: 22 Juni 2018	
<b>Data Pengirim</b>	
Nama Pengirim	: Ajeng Maharani
Alamat Pengirim	: Jalan Haji Baping Raya No.100, Jakarta Timur
Nomor Telepon	: 021-234567
<b>Data Penerima</b>	
Nama Penerima	: Darmawan Adi
Alamat Penerima	: Jalan Gedong Kuning 132, Kotagede, Yogyakarta
Nomor Telepon	: 088123452345
<b>Data Barang</b>	
Barang yang Dikirim	: Baju/pakaian
Berat Barang	: 1.1 Kg
Jenis Pengiriman	: Ekspres/Reguler
Biaya Pengiriman: Rp18.000,00	
Catatan: Kurir dapat menghubungi nomor telepon yang tertera, jika penerima tidak ada di rumah.	
Tanda tangan petugas	Tanda tangan pengirim
<i>firmsyah</i> (Firmsyah)	<i>Ajeng</i> (Ajeng Maharani)

8. Berdasarkan gambar di atas, tuliskan 3 manfaat formulir!

---



---

9. Mengapa pada formulir barang alamat penerima barang harus ditulis ?

---

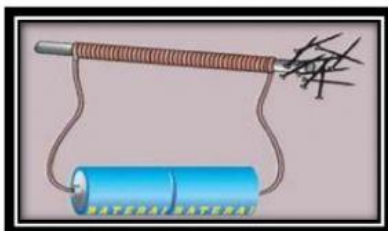


---

## E. PILIHAN GANDA KOMPLEKS – IPA

V. Berilah tanda centang (✓) pada kolom BENAR/SALAH sesuai pernyataan dengan tepat!

10. Berilah tanda centang pada kolom yang disediakan berdasarkan gambar berikut!



NO	PERNYATAAN	BENAR	SALAH
1	Kekuatan magnet paling besar terletak di kutub		
2	Magnet yang dibuat dengan cara mengalirkan arus listrik disebut magnetik		
3	Magnet yang dibuat dengan cara melilitkan kawat ke batang besi disebut elektromagnetik		

\*\*\* SELAMAT BEKERJA\*\*\*