

PENILAIAN AKHIR SEMESTER (PAS)
TAHUN PELAJARAN 2022/2023

Nama	:		Hari, Tanggal	:	
Kelas/Semester	:	5/1	Tema	:	1

SOAL PILIHAN GANDA

Bahasa Indonesia

1. Perhatikan teks berikut!

Hasil laut seperti karang, teripang, dan kepiting merupakan komoditas ekspor. Oleh karena itu, para nelayan kita harus pandai-pandai dalam membudidayakan dan memanen hasil laut tersebut, jangan sampai komoditas hasil laut dari luar negeri masuk ke Indonesia. Para generasi muda hendaknya ikut memikirkan pembangunan kelautan. Janganlah berpandangan bahwa laut adalah sesuatu yang menakutkan, tetapi harus sebaliknya, laut merupakan sahabat.

Gagasan utama paragraf diatas adalah ...

- Para generasi muda hendaknya ikut memikirkan pembangunan kelautan.
 - Hasil laut seperti karang, teripang, dan kepiting merupakan komoditas ekspor.
 - Janganlah berpandangan bahwa laut adalah sesuatu yang menakutkan, tetapi harus sebaliknya, laut merupakan sahabat.
 - Jangan sampai komoditas hasil laut dari luar negeri masuk ke Indonesia.
2. Berikut yang merupakan kalimat tanya yang tepat berdasarkan teks diatas adalah ...
- Apa jenis hasil laut yang merupakan komoditas ekspor ?
 - Dengan siapa adik bermain di halaman ?
 - Apa yang menyebabkan Andi terlambat ke Sekolah ?
 - Dengan siapa adik berangkat ke sekolah !
- Perhatikan teks berikut!

Prinsip-prinsip gotong royong sangat bermanfaat bagi pelaksanaan pembangunan nasional. Karena semua masyarakat merasa saling memiliki. Masyarakat juga merasa mempunyai tujuan yang sama, yakni terwujudnya kehidupan yang sejahtera. Dengan bergotong royong, segala program pembangunan yang dicanangkan oleh pemerintah akan dapat dilaksanakan dengan baik tanpa adanya gangguan yang disebabkan oleh ketidakharmonisan masyarakat.



3. Ide pokok pada paragraph di atas adalah....
- Prinsip gotong royong
 - Kehidupan sejahtera
 - Pembangunan yang baik
 - Masyarakat yang harmonis
4. Berikut yang merupakan kalimat tanya yang tepat berdasarkan teks diatas adalah ...
- Kapan prinsip gotong royong sangat bermanfaat bagi pembangunan nasional ?
 - Apa manfaat gotong royong yang dilakukan pada gambar diatas ?
 - Dengan siapa adik berangkat ke sekolah ?
 - Dengan siapa adik bermain di halaman ?

SOAL PILIHAN GANDA KOMPLEKS

IPA

Perhatikan teks berikut!

Dalam kehidupan sehari-hari, dapat kita jumpai berbagai jenis hewan vertebrata dan hewan avertebrata. Hewan vertebrata adalah hewan yang memiliki susunan tulang belakang, sedangkan hewan avertebrata adalah hewan yang tidak memiliki tulang belakang.

5. Setelah mengamati teks di atas, berilah tanda centang (✓) pada kolom kelompok hewan vertebrata dan hewan avertebrata berikut!

nama hewan	vertebrata	avertebrata
Kelinci		
Cumi-cumi		
Kucing		
Kupu-kupu		

Perhatikan teks berikut:

kaki dan tangan kita bisa bergerak karena pada kaki dan tangan kita terdapat tulang dan otot. Tulang dan otot inilah yang bisa mengerakkan tangan dan kaki kita. Tangan dan otot merupakan alat gerak.

Organ gerak pada hewan dan manusia memiliki kesamaan. Alat-alat gerak yang digunakan pada manusia dan hewan ada dua macam yaitu alat gerak pasif berupa tulang dan alat gerak aktif berupa otot. Kedua alat gerak ini akan bekerja sama dalam melakukan pergerakan sehingga membentuk suatu sistem yang disebut sistem gerak. Tubuh manusia, khususnya tangan dan kaki terdiri atas beberapa tulang.

6. Berdasarkan teks di atas, Berilah tanda centang (✓) pada kolom yang sesuai.

Nama Tulang	Tulang pada lengan manusia	Tulang pada kaki manusia
Tulang lengan atas		
Tulang paha		
Tulang betis		
Tulang hasta		
Tulang tempurung lutut		
Tulang pengumpil		

7. Berilah tanda centang (✓) pada kolom benar atau salah yang termasuk fungsi rangka pada manusia !

Fungsi rangkai	Benar	Salah
tempat melekatnya otot-otot		
Membentuk tulang lengan atas		
Membentuk tulang lengan bawah		
menegakkan tubuh dan memberikan bentuk tubuh		

8. Berilah tanda centang (✓) pada pernyataan berikut yang merupakan gangguan pada tulang belakang akibat posisi duduk yang salah adalah !

posisi duduk yang salah	Benar	Salah
Tulang punggung terlalu bengkok kedepan		
Terjadinya kelainan pada tulang punggung		
Tulang punggung bengkok kekiri atau kekanan		
Tulang punggung terlalu bengkok kebelakan		

SOAL MENJODOHKAN

SBdP

9. Perhatikan teks berikut !





Gambar cerita merupakan gambar atau serangkaian gambar yang mengandung sebuah cerita. Contoh gambar cerita adalah gambar ilustrasi. Gambar ilustrasi merupakan gambar yang mendukung isi sebuah bacaan atau teks. Gambar ilustrasi dibedakan menjadi dua macam, yakni gambar yang berupa foto dan gambar tangan. Penggunaan gambar ilustrasi disesuaikan dengan kebutuhan dan isi bacaan atau teks. Adapun ragam gambar ilustrasi antara lain berupa cergam (cerita bergambar), komik, pamflet, *cover*, kartun, dan karkatur.

Gambar ilustrasi merupakan penggambaran dari sebuah teks. Tujuan ilustrasi adalah untuk memperjelas, memperindah, dan menerangkan isi atau informasi dari sebuah bacaan. Objek gambar ilustrasi dapat berupa gambar manusia, hewan, dan tumbuh-tumbuhan serta benda-benda yang ada di sekitar kita. Objek gambar ini harus disesuaikan dengan isi atau bacaan.



Setelah membaca teks diatas, hubungkan menggunakan garis, sesuai dengan pernyataan teks dengan benar !

Gambar ilustrasi adalah	•	•	berupa gambar manusia, hewan, dan tumbuh-tumbuhan
Objek gambar ilustrasi adalah	•	•	untuk memperjelas, memperindah, dan menerangkan isi atau informasi dari sebuah bacaan
Tujuan ilustrasi adalah	•	•	Penggambaran dari sebuah teks

10. Dari teks di atas, hubungkan menggunakan garis, gambar dan jenis gambar dengan benar!

gambar		Jenis gambar
	•	Dekoratif
	•	Realis
	•	Karikatur
	•	Kartun

11. Hubungkanlah dengan menggunakan garis, cerita berdasarkan gambar cerita berikut dengan benar !

	•	•	Ayah membeli karcis
	•	•	Oni di taman bermain. Oni bersama ayah dan ibu
	•	•	Oni senang. Oni melambaikan tangan kepada ibu
	•	•	Oni naik komidi putar. Oni ditemani ayah

12. Hubungkanlah dengan menggunakan garis, pernyataan berikut dengan benar !

komik	●	●	Gambar dibuat sesuai dengan keadaan sebenarnya
Realis	●	●	Gambar dengan penampilan yang lucu
Kartun	●	●	Gambaran suatu objek dengan cara melebih-lebihkan ciri khas objek tersebut
Karikatur	●	●	Cerita bergambar yang lucu

SOAL ISIAN SINGKAT

PKN

Perhatikan teks berikut!

Prinsip-prinsip gotong royong sangat bermanfaat bagi pelaksanaan pembangunan nasional. Karena semua masyarakat merasa saling memiliki. Masyarakat juga merasa mempunyai tujuan yang sama, yakni terwujudnya kehidupan yang sejahtera. Dengan bergotong royong, segala program pembangunan yang dicanangkan oleh pemerintah akan dapat dilaksanakan dengan baik tanpa adanya gangguan yang disebabkan oleh ketidakharmonisan masyarakat.



13. Gambar diatas merupakan cerminan pancasila sila ke . . .
14. Manfaat kegiatan yang dilakukan pada gambar diatas adalah terwujudnya kehidupan yang... . .
15. Membantu korban bencana alam merupakan pengamalan sila ke . . .
16. Menggunakan hak pilih dalam pemilu merupakan pelaksanaan sila ke . . .

SOAL URAIAN

IPS

Amatilah gambar di bawah ini!



17. Berdasarkan gambar diatas, Pulau apakah yang paling padat penduduknya ?

.....

.....

.....

18. Berdasarkan gambar diatas, jelaskan letak negara Indonesia secara geografis !

.....

.....

.....

Perhatikan teks berikut!

Fauna di Indonesia terdiri dari, yaitu Fauna Bagian Barat, Fauna Bagian Tengah, dan Fauna Bagian Timur. Fauna Bagian Barat dan Tengah dipisahkan oleh Garis Wallace. Fauna Bagian Timur dan Tengah dipisahkan oleh Garis Weber.

19. Setelah membaca teks diatas, tuliskan 3 kelompok fauna di Indonesia!

Jawab:

.....

.....

.....

20. Setelah membaca teks diatas, tuliskan 3 fauna di Indonesia bagian barat!

Jawab:

.....

.....

.....

Selamat bekerja