

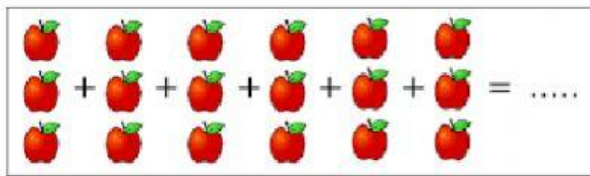
PERKALIAN BERULANG

A. Perhatikanlah Video Pembelajaran di Bawah Ini!



B. Kerjakan Soal di Bawah Ini!

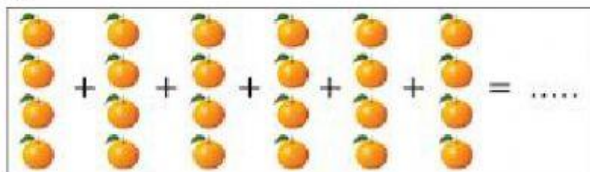
1.



Gambar buah apel di atas jika ditulis dalam operasi perkalian adalah....

- a. $3 + 3 + 3 + 3 + 3 + 3 = 18$
- b. $3 \times 3 \times 3 = 18$
- c. $6 \times 3 = 18$
- d. $3 \times 6 = 18$

2.




Gambar penjumlahan di atas jika ditulis dalam operasi perkalian menjadi

- a. $6 \times 4 = 24$
- b. $4 + 4 + 4 + 4 + 4 + 4 = 24$
- c. $4 \times 6 = 24$

d. $4 \times 4 \times 4 \times 4 \times 4 = 24$


3.



Gambar di atas jika dijadikan bentuk perkalian adalah

- a. 4×2
- b. 2×4
- c. 3×4
- d. 4×3

4.



Bentuk perkalian yang sesuai dengan gambar adalah

- a. $3 \times 6 = 15$
- b. $3 \times 6 = 18$
- c. $6 \times 3 = 18$
- d. $9 \times 3 = 18$

5. $4 + 4 + 4 + 4 + 4 + 4 = \dots \times \dots = \dots$

Titik-titik di atas yang tepat adalah

- a. $6 \times 4 = 24$
- b. $4 \times 6 = 24$
- c. $6 \times 6 = 36$
- d. $5 \times 4 = 20$