






1. RECORDA




1 Unitat



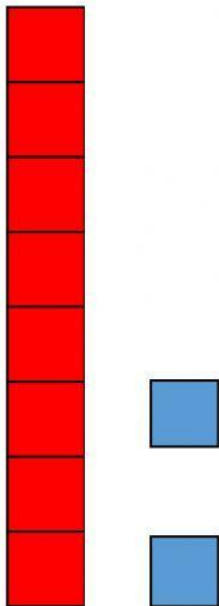
10 UNITATS = 1 DESENA



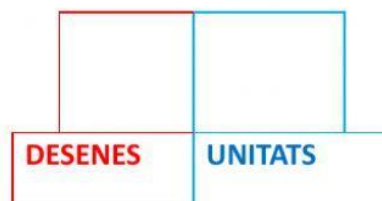
1 DESENA




2. COMPTA I COMPLETA

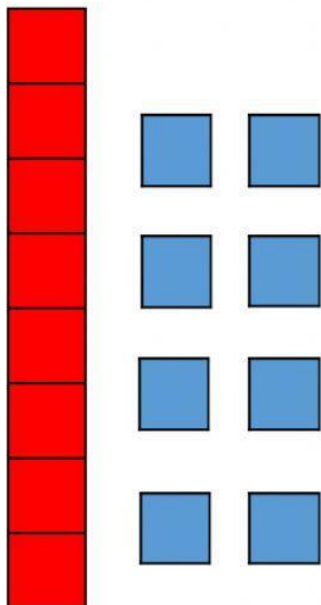
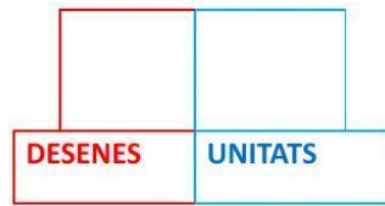


Desena Unitats






Desenes Unitats



Desenes Unitats





1 2 3

3. ESCRIU EL NUMERO QUE FALTA

20		22	25		27
----	--	----	----	--	----

51		53	60		62
----	--	----	----	--	----

33		35	16		18
----	--	----	----	--	----

44		46	28		30
----	--	----	----	--	----

1	2	3	4	5	6	7	8	9	10
11	12	13	14	15	16	17	18	19	20
21	22	23	24	25	26	27	28	29	30
31	32	33	34	35	36	37	38	39	40
41	42	43	44	45	46	47	48	49	50
51	52	53	54	55	56	57	58	59	60
61	62	63	64	65	66	67	68	69	70
71	72	73	74	75	76	77	78	79	80
81	82	83	84	85	86	87	88	89	90
91	92	93	94	95	96	97	98	99	100



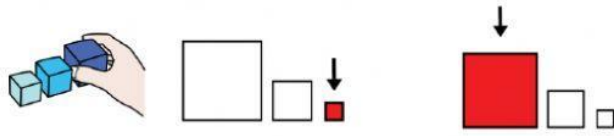
4. RECORDA MAJOR I MENOR

1	2	3	4	5	6	7	8	9	10

MAJOR	MENOR


1	4
MENOR	MAJOR

6	3
MAJOR	MENOR

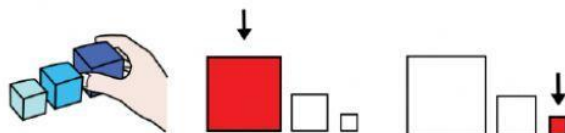


5. ORDENA DE MENOR A MAJOR

2	9	6
----------	----------	----------



1	2	3	4	5	6	7	8	9	10
---	---	---	---	---	---	---	---	---	----



6 ORDENA DE MAJOR A MENOR

6	8	2
----------	----------	----------




1	2	3	4	5	6	7	8	9	10
---	---	---	---	---	---	---	---	---	----



7. PINTA O PREM I DESPRÉS ESCRIU EL RESULTAT


$$10 + 9 =$$

Desena Unitats



$$10 + 1 =$$

Desena Unitats





10. ESCOLTA I RESOL L'OPERACIÓ

EL MEU AVI HA ANAT A RECOLLIR POMES DEL ARBRE DEL SEU JARDÍ. A LA CISTELLA TÉ 4 POMES I A L'ARBRE QUEDEN 6 POMES. ¿QUANTES POMES HI HA EN TOTAL?



AL ARBRE HI HA _____ POMES

A LA CISTELLA HI HA _____ POMES




$$\boxed{} \bigcirc \boxed{} = \boxed{}$$



HI HA _____ POMES EN TOTAL

A LA PRESTATGERIA D'UNA BOTIGA HI HA 10 OSSOS. SI ES VENEN 4 OSSOS. QUANTS OSSOS QUEDEN A LA PRESTATGERIA?



A LA PRESTATGERIA HI HA _____ OSSOS

HA VENUT _____ OSSOS



$$\boxed{} \bigcirc \boxed{} = \boxed{}$$



QUEDEN _____ OSSOS A LA PRESTATGERIA