



PENILAIAN AKHIR SEMESTER GASAL
SEKOLAH DASAR NEGERI PULO LOR I
KECAMATAN JOMBANG KABUPATEN JOMBANG TAHUN
TAHUN PELAJARAN 2022/2023

Nama :	No. Absen :
Mata Pelajaran : TEMA 3	Hari, Tanggal : Rabu, 7 Desember 2022
Kelas : V (lima)	Waktu : 90 menit

PETUNJUK

1. Bacalah basmalah sebelum melakukan pekerjaan
2. Tulislah namamu di sudut kanan atas dengan jelas, rapih, dan bersih
3. Periksa dahulu hasil pekerjaanmu sebelum diserahkan kepada Ibu/Bapak guru
4. Bacalah hamdalah sesudah pekerjaan selesai

A. Berikan tanda silang (x) pada jawaban yang benar !

1. Di bawah ini merupakan salah satu contoh keragaman sosial di lingkungan sekolah yaitu
 - a. Gotong royong membersihkan halaman sekolah
 - b. Mengerjakan tugas teman
 - c. Melihat ibu guru menyapu kelas
 - d. Menyuruh teman membelikan jajan di kantin
2. Dibawah ini merupakan salah satu contoh keragaman sosial di lingkungan masyarakat yaitu, kecuali
 - a. Setiap keluarga di kampung makmur memiliki aturan yang berbeda-beda
 - b. Pada RT.001 sebagian besar bermata pencaharian sebagai petani
 - c. Ketika hari Jum'at pak Rahman selalu menggratiskan dagangannya berupa makanan
 - d. Semua warga RT.009 bermata pencaharian sebagai petani
3. Salah satu contoh dampak positif dari keberagaman sosial budaya yaitu, kecuali
 - a. Menumbuhkan rasa saling menghargai satu sama lain
 - b. Menjadi beban warga masyarakat sekitar
 - c. Menumbuhkan sikap tenggang rasa
 - d. Menjadikan lingkungan desa wisata
4. Salah satu contoh keragaman sosial dalam lingkungan sekolah yaitu, kecuali
 - a. Budi adalah salah satu siswa kurang mampu, tetapi selalu menjadi juara
 - b. Ana seorang siswi yang cantik dengan rambut lurus dan kulit putih
 - c. Ibu guru Rahma memiliki tubuh langsing, sedangkan ibu guru Meli memiliki tubuh yang lebih berisi
 - d. Pak RT melakukan sosialisai mengenai pencegahan penyakit DBD
5. Cara untuk mempererat tali persatuan dan kesatuan adalah
 - a. Menghargai perbedaan dengan cara tidak mengejek teman yang kurang mampu
 - b. Menjauhi teman karena kulitnya hitam
 - c. Memusuhi tetangga karena tidak sependapat
 - d. Membuang sampah bukan pada tempatnya sehingga mengganggu kenyamanan tetangga
6. Sebatang lidi akan mudah dipatahkan, sedangkan segenggam lidi akan sulit dipatahkan. Hal ini menunjukkan bahwa membuat kita kuat.
 - a. sebatang lidi
 - b. segenggam lidi
 - c. persatuan
 - d. keragaman

7. Yang termasuk menghargai keragaman yang tumbuh di masyarakat adalah
- membedakan suku yang satu dengan yang lain
 - mencela tradisi yang tumbuh di masyarakat
 - tidak membanggakan suku sendiri
 - mendukung kegiatan budaya di masyarakat
8. Kerja sama dalam keragaman dibutuhkan dalam hal-hal berikut, *kecuali*
- memenuhi kebutuhan hidup
 - membantu korban bencana alam
 - menyelenggarakan upacara adat
 - mengambil barang milik orang lain
9. Suatu bentuk informasi yang dilakukan oleh seseorang, instansi/ lembaga, atau perusahaan, yang isinya berupa pesan yang menarik tentang sebuah produk atau jasa yang ditujukan kepada khalayak disebut
- informasi
 - iklan
 - pengumuman
 - selebaran
10. Perhatikan gambar dibawah ini!



- Yang termasuk iklan layanan masyarakat terdapat pada gambar
- 1 & 2
 - 1 & 3
 - 3 & 2
 - 1 & 4
11. Karya seni atau desain grafis yang memuat komposisi gambar dan huruf di atas kertas berukuran besar atau kecil yang bertujuan untuk memberikan informasi disebut
- Selebaran
 - Poster
 - brosur
 - baliho
12. Salah satu ciri-ciri poster yang baik adalah, *kecuali*
- mempergunakan bahasa yang mudah dipahami
 - gambar dan kalimat tidak sesuai
 - kalimat poster mengandung ajakan
 - pemberian gambar dan kalimat memiliki perbandingan proporsional

13. Iklan yang penyebarannya melalui media elektronik disebut

- a. Iklan media cetak
- b. Selebaran
- c. Iklan media elektronik
- d. Poster

14. Gambar iklan harus dibuat menarik dan sesuai dengan

- a. isi iklan
- b. pembuat iklan
- c. kata kunci
- d. sasaran iklan

15. Perhatikan iklan berikut!



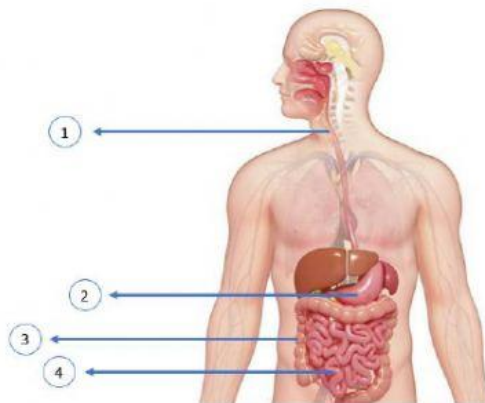
Kalimat iklan yang sesuai dengan gambar tersebut adalah

- a. *Susu mengandung gizi dan nutrisi yang tinggi*
- b. *Belilah susu di toko-toko terdekat*
- c. *Susu "MILK" mampu memenuhi kebutuhan gizi keluarga*
- d. *Minumlah 2 gelas susu setiap hari untuk memenuhi kebutuhan nutrisi*

16. Media yang digunakan untuk menampilkan iklan dalam bentuk suara dan gambar bergerak adalah

- a. televisi
- b. radio
- c. surat kabar
- d. telepon

17. Perhatikan gambar dibawah ini!



Usus halus ditunjukkan dengan nomor

- a. 1
- b. 2
- c. 3
- d. 4

18. Salah satu fungsi sistem pencernaan yaitu, kecuali

- a. menghancurkan makanan yang masuk ke dalam tubuh
- b. membuang sisa-sisa makanan yang sudah tidak diperlukan tubuh
- c. melancarkan peredaran darah
- d. memasok nutrisi dan energi bagi tubuh

19. Salah satu penyakit saluran pencernaan yaitu

- a. Diare
- b. Tetanus
- c. TBC
- d. Osteoporosis

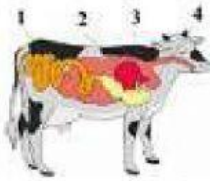
20. Cara pencegahan agar terhindar dari penyakit saluran pencernaan yaitu ...

- a. Makan banyak serat setiap hari
- b. Membeli makanan junkfood
- c. Minum satu gelas setiap hari
- d. Makan daging tanpa sayur setiap hari

21. Makanan yang mengandung protein antara lain

- a. jagung dan nasi
- b. daging dan ketela
- c. daging dan tempe
- d. minyak ikan dan susu

22. Perhatikan gambar berikut!



Lambung sapi bagian omasum ditunjukkan oleh angka

- a. 1
- b. 2
- c. 3
- d. 4

23. Pola makan yang tidak teratur akan menyebabkan penyakit

- a. mag
- b. tifus
- c. diare
- d. usus buntu

24. Sikap yang baik terkait pola makan adalah

- a. hanya makan sayuran saja
- b. menjaga pola makan yang seimbang
- c. banyak mengonsumsi makanan berlemak
- d. tidak mengonsumsi makanan yang berlemak

25. Salah satu contoh kontak sosial dalam kehidupan sehari-hari adalah

- a. Mila berpamitan berangkat sekolah kepada ibu dan ayah
- b. Ketika pulang sekolah Rina langsung pergi bermain tanpa pamitan
- c. Ketika disekolah Roni selalu menyendiri
- d. Ketika dilingkungan masyarakat Nana tidak pernah mengikuti kegiatan pemuda pemudi

26. Perhatikan gambar dibawah ini!



Yang termasuk cara membentuk persatuan dan kesatuan dalam keberagaman budaya pada gambar diatas terdapat pada nomor ...

- a. 1 & 2
- b. 2 & 3
- c. 3 & 4
- d. 2 & 4

27. Dibawah ini merupakan contoh interaksi manusia dengan lingkungan ekonomi, kecuali

- a. Ibu Beni membeli sayuran di pedagang sayur keliling
- b. Bapaknya Beni membuka bengkel sepeda motor disekitar kampus UGM
- c. Ibu Wati membuka warung makan di lingkungan pabrik tekstil
- d. Ibu Sri tidak pernah membeli sayuran selalu memanfaatkan tanaman disekitar rumah

28. Perhatikan gambar dibawah ini!



Yang bukan termasuk interaksi manusia dengan lingkungan sosial, terdapat pada nomor

- a. 1
- b. 2
- c. 3
- d. 4

29. Berikut ini contoh interaksi manusia dengan lingkungan alam adalah, kecuali

- a. Masyarakat pesisir pantai sebagian berprofesi sebagai nelayan
- b. Masyarakat lereng merapi memanfaatkan bukit Klaton sebagai obyek wisata
- c. Masyarakat sekitar pabrik tekstil memanfaatkan kawasan tersebut untuk berjualan makanan
- d. Masyarakat Klaten memanfaatkan sumber mata air yang berlimpah untuk budidaya ikan Nila

30. Berikut ini adalah contoh interaksi sosial, *kecuali*
- Andi dan Siti berdiskusi kelompok
 - Ayu menyapa tetangganya saat lewat
 - Ana sedang membaca buku di kamar
 - Ibu guru sedang mengajar di kelas
31. Dalam alur kegiatan ekonomi, makan sayuran termasuk kegiatan
- konsumsi
 - produksi
 - ekonomi
 - distribusi
32. Pak Doni adalah seorang petani salak. Dalam kegiatan ekonomi, Pak Doni berperan sebagai
- ekonom
 - distributor
 - konsumen
 - produsen
33. Lagu bertangga nada mayor biasanya dinyanyikan dengan
- bersemangat
 - kurang bersemangat
 - sedih
 - terharu
34. Berikut *tidak* termasuk lagu bertangga nada mayor yaitu
- Hari Merdeka
 - Indonesia Raya
 - Halo-Halo Bandung
 - Gugur Bunga
35. Properti tari Kuda Lumping adalah
- topeng dan panah
 - pedang dan kuda kepang
 - pedang dan tombak
 - barong dan topeng
36. Perhatikan gambar berikut!



Properti yang digunakan dalam tarian tersebut adalah

- panah
- keris
- tongkat
- pedang


37. Perhatikan gambar berikut!



Alat batik pada gambar di atas disebut

- a. Gawangan
- b. Malam
- c. canting
- d. bandul

38. Motif batik kawung ditunjukkan oleh gambar



39. Alat musik gitar dimainkan dengan cara

- a. dipukul
- b. digesek
- c. dipetik
- d. ditekan



Tarian di atas berasal dari daerah Sumatra Barat. Properti yang digunakan adalah

- a. piring
- b. panah
- c. pedang
- d. payung