

1. OBSERVAR EL MAPA Y LA POBLACIÓN POR CONTINENTES, ARRASTRAR A LA TABLA EL NÚMERO DE HABITANTES SEGÚN CORRESPONDA



CONTINETE	HABITANTES EN MILLONES
ASIA	
ÁFRICA	
EUROPA	
AMÉRICA	
OCEANÍA	

2. EN BASE A LOS PAÍSES Y CONTINENTES MÁS POBLADOS DEL MUNDO PINCHE EN LA RESPUESTA CORRECTA:

- a) EL CONTINENTE MÁS POBLADO DEL MUNDO ES
- b) EL PAÍS MÁS POBLADO DEL MUNDO ES
- c) EL SEGUNDO CONTINENTE MÁS POBLADO DEL MUNDO ES
- d) EL SEGUNDO PAÍS MÁS POBLADO DEL MUNDO ES
- e) EL CONTINENTE MENOS POBLADO DEL MUNDO ES
- f) EL QUINTO PAÍS MÁS POBLADO DEL MUNDO ES

1. OBSERVAR, ANALIZAR EL MAPA DE LOS INDICADORES DEMOGRÁFICOS DE LA PÁGINA 70 DEL TEXTO INTEGRADO Y SELECCIONAR LA RESPUESTA CORRECTA:

- a) ¿En qué continente hay mayor tasa de natalidad?
- b) ¿Cuál es el continente que tiene mayor tasa de mortalidad?
- c) ¿En qué continente hay menor tasa de natalidad?
- d) ¿En qué continente hay menor tasa de mortalidad?

2. LEER LOS CONCEPTOS, RELACIONAR Y UNIR CON LÍNEAS

NATALIDAD

Indica la media de hijos que tiene una mujer en un determinado territorio

MORTALIDAD

Indica el número de matrimonios celebrados en un año determinado territorio

NUPCIALIDAD

Indica el número de fallecimientos que se producen en un determinado territorio durante un período concreto de tiempo (que suele ser un año).

ESPERANZA DE VIDA AL NACER

Indica el número de nacimientos que se producen en un determinado territorio durante un período concreto (que suele ser un año).

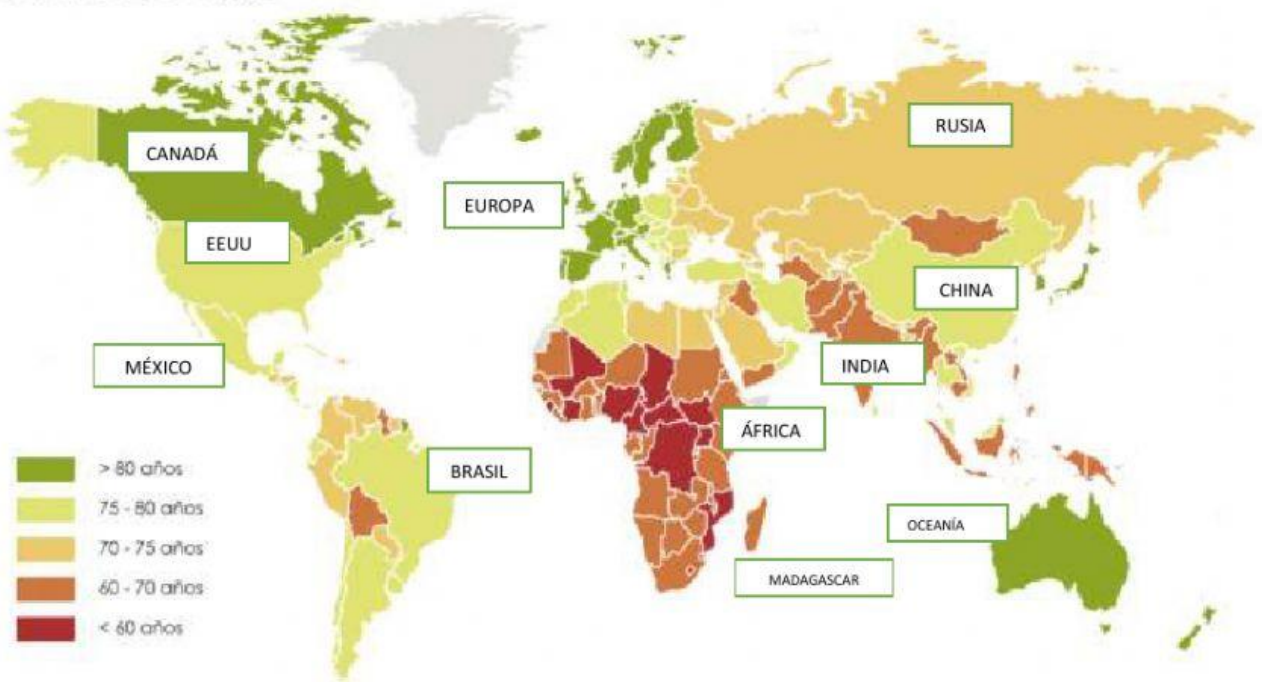
FECUNDIDAD

Es la media de años que una persona puede esperar vivir, calculada en el momento de su nacimiento.

1. OBSERVAR EL MAPA SOBRE LA ESPERANZA DE VIDA AL NACER, LEER LOS ENUNCIADOS Y PINCHAR EN LA RESPUESTA CORRECTA

Años de vida en función del país de nacimiento

Esperanza de vida

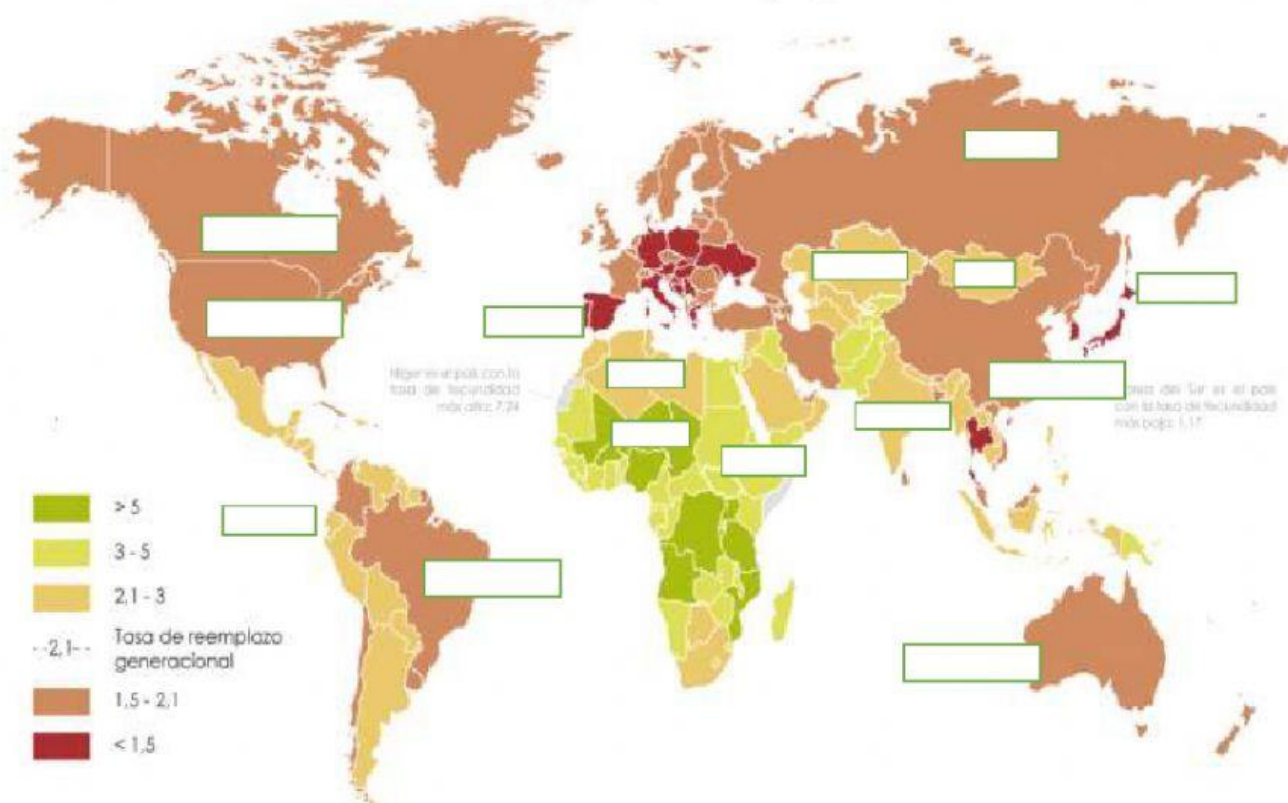


3. EN BASE A LOS DATOS DEL MAPA SOBRE LA ESPERANZA DE VIDA AL NACER, LEER LAS AFIRMACIONES Y PINCHAR EN LA RESPUESTA CORRECTA:

- a. En Europa la esperanza de vida al nacer es de
- b. En la India la esperanza de vida al nacer es de
- c. En Estados Unidos la esperanza de vida al nacer es de
- d. En el Ecuador la esperanza de vida al nacer es de
- e. En África la esperanza de vida al nacer es de
- f. En China la esperanza de vida al nacer es de
- g. En Rusia la Esperanza de vida al nacer es de
- h. En los países ricos y desarrollados la esperanza de vida al nacer es
- i. En los países pobres la esperanza de vida al nacer es

4. OBSERVAR, ANALIZAR EL MAPA Y ESCRIBIR EL PROMEDIO DE HIJOS POR MADRE SEGÚN COMO CORRESPONDA

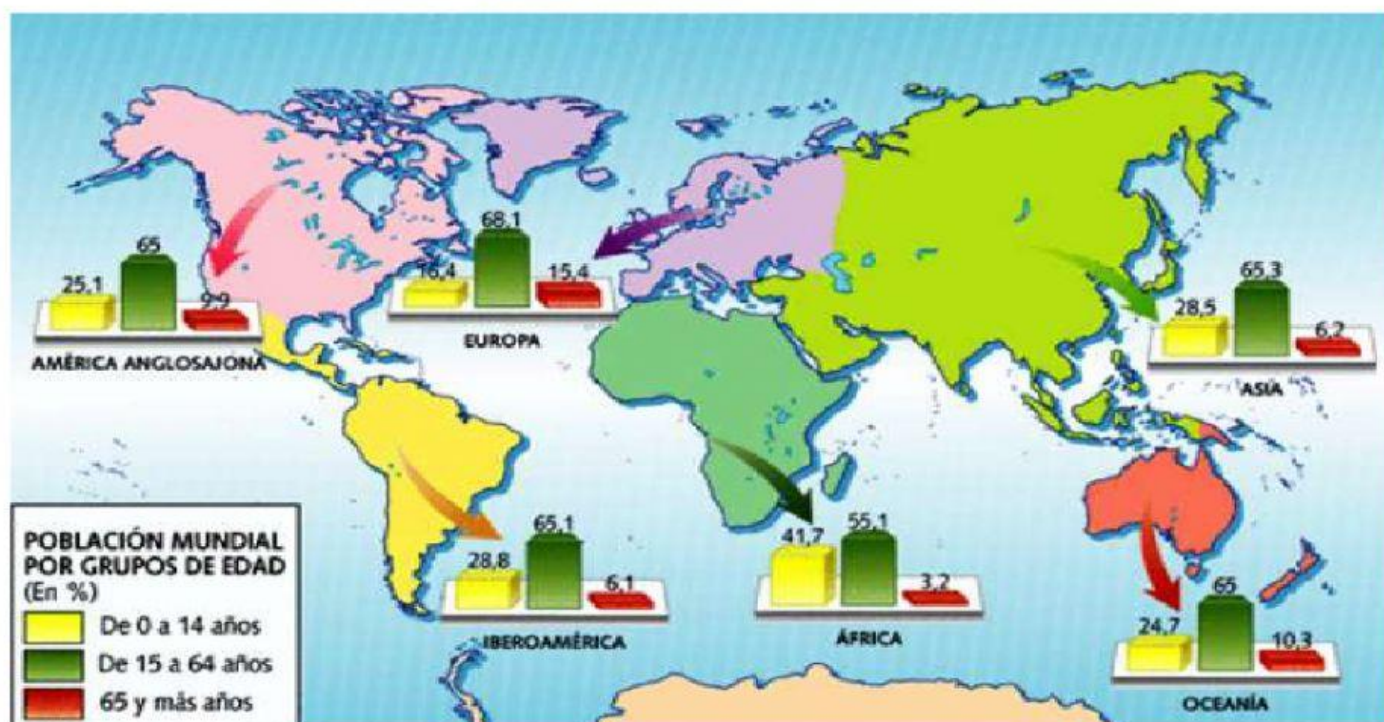
¿Cuántos hijos tiene una mujer de media en el mundo?
Índice sintético de fecundidad (hijos por mujer)



Cartografía:
Álvaro Merino (2019)
Fuente:
Instituto de Estadística de la Unesco (2014)

EOM
elordenmundial.com

5. OBSERVAR, ANALIZAR EL MAPA, LEER LOS ENUNCIADOS Y PINCHAR EN LA RESPUESTA CORRECTA



- El continente que tiene mayor población de entre 0 a 14 años es
- El continente que tiene menor población entre 0 a 14 años es
- El continente que tiene más población de la tercera edad es
- El continente que tiene menor población de la tercera edad es
- El continente que tiene más población de entre 15 a 64 años es
- El continente que tiene menos población de entre 15 a 64 años es

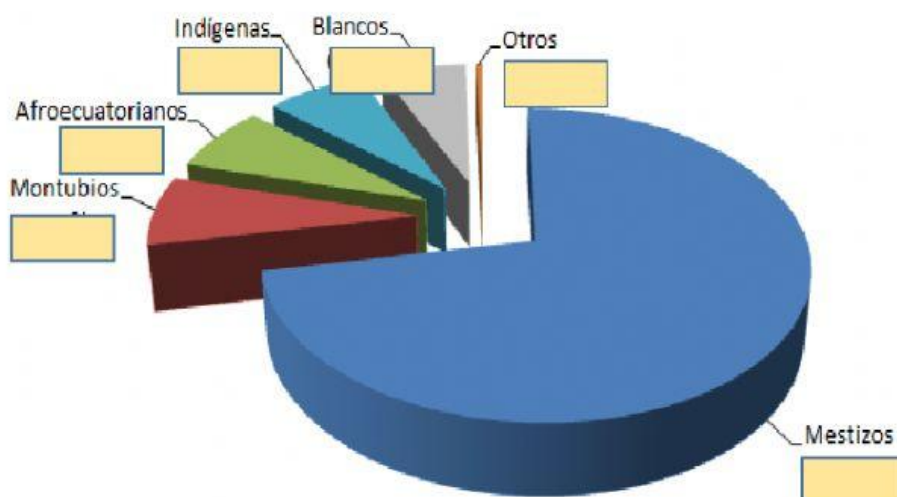
6. ANALICE EL SIGUIENTE CUADRO SOBRE LA POBLACIÓN POR EDADES Y AÑOS Y PINCHE EN VERDADERO O FALSO SEGÚN SEA LA RESPUESTA

POBLACIÓN DEL ECUADOR POR EDADES			
Fecha	0-14 años %	15-64 años %	> 64 años %
2020	27,39%	65,02%	7,59%
2019	27,71%	64,92%	7,37%
2018	28,03%	64,81%	7,16%
2017	28,36%	64,69%	6,95%

- a) En el año 2020 hubo más personas de la tercera edad que niños.....
- b) En el año 2020 el porcentaje de la población de entre 15-64 fue menor que en el 2017..
- c) Desde el 2017 al 2020 la población de entre 15-64 siempre fue mayor a la de los niños y adultos mayores.....
- d) Desde el 2017 al 2020 la población de la tercera edad fue siempre menor que la de niños..

7. EN BASE A LA TABLA DE LA COMPOSICIÓN ETNOGRÁFICA DEL ECUADOR ARRASTREA HACIA EL GRÁFICO EL PORCENTAJE CORRECTO:

ETNIA	PORCENTAJE
MESTIZOS	71,9%
MONTUBIOS	7,4%
AFRODESCEDIENTES	7,2%
INDÍGENAS	7%
BLANCOS	6,1%
OTROS	0,4%



2. LEER LOS ENUNCIADOS, ANALIZAR Y PINCHAR EN LA V SI LA RESPUESTA ES VERDADERA O EN LA F SI LA RESPUESTA ES FALSA:

a. En el Ecuador hay un alto porcentaje de personas de entre 95 - 99 años	V	F
b. En el Ecuador el porcentaje de hombres y mujeres es similar	V	F
c. En el Ecuador el porcentaje de hombres de entre 10-14 años es de 0.2% y el de mujeres es de 0.3%	V	F
d. En el Ecuador hay más hombres que mujeres	V	F
e. En el Ecuador hay más mujeres que hombres	V	F
f. En el Ecuador la población entre 0 a 14 años es menor que los otros grupos de edades	V	F
g. En el Ecuador la población de entre 15 a 64 años es mayor que la de los otros grupos de edades	V	F