

Reparto y división

1 Une la división y la multiplicación que están relacionadas.

$35 \div 5$

$48 \div 6$

$72 \div 8$

$55 \div 5$

$36 \div 6$

8×6

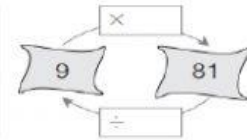
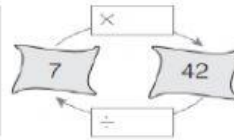
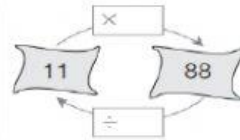
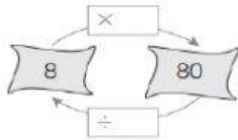
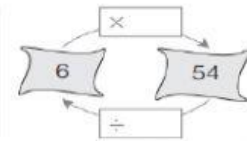
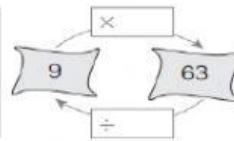
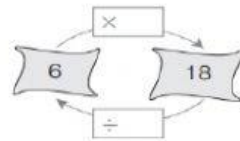
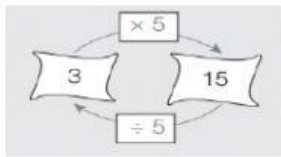
11×5

7×5

6×6


9×8

2 Identifica los términos que faltan y completa los esquemas. Observa el ejemplo.




Lee atentamente cada situación. **Reparte** en partes iguales para encontrar la respuesta correcta a cada pregunta.

- a. Hay 12 galletas y cuatro niñas. ¿Cuántas galletas le corresponde a cada niña?




Cada niña recibe galletas.

- c. Hay 20 zanahorias y cinco conejos. ¿Cuántas zanahorias le corresponden a cada conejo?



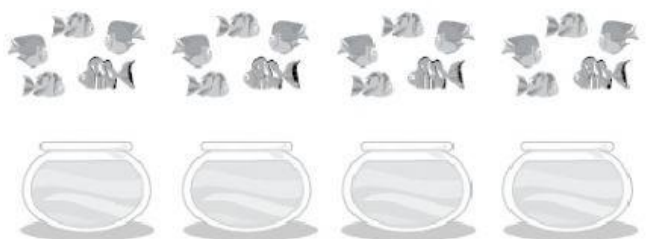
Cada conejo recibe zanahorias.

- b. Hay 12 flores y dos niñas. ¿Cuántas flores le corresponde a cada niña?



Cada niña recibe flores.

- d. Hay 20 peces y cuatro peceras. ¿Cuántos peces se colocarán en cada pecera?



Se colocarán peces en cada pecera.