

1. Tính giá trị của biểu thức (theo mẫu)

$$\begin{aligned} \text{Mẫu: } 30 : (20 - 14) &= 30 : 6 \\ &= 5 \end{aligned}$$

$$\text{a) } 45 : (5 + 4)$$

$$\text{b) } 8 \times (11 - 6)$$

$$\text{c) } 42 - (42 - 5)$$

Lời giải:

$$\text{a) } 45 : (5 + 4)$$

=

=

$$\text{b) } 8 \times (11 - 6)$$

=

=


$$\text{c) } 42 - (42 - 5)$$

=

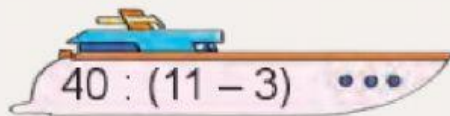
=

2. Chọn số là giá trị của mỗi biểu thức:


$$(15 + 5) : 5$$


$$32 - (25 + 4)$$


$$16 + (40 - 16)$$


$$40 : (11 - 3)$$

3

40

4

5



Vận dụng

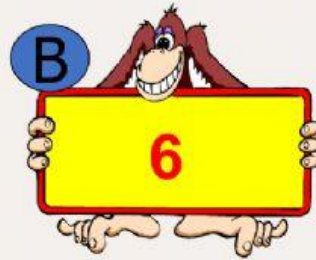
$$(20 + 5) : 5 =$$



$$32 - (20 + 4)$$



$$42 : (11 - 4) =$$



TẠM BIỆT VÀ HẸN GẶP LẠI

